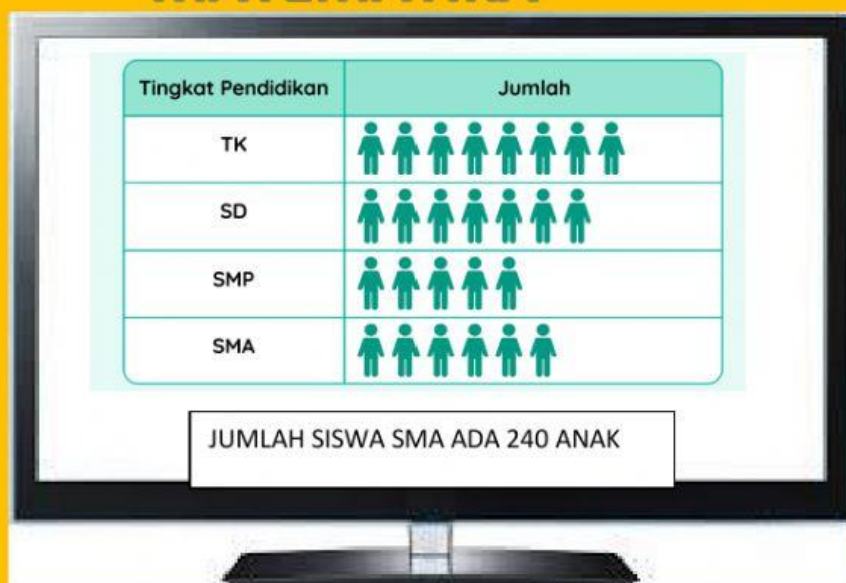






LEMBAR KERJA MATEMATIKA

NAMA :

NO:



1. Berapa banyak siswa kelas TK?
2. Berapa selisih antara siswa TK dan SMP?
3. Berapa jumlah siswa SD?
4. Berapa jumlah siswa dari TK sampai SMA?

Minggu ke-	Gambar	Banyak Pengunjung
1	
2	
3	
4	



mewakili 25 orang

125

150

175

125

135

Tercatat banyak warga yang datang selama satu pekan pada kegiatan pembangunan monumen:

10 15 12 15 13 13 13

Nyatakan benar atau salah pernyataan berikut:







- 1) 10 merupakan data terendah.
- 2) 15 merupakan modus.




Berikut data usia (dalam tahun) warga yang ikut bergotong royong selama 20 hari membangun monumen pahlawan.

30	32	32	40	33	32	35	30	35	30
35	36	35	32	36	35	31	32	32	35

Nyatakan benar atau salah pernyataan berikut:

- 1) 32 merupakan modus.
- 2) 40 merupakan data terendah.
- 3) 35 merupakan modus.

Hari	Gambar	Banyak Siswa
Senin		<input type="text" value="95"/>
Selasa		<input type="text" value="20"/>
Rabu		<input type="text" value="70"/>
Kamis		<input type="text" value="75"/>
Jumat		<input type="text" value="110"/>
Sabtu		<input type="text" value="45"/>

 mewakili 50 siswa
 mewakili 10 siswa
 mewakili 5 siswa