



Ministero dell'Istruzione



Istituto nazionale per la valutazione
del sistema educativo di istruzione e di formazione

PROVA DI MATEMATICA - Scuola Primaria - Classe Seconda - Fascicolo 1

Rilevazione degli apprendimenti

PROVA DI MATEMATICA

Scuola Primaria

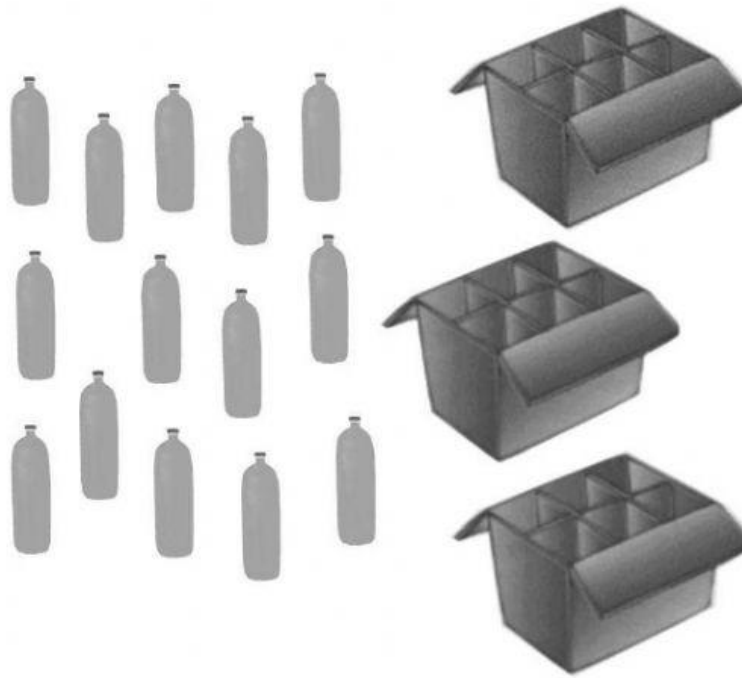
Classe Seconda

Fascicolo 1



Spazio per l'etichetta autoadesiva


D22. Osserva l'immagine.



**Giorgio vuole mettere sei bottiglie in ogni scatola.
Quante bottiglie gli mancano per riempire le tre scatole?**

- A. 18
- B. 6
- C. 4

D23. Osserva il termometro.



Quale temperatura segna il termometro?

- A. 20 gradi
- B. 25 gradi
- C. 30 gradi

D24. Carla disegna dei cuori nelle caselle, lasciando tra un cuore e l'altro sempre una sola casella vuota sia in orizzontale sia in verticale.


Carla non ha completato il suo disegno.

| | | | | | | |
|---|---|---|---|---|---|---|
| 6 | ♥ | | ♥ | | ♥ | |
| 5 | | ♥ | | ♥ | | ♥ |
| 4 | ♥ | | ♥ | | | |
| 3 | | | | | | |
| 2 | | | | | | |
| 1 | | | | | | |
| | A | B | C | D | E | F |

In quale delle seguenti caselle Carla non disegnerà un cuore?

- A. Nella casella (C, 2)
- B. Nella casella (D, 2)
- C. Nella casella (E, 2)

D25. Angela sta guardando un video.



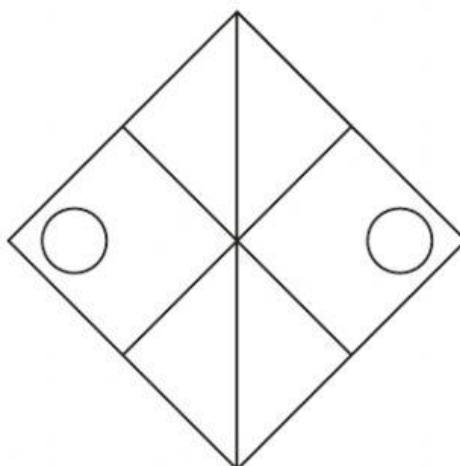
Il video completo dura 6 minuti.

Angela ha già visto 3 minuti e 10 secondi del video.

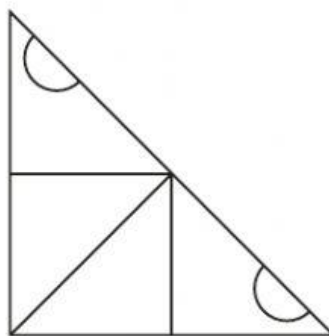
Quanto tempo manca alla fine del video?

- A. 3 minuti
- B. Più di 3 minuti
- C. Meno di 3 minuti

D26. Matteo ha disegnato questa figura.



Poi l'ha tagliata in due pezzi. Ecco un pezzo:



Qual è l'altro pezzo?

| | | |
|------------------------------------|------------------------------------|------------------------------------|
| | | |
| <p>A. <input type="checkbox"/></p> | <p>B. <input type="checkbox"/></p> | <p>C. <input type="checkbox"/></p> |