

**Phòng Giáo dục và Đào tạo .....**  
**Đề thi Học kì 2 - Kết nối tri thức**

**Năm học 2021 - 2022**

**Bài thi môn: Toán lớp 2**

*Thời gian làm bài: phút*

*(không kể thời gian phát đề)*

**(Đề số 1)**

**Phần 1: Trắc nghiệm (3 điểm)**

**Khoanh tròn vào chữ cái đặt trước đáp án đúng.**

**Câu 1:** Phép so sánh nào dưới đây là đúng?

A.  $237 > 273$

B.  $310 < 300$

C.  $690 = 609$

D.  $821 < 841$

**Câu 2:** Đồ vật sau đây có dạng khối nào?



A. Khối lập phương

B. Khối hộp chữ nhật

C. Khối cầu

D. Khối trụ

**Câu 3:** Trong hộp có 2 quả bóng xanh và 1 quả bóng đỏ. Nam nhắm mắt và lấy ra 2 quả bóng ở trong hộp. Hỏi khả năng cả 2 quả bóng Nam lấy ra đều là bóng màu xanh là có thể, không thể hay chắc chắn xảy ra?

A. Không thể

B. Có thể

C. Chắc chắn

**Câu 4:** Phép tính nào dưới đây có kết quả lớn nhất?

A.  $5 \times 3$

B.  $2 \times 7$

C.  $2 \times 10$

D.  $5 \times 2$

**Câu 5:** Chọn câu trả lời thích hợp.

Quãng đường từ nhà Mai đến trường dài khoảng:

A. 2km

B. 2mm

C. 2cm

D. 2dm

**Câu 6:** Kết quả của phép tính  $132 + 419$  bằng bao nhiêu?

A. 551

B. 541

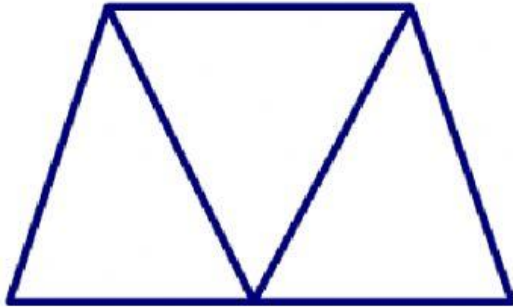
C. 540

D. 451

**Phần 2: Tự luận (7 điểm)**

**Câu 1:** Tìm hiệu của số lớn nhất có ba chữ số khác nhau và số bé nhất có ba chữ số.




**Câu 2:** Có bao nhiêu hình tứ giác trong hình sau?




**Câu 3:** Khu vườn A có 125 cây vải, khu vườn B có nhiều hơn khu vườn A 68 cây vải. Hỏi khu vườn B có bao nhiêu cây vải?

**Câu 4:** Quan sát biểu đồ tranh sau rồi trả lời các câu hỏi:

Số sách các lớp quyên góp

Lớp 2A	
Lớp 2B	
Lớp 2C	

Mỗi  biểu thị cho 5 quyển sách

a) Lớp 2C quyên góp được bao nhiêu quyển sách?

b) Lớp nào quyên góp được nhiều sách nhất, lớp nào quyên góp được ít sách nhất?