




EVALUACIÓN MENSUAL DE GEOMETRÍA

Nombres y apellidos:


Grado 2º Grado

Prof.: Johanna Uypan

1.- Arrastra cada figura geométrica con el nombre que le corresponde:




OCTÁGONO



CUADRADO




TRIÁNGULO



PENTÁGONO



HEXÁGONO



RECTÁNGULO

2.- Relaciona:

Triangulo

Tiene cuatro lados iguales, cuatro ángulos rectos y cuatro

Cuadrado

Tiene cinco lados, cinco ángulos y cinco vértices.

Rombo

Tiene cuatro lados iguales y ángulos opuestos-

Pentágono

Tiene tres lados, tres ángulos y tres vértices.

3.- Escribe la parte del polígono que se está señalando

