


PROVO ANCH'IO

**su modello
invalsi**



2

MATEMATICA

CONSOLIDARE LE COMPETENZE

PROVA 2A: NUMERI

 **LIVEWORKSHEETS**

NUMERI

1. Quale numero manca alla seguente successione di numeri?

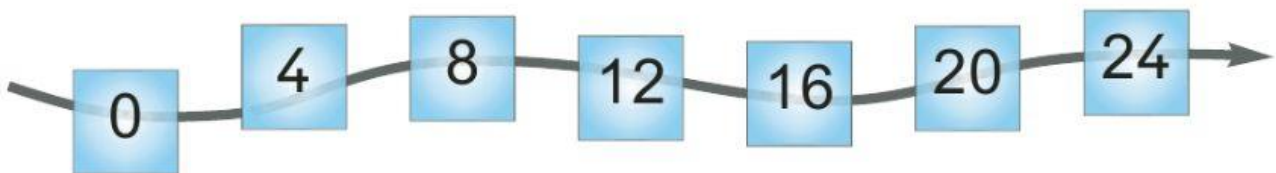


- A. 74
B. 70
C. 66

2. Quale numero corrisponde a 4 decine?

- A. 04
B. 4
C. 40

3. Osserva la seguente successione di numeri.



Qual è la regola per passare da un numero al successivo?

- A. + 4
B. + 3
C. + 1

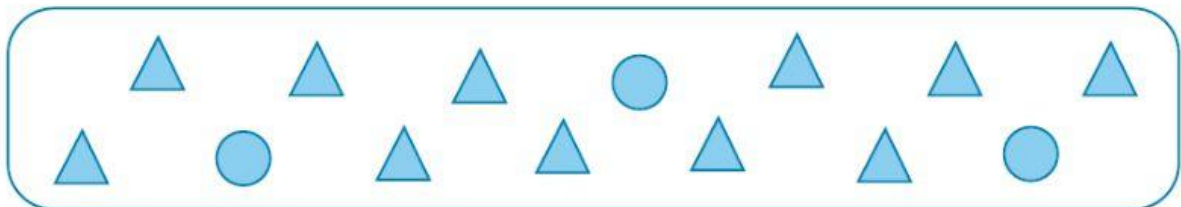
4. In una gara di corsa Matteo è arrivato secondo e Luca è arrivato quinto. Quanti bambini sono arrivati dopo Matteo e prima di Luca?

Risposta:

5. Osserva quanto valgono i seguenti gettoni.



Quanto vale questo gruppo di gettoni?



- A. 14
- B. 26
- C. 25
-
6. Quale numero corrisponde a 5 decine e 7 unità?
- A. 50
- B. 75
- C. 57

OBIETTIVO: riconoscere i numeri corrispondenti alle decine e unità indicate.

7. In quale gruppo i numeri sono stati scritti in ordine dal minore al maggiore?

A. 8 18 28

B. 28 18 8

C. 8 28 18

8. Quale tra i seguenti numeri è il minore?

A. quarantatré

B. trentuno

C. diciassette

9. Chi dice la verità?

A. Francesco



Sei è maggiore di dieci.

B. Federico



Quindici è minore di sedici.

C. Arianna



Diciotto è minore di sedici.

10. Quale tra le seguenti frasi è falsa?

- A. Venti è maggiore di venti.
B. Ventotto è maggiore di otto.
C. Tredici è minore di trentuno.
-

11. Dove puoi leggere «50 è maggiore di 30»?

- A. $50 < 30$
B. $50 = 30$
C. $50 > 30$
-

12. In quale riquadro il confronto è esatto?

a $24 < 42$ b $24 = 42$ c $24 > 42$

- A. a
B. b
C. c
-

13. Quale dei seguenti confronti è sbagliato?

- A. $78 > 68$
B. $41 = 14$
C. $85 < 95$