



PEMERINTAH PROVINSI DAERAH KHUSUS IBUKOTA JAKARTA

SDN PELA MAMPANG 11 PAGI

Jl. Pondok Jaya VI No. 1, Pela Mampang, Mampang Prapatan

Jakarta Selatan, 12720 Telp. 021-7193384

---

**UJI COBA UJIAN SEKOLAH  
TAHUN PELAJARAN 2021-2022**

**Mata Pelajaran** : Seni Budaya dan Prakarya (SBdP)      **Hari/Tanggal** : Kamis, 31 Maret 2022

**Nama** : .....      **Waktu** : 07.00-08.30

---

**Petunjuk pengerjaan:**

1. Isikan identitasmu pada lembar kerja daring atau pada lembar jawaban
2. Periksa dan bacalah soal dengan teliti sebelum menjawabnya
3. Pilihlah salah satu jawaban A, B, C, atau D yang tepat
4. Tersedia waktu selama 120 menit ( 2 jam) untuk menjawab soal
5. Jumlah soal sebanyak 40 butir dalam bentuk pilihan ganda sebanyak 35 butir soal, isian 5 butir soal, dan uraian 5 butir soal
6. Laporkan kepada pengawas ruang jika terdapat soal yang kurang jelas
7. Periksa kembali pekerjaanmu sebelum meninggalkan ruang ujian

---

**SELAMAT MENGERJAKAN!**

---

**I. Tuliskan pilihan jawaban yang benar di dalam kotak di samping soal!**

1. Alat musik dibawah ini yang berasal dari DKI Jakarta adalah ....
  - A. Tanjidor dan Angklung
  - B. Kolintang dan Angklung
  - C. Tanjidor dan Kromong
  - D. Angklung dan Gitar
2. Pengertian tanda dinamik dalam musik adalah ...
  - A. nyaring dan lembutnya nada.
  - B. nada yang berjenjang.
  - C. tinggi rendah suatu nada.
  - D. jarak antara 2 nada
3. Tanda dinamika *Decrescendo* (>) mempunyai arti ....
  - A. suara yang dihasilkan bertahap keras
  - B. suara yang dihasilkan bertahap nyaring.
  - C. suara yang dihasilkan bertahap lembut nyaring.
  - D. suara yang dihasilkan bertahap lembut.
4. Dalam memainkan alat music pianica,keras dan lembutnya bunyi nada yang dihasilkan tergantung dari ....
  - A. Keras lembutnya menekan tuts
  - B. Keras lembutnya tiupan
  - C. Panjang dan pendeknya pipa lentur
  - D. Cepat dan lambatnya tiupan

5.



1



2



3



4

Alat musik yang dimainkan dengan cara yang sama ditunjukkan oleh nomor....

- A. 1 dan 2
- B. 1 dan 3
- C. 2 dan 3
- D. 2 dan 4

6. Perhatikan gambar berikut!



Alat musik pada gambar tersebut dimainkan dengan cara....

- A. dipukul
- B. digesek
- C. ditiup
- D. dipetik

7. Perhatikan lirik lagu di bawah ini!

*Kicir kicir ini lagunya  
Lagu lama ya tuan dari Jakarta  
Saya menyanyi ya tuan memang sengaja*

....

Lirik yang tepat untuk melengkapi lagu tersebut adalah....

- A. Untuk menghibur menghibur hati nan duka
- B. Badanlah sehat ya tuan hati gembira
- C. Terbanglah cepat ya tuan tiada tara
- D. Pasti menjadi menjadi warga berguna

8. Perhatikan gambar interval nada berikut!

Perhatikan interval nada pada solmisasi tangga nada berikut!

C	D	E	F	G	A	B	C
1	2	3	4	5	6	7	1
Do	Re	Mi	Fa	Sol	La	Si	Do
	1	1	½	1	1	1	½

Interval nada dari do – mi adalah . . . .

- A. ½
- B. 1
- C. 2
- D. 3

9. Perhatikan gambar berikut!



Jenis karya seni terapan pada gambar adalah ....

- A. patung
- B. lukisan
- C. anyaman
- D. kolase

10. Perhatikan gambar berikut!



Karya seni tersebut menggunakan teknik ....

- A. makrame
- B. mozaik
- C. meronce
- D. kolase

11. Perhatikan gambar di bawah ini!

Karya seni rupa pada gambar tersebut adalah motif batik....

- A. Pucuk rebung
- B. Salakanegara
- C. Nusa kelapa
- D. Marunda



12. Proses membatik dengan cara mengikat sebagian kain dinamakan batik....

- A. cap
- B. tulis
- C. celup ikat
- D. cetak

13. Salah satu bahan yang digunakan untuk pembuatan kerajinan anyaman yaitu....

- A. Tanah liat
- B. bambu
- C. kayu
- D. biji-bijian


14. Berikut ini yang termasuk karya seni rupa dua dimensi dan tiga dimensi adalah ....

- A. guci dan gambar
- B. guci dan patung
- C. lukisan dan ukiran
- D. kolase dan lukisan

15. Perhatikan gambar berikut!



(1)



(2)



(3)

Gambar yang termasuk karya seni rupa 3 dimensi adalah ....

- A. (1) dan (3)
- B. (1) saja
- C. (2) dan (3)
- D. (1) dan (2)

16. Bagi seorang penari, penjiwaan dan ekspresi wajah saat menari sangatlah penting.

Ekspresi penari yang memerankan tokoh Rahwana pada tari Kecak adalah ....

- A. bahagia
- B. marah
- C. sedih
- D. tertekan

17. Perhatikan gambar berikut !



Nama tarian daerah yang menggunakan properti di atas adalah tari ....

- A. Sirih kuning
- B. Yapong
- C. Topeng
- D. Ondel-ondel

18. Tari akan lebih hidup jika ada iringan musik. Jenis musik iringan Tari Yospan adalah ....

- A. gambang kromong
- B. gamelan
- C. Tepukan tangan
- D. tifa

19. Keunikan gerak tari Saman yang berasal dari Aceh adalah ....

- A. Gerakan mata yang lincah
- B. Tepukan tangan dan gerakan badan yang kompak
- C. lemah gemulai
- D. gerakan tangan ke atas secara bersamaan

20. Perhatikan gambar berikut!



Arti simbol sayap yang terkandung dalam tarian tersebut adalah ....

- A. Menceritakan kegiatan petani
- B. Menceritakan sebuah kerajaan
- C. Menceritakan burung merak
- D. Menceritakan keindahan kupu-kupu

21. Tarian yang berasal dari Bali adalah ....

- A. Kecak, Pendet
- B. Seudati, Serimpi
- C. Sirih Kuning, Kecak
- D. Saman, Seudati

22. Pola lantai pada gerakan tari Saman adalah ....

- A. horisontal
- B. zig-zag
- C. lingkaran
- D. diagonal


23. Budaya Indonesia sangat beragam, salah satunya adalah kain tradisional. Hasil kerajinan kain yang berasal dari daerah Minang Kabau Sumatera Selatan adalah....

- A. Ulos
- B. Songket
- C. Tenun
- D. Lurik

24. Peranan alat batik sangat penting untuk menunjang keberhasilan dalam kegiatan membatik. Salah satu alat untuk membuat batik tulis adalah ....

- A. canting, pahat
- B. canting, dingklik
- C. kuas, palu
- D. pahat, kuas

25. Perhatikan gambar berikut!



Nama ragam hias pada gambar di atas adalah ragam hias ....

- A. geometris
- B. fauna
- C. flora
- D. Figuratif

26. Perhatikan gambar berikut!



Benda pada gambar terbuat dari bahan ....

- A. batu
- B. tanah liat
- C. kayu
- D. bambu

27. Kerajinan meronce bisa memakai bahan dasar dari alam seperti ....

- A. manik-manik
- B. sedotan plastik
- C. plastic bekas
- D. potongan kayu

28. Keterampilan mekrame menggunakan bahan utama ....

- A. kertas
- B. bambu
- C. kayu
- D. tali

29. Berikut ini yang merupakan hasil dari kerajinan anyaman adalah



30. Kekuatan karya kerajinan mainan beroda terletak pada ....

- A. harga dan warna
- B. bahan dan harga
- C. bahan dan warna
- D. bahan dan konstruksi


**II. Kerjakan soal di bawah ini dengan jelas dan benar!**

31. Jarak antara dua nada dinamakan ....
32. Lagu Keroncong Kemayoran berasal dari daerah ....
33. Perhatikan gambar !



Gambar tersebut merupakan karya seni ....

34. Tari Yospan adalah tarian yang memiliki pola lantai . . . .
35. Perhatikan gambar !



Teknik atau cara membuat karya seni tersebut dibuat dengan cara . . . .

**III. Kerjakan soal di bawah ini dengan jelas dan benar!**

36. Apakah arti dari tangga nada?
37. Sebutkan ciri ciri karya seni 3 dimensi!
38. Tuliskan 3 (tiga) tarian yang menggunakan pola lantai garis melengkung!
39. Tari Kupu-kupu adalah salah satu tari kreasi daerah. Jelaskan salah satu gerakan pada tari Kupu-kupu!
40. Tuliskan 3 benda seni yang dibuat dengan cara meronce !