

1 a) Số ?

	Trăm	Chục	Đơn vị	Viết số

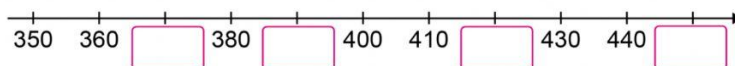

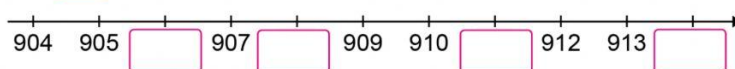
b) Trả lời các câu hỏi:

- Số 451 gồm trăm, chục và đơn vị.

- Số 308 gồm trăm, chục và đơn vị.

- Số 270 gồm trăm, chục và đơn vị.

2 Số ?



3 ?

367 421 608 680 242 242

245 319 666 88 900 99

4 Cho các số:




a) Tìm số lớn nhất.

b) Tìm số bé nhất.

c) Sắp xếp các số trên theo thứ tự từ bé đến lớn.

--	--	--	--

5 Em hãy ước lượng có bao nhiêu chấm tròn trong hình dưới đây:



Trả lời: Có chấm tròn.