



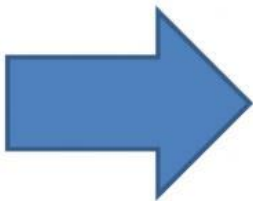
SEKOLAH DASAR BUKIT AKSARA
PENILAIAN TENGAH SEMESTER II
2021 / 2022

Mata Pelajaran : Matematika
Kelas : IV (Empat)
Hari / tanggal : Kamis, 24 Maret 2022

Nama :
No/Kls : /
Waktu : -

I. Pasangkan gambar di bawah ini dengan pernyataan yang sesuai !

1.



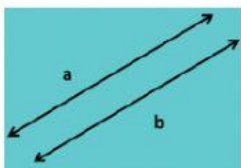
Segi banyak beraturan

2.



Segi banyak tidak beraturan

3.




Berpotongan

4.



sejajar

5.



Berimpit

II. Jawablah pertanyaan di bawah ini !

1. $32 \text{ m} = \dots \text{ cm}$
2. $45.000 \text{ mm} = \dots \text{ dm}$
3. $45 \text{ km} + 80.000 \text{ cm} = \dots \text{ dam}$
4. $67 \text{ dam} - 700 \text{ dm} = \dots \text{ dm}$
5. $4 \text{ kg} = \dots \text{ ons}$

6. $8.000 \text{ kg} = \dots$ kuintal

7. $100 \text{ ons} - 10 \text{ pon} = \dots$ kg

Untuk soal no 8 dan 9 :



8 cm

8. Keliling dari bangun di atas adalah \dots cm

9. Luas dari bangun di atas adalah \dots cm^2

Untuk soal no 10 dan 11 :



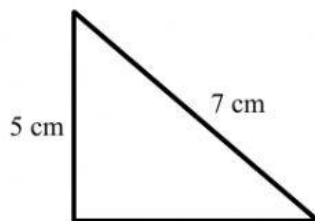
6 cm

9 cm

10. Keliling dari bangun di atas adalah \dots cm

11. Luas dari bangun di atas adalah \dots cm^2

Untuk soal no 12 dan 13 :



5 cm

7 cm

8 cm

12. Keliling dari bangun di atas adalah \dots cm

13. Luas dari bangun di atas adalah \dots cm^2

14. Kolam ikan Pak Arman berbentuk persegi panjang dengan ukuran panjang 10 m dan lebar 12 m.

Keliling kolam ikan Pak Arman adalah \dots m.

15. Meja belajar Rina berbentuk persegi dengan panjang sisi 300 cm. meja tersebut akan ditutup dengan kertas. Luas kertas yang dibutuhkan untuk menutup meja adalah \dots m^2