




AGGIUNGI +

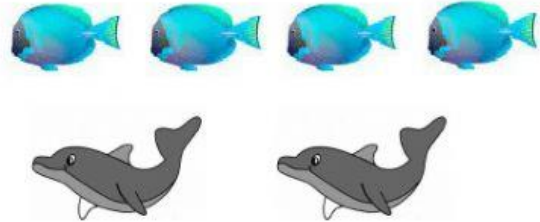
TOGLI -

## SCRIVI L'OPERAZIONE




CI SONO TRE BALENE E QUATTRO PESCI.  
QUANTI SONO GLI ANIMALI?

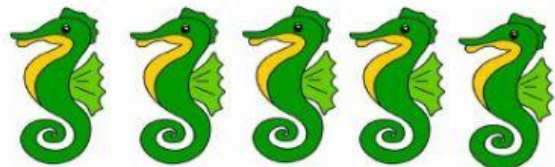
$$3 + 4 = 7$$



CI SONO QUATTRO PESCI E DUE DELFINI.  
QUANTI ANIMALI IN TUTTO?




CI SONO QUATTRO PESCI BLU E QUATTRO PESCI GIALLI.  
QUANTI PESCI IN TUTTO?




CI SONO CINQUE CAVALLUCCI.  
DUE VANNO VIA.  
QUANTI CAVALLUCCI RESTANO?

$$5 - 2 = 3$$



CI SONO NOVE PESCI.  
TRE VENGONO PESCATI.  
QUANTI PESCI RESTANO?



CI SONO OTTO POLIPI.  
CINQUE SCAPPANO.  
QUANTI POLIPI RIMANGONO?