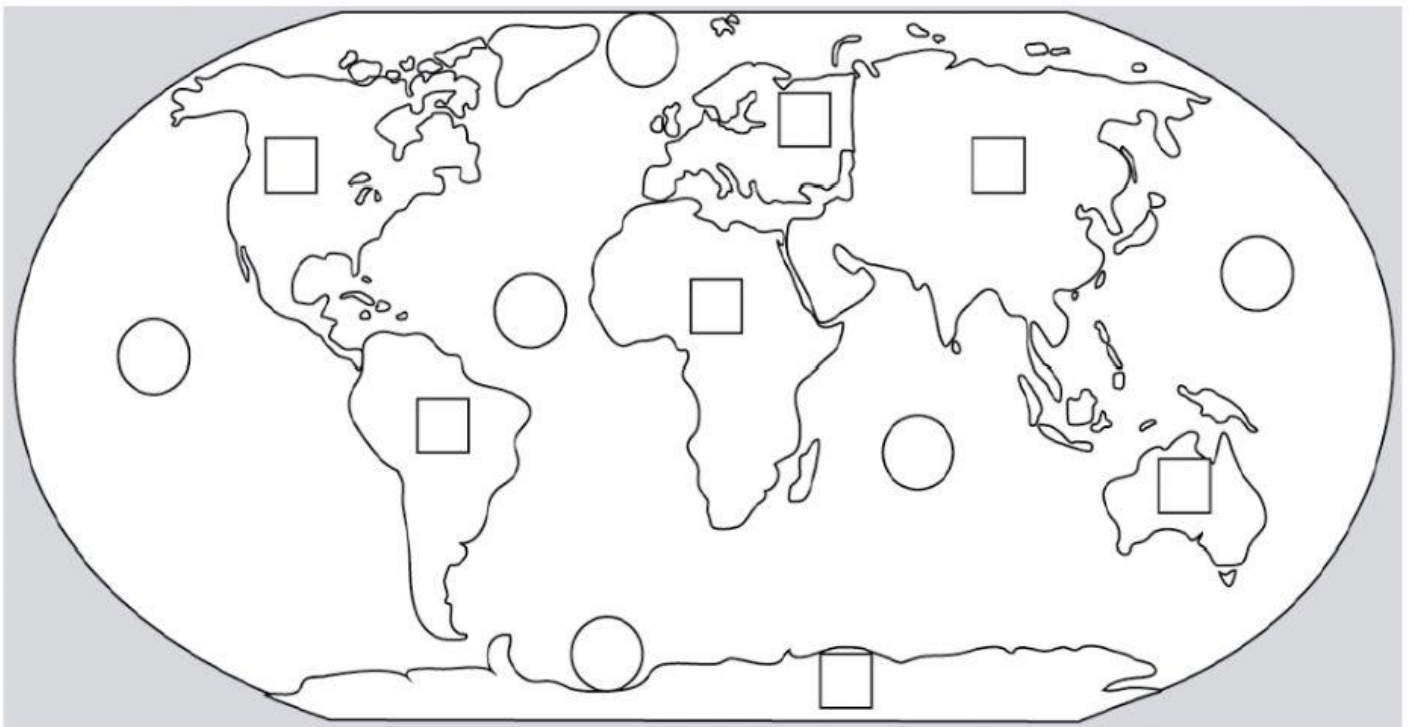


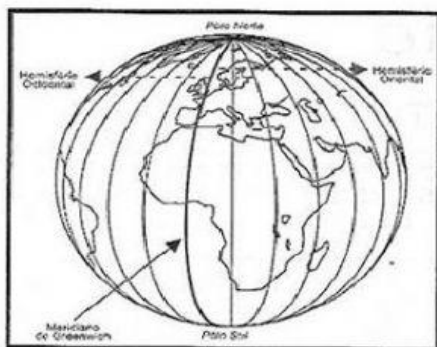
NOME: _____

TURMA: _____

1- OBSERVE O PLANISFÉRIO E FAÇA A CORRESPONDÊNCIA:

CONTINENTES	OCEANOS
1 – AMÉRICA DO NORTE	1 – PACÍFICO
2 – AMÉRICA DO SUL	2 – PACÍFICO
3 – ÁFRICA	3 – GLÁCIAL ÁRTICO
4 – OCEANIA	4 – GLÁCIAL ANTÁRTICO
5 – EUROPA	5 – ÍNDICO
6 – ÁSIA	6 - ATLÂNTICO
7 - ANTARTIDA	





Meridianos

- Os meridianos são linhas imaginárias que atravessam os paralelos e passam pelos pólos. Eles também circundam a Terra. O principal meridiano é o *Greenwich*.
- Para sabermos onde fica um ponto na superfície terrestre existem também os pontos cardeais e os pontos colaterais.

Pontos cardeais:

- Norte (N)
- Sul (S)
- Leste (E)
- Oeste (O)

Pontos colaterais:

- Nordeste (NE)
- Noroeste (NO)
- Sudeste (SE)
- Sudoeste (SO)

Os pontos cardeais e os pontos colaterais encontram-se na *rosa-dos-ventos*, que sempre deve aparecer nos mapas.



Rosa-dos-ventos



2 – COMPLETE:

**MERIDIANOS – ROTAÇÃO – PLANISFÉRIO – TRANSLAÇÃO – PARALELOS
GLOBO TERRESTRE**

A) O PLANETA TERRA PODE SER REPRESENTADO DE ALGUMAS MANEIRAS, AS MAIS COMUNS SÃO O _____ E O _____.

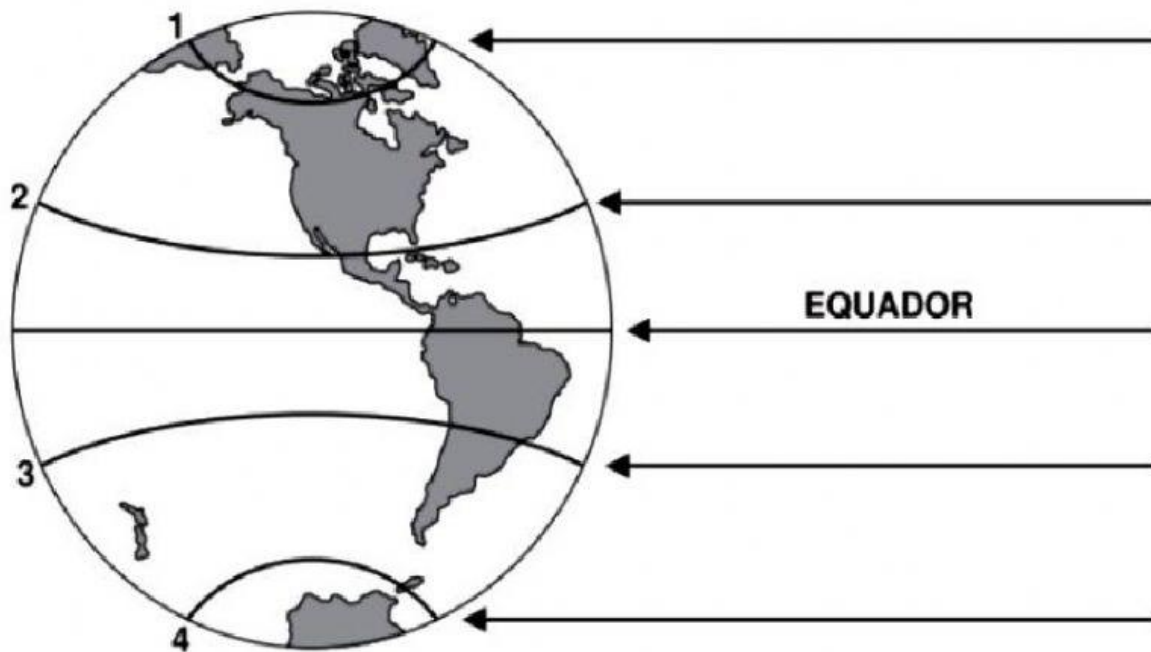
B) A FIM DE FACILITAR OS ESTUDOS, OS CIENTISTAS DIVIDIRAM A TERRA EM LINHAS IMAGINÁRIAS QUE CORTAM NAS POSIÇÕES VERTICAL E HORIZONTAL. ESSAS LINHAS SÃO CHAMADAS DE _____ E _____.

C) MOVIMENTO EM QUE O PLANETA TERRA REALIZA AO REDOR DO SOL. ESSA GRANDE VOLTA LEVA CERCA DE 365 DIAS E 6 HORAS OU UM ANO. ESTE MOVIMENTO É O _____.

D) MOVIMENTO EM QUE A TERRA GIRA AO REDOR DE SI MESMA E RESULTA NOS DIAS E AS NOITES, É O MOVIMENTO DE _____.

3 – ESCREVA NOS LUGARES CORRETOS DO GLOBO TERRESTRE, OS NOMES DOS PARALELOS INDICADOS A SEGUIR:

Trópico de Capricórnio	Círculo Polar Ártico
Círculo Polar Antártico	Trópico de Câncer



4 – A LINHA DO EQUADOR DIVIDE A TERRA EM DUAS PARTES, NORTE E SUL. AGORA, RESPONDA:

A) EM QUAIS HEMISFÉRIOS A LINHA DO EQUADOR DIVIDE O NOSSO PLANETA?

B) EM QUAL DELES ESTÁ LOCALIZADA A MAIOR PARTE DO BRASIL?

C) QUAL É O NOME DO TRÓPICO QUE PASSA POR TERRAS BRASILEIRAS?
