

Завдання до уроку "Як змінюються агрегатні стани води"

3. Продовж речення.

- Вода замерзає за температури нижче ніж _____.
- Лід тоне (плавиться) за температури вище ніж _____.
- Вода закипає за температури _____.




Обери стрілочку, яка:

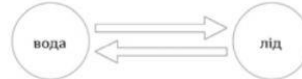
- показує процес випаровування



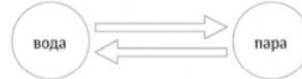
- показує процес танення (плавлення)



- показує процес замерзання



- показує процес конденсації



Позначте ✓ варіанти процесів, для яких потрібне тепло.

	→		<input type="radio"/>
	→		<input type="radio"/>
	→		<input type="radio"/>