



Tematik Tema 5

Mengidentifikasi

SUDUT

Nama :

Kelas :

بِسْمِ اللَّهِ الرَّحْمَنِ الرَّحِيمِ

Pilihlah jawaban yang paling benar!

1. Berilah tanda "V" di dalam kotak untuk mengidentifikasi sudut benda berikut ini.
 - a. Sudut yang ada pada gambar dibawah ini ada

☐

>10 sudut

☐

<10 sudut

- b. Sudut yang ada pada gambar dibawah ini ada


☐

>10 sudut

☐

<10 sudut

c. Sudut yang ada pada gambar dibawah ini ada



>10 sudut

<10 sudut

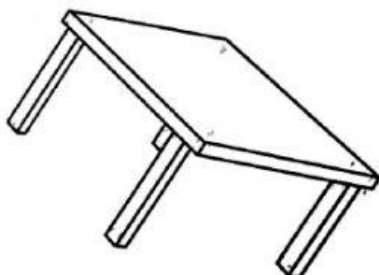
d. Sudut yang ada pada gambar dibawah ini ada



>10 sudut

<10 sudut

e. Sudut yang ada pada gambar dibawah ini ada



>10 sudut

<10 sudut

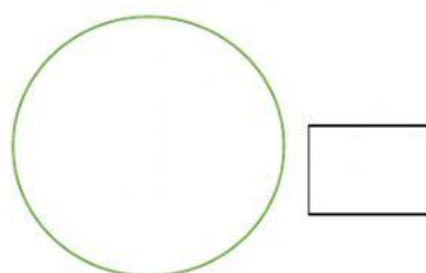
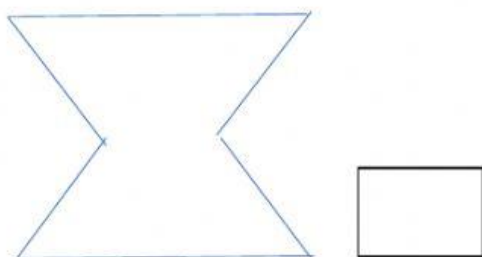
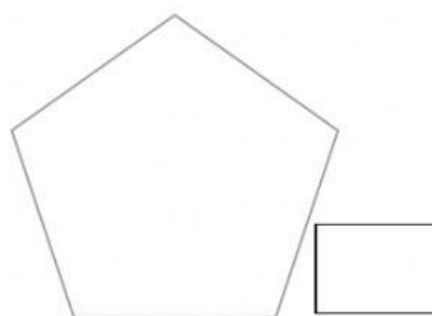
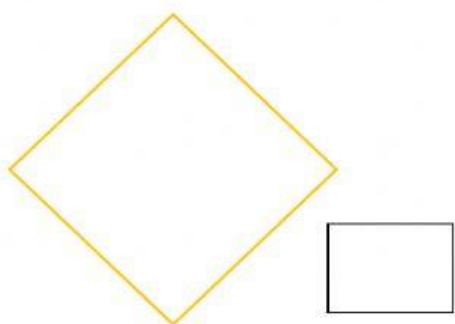
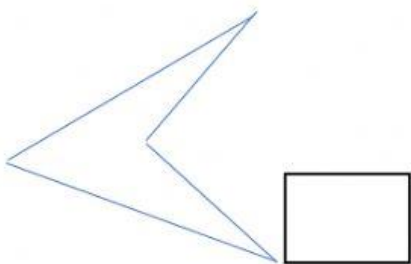
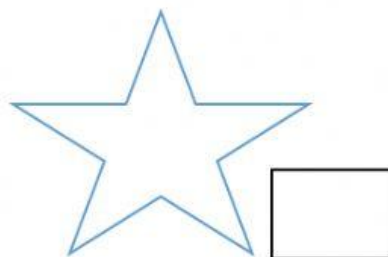
f. Sudut yang ada pada gambar dibawah ini ada



>10 sudut

<10 sudut

2. Ada berapa sudut dalam setiap bangun dibawah ini?



- 3 Eddy menggambar setiap bangun di bawah ini pada kertas bertitik. Berapa banyak sisi dan sudut yang dimiliki setiap bangun? Tandai semua sudut yang ada pada setiap bangun.

Bangun	Jumlah sisi	Jumlah sudut
