



**PERKUMPULAN DHARMAPUTRI
SD KATOLIK HATI KUDUS
TERAKREDITASI "A"**

Jl. SMPN 8, RT. 07 Kel. Rapak Dalam, Kec. Loa Janan Ilir
e-mail : sdkhatikudus@yahoo.com
SAMARINDA 75132 - KALTIM

**PENILAIAN TENGAH SEMESTER GENAP
TAHUN PELAJARAN 2021 – 2022**

TEMA 7 "Indahnya Keragaman di Negeriku"

Hari/Tanggal : Selasa, 15 Maret 2022

Waktu : 09.15 – 10.45

Nama :

Kelas : IV (Empat)

Petunjuk Umum

1. Kerjakan terlebih dahulu soal-soal yang kamu anggap mudah!
2. Telitilah dan periksalah kembali pekerjaanmu sebelum dikirimkan kepada guru!

1. Setiap suku di Indonesia memiliki pakaian adat dengan ciri khas masing-masing. Ciri khas tersebut mulai dari gaya, jenis kain, warna, dan aksesoris yang digunakan. Pakaian adat merupakan kekayaan yang harus kita banggakan dan lestarikan. Berilah tanda centang (✓) pada pernyataan yang menunjukkan upaya pelestarian pakaian adat yang dapat kita lakukan! (Jawaban dapat lebih dari satu)

Mengenakan seragam batik di sekolah pada hari tertentu

Mengadakan acara peragaan pakaian adat secara rutin

Mempromosikan keindahan pakaian adat suatu daerah dengan sembarangan

Bangga menggunakan pakaian adat

2. Berdasarkan arti kata sulit, apakah pernyataan-pernyataan berikut benar atau salah? Berilah tanda centang (✓) pada kolom **Benar** atau **Salah** yang sesuai!

Pernyataan	Benar	Salah
Sensus penduduk artinya penghitungan jumlah penduduk dalam jangka waktu tertentu oleh pemerintah		
Budaya artinya suatu cara hidup yang berkembang dan dimiliki bersama oleh sebuah kelompok orang dan diwariskan dari generasi ke generasi.		
Tradisional adalah sikap dan cara berpikir serta bertindak yang selalu berpegang teguh pada norma dan adat kebiasaan yang ada secara turun-temurun.		
Lokal artinya adat kebiasaan turun-temurun dari nenek moyang yang masih dijalankan oleh masyarakat.		

3. Bacalah teks berikut ini!

Pekerjaan Impianku

Aku sangat senang menggambar. Setiap hari aku selalu menggambar. Semua hal yang menarik perhatianku selalu aku ingat dan aku gambar saat waktu luang. Kebiasaan menggambar segala sesuatu yang menarik sudah aku lakukan sejak usiaku 5 tahun.

Aku ingat saat bapak mengajakku ke sawah. Saat itu, aku masih berusia sekitar 8 tahun. Aku diminta duduk di gubuk yang berada di pinggir sawah. Bapak masuk ke persawahan untuk memeriksa tanaman padinya. Aku sangat menikmati suasana sawah dengan padi yang mulai menguning. Ada burung-burung kecil beterbangan di atas padi. Seseekali aku lihat bapak mengusir burung-burung kecil itu pergi.

Saat sampai di rumah, aku pergi ke kamar kakak. Aku ambil pensil dan mencoret dinding kamar kakak. Kakak menegurku, tetapi bapak menengahi. Bapak mengatakan bahwa aku sedang melatih otak kananku. Esok harinya, ibu membelikan buku gambar agar aku tidak menggambar lagi di dinding. Sejak saat itu, aku selalu menggambar di buku gambar.

Sampai hari ini, di masa aku beranjak dewasa, aku sudah membuat ribuan gambar. Aku kadang bercerita melalui gambar. Aku menunjukkan perasaan senang dan gambarku akan tampak muram ketika aku sedang sedih. Aku bermimpi menjadi seorang penulis komik atau pelukis. Cit-cita tersebut sangat berhubungan dengan hobi menggambar. Semoga bapak dan ibu mendukung aku untuk menekuni bakat tersebut.

Berdasarkan cerita berjudul "Pekerjaan Impianku", apakah pernyataan-pernyataan berikut benar atau salah? Berilah tanda centang (✓) pada kolom **Benar** atau **Salah** yang sesuai!

Pernyataan	Benar	Salah
Cerita tersebut berisi tentang pekerjaan impian sebagai penulis komik		
Tokoh 'Aku' pada cerita tersebut mulai senang menggambar pada usia anak sekolah dasar		
Tokoh "Aku" pada cerita tersebut senang menggambar di dinding saat masa anak-anak		
Kegiatan menggambar dapat melatih otak kanan		

4. Gaya gesek adalah gaya yang terjadi jika dua permukaan benda saling bergesekan. Besar kecilnya gaya gesek dipengaruhi oleh permukaan kedua benda yang bergesekan. Berilah tanda centang (✓) pada kolom **Menguntungkan** atau **Merugikan** sesuai pernyataan berikut!

Pernyataan	Menguntungkan	Merugikan
Sepatu sepak bola diberi pul pada bagian alas		
Ban mobil, sepeda motor, atau sepeda, karena sering digunakan lama-kelamaan alur ban akan hilang		
Pada mesin sepeda motor atau mobil tidak diolesi pelumas		
Ban kendaraan dibuat dari karet dengan motif beralur		

5. Pasangkan kegiatan-kegiatan berikut dengan jenis gaya yang tepat!




Gaya Listrik



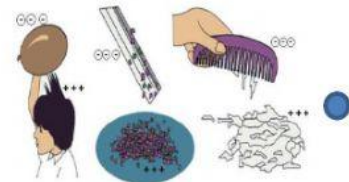
Gaya Gesek



Gaya Pegas



Gaya Gravitasi

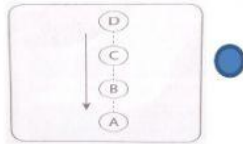


Gaya Magnet

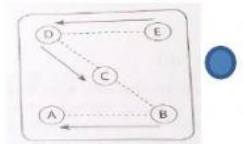


Gaya Otot

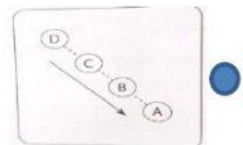
6. Indonesia memiliki beragam tarian daerah. Setiap tarian daerah memiliki gerakan yang berbeda-beda. Dalam sebuah tarian terdapat gerakan berpindah-pindah. Gerakan-gerakan berpindah tersebut seakan-akan membentuk garis. Garis yang dilalui oleh penari saat melakukan gerak tari tersebut disebut pola lantai. [Hubungkan dengan garis antara gambar dan nama pola lantai yang sesuai!](#)



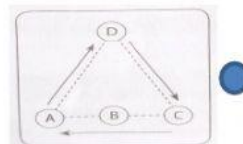
Segitiga



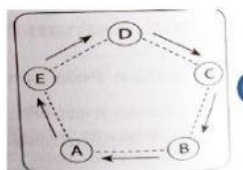
Segilima



Garis lurus



Garis diagonal



Zig-zag

Selamat Mengerjakan
† Tuhan Yesus Memberkati †