

HARI / TANGGAL :
NAMA LENGKAP :
KELAS : **IV**
MATA PELAJARAN : **TEMATIK 6. ALAM INDONESIA**
WAKTU : **60 MENIT**

PETUNJUK :

1. Berdo'alah terlebih dahulu sebelum mengerjakan soal!
2. Tuliskan nama lengkap dan kelas diatas!
3. Bacalah soal dengan baik sebelum menjawab!
4. Periksa kembali lembar jawabanmu sebelum dikumpulkan!
5. Bacalah hamdalah setelah selesai mengerjakan!

Nilai	Paraf Guru

Bismillaahirrahmaanirrohiim

Berilah tanda silang (X) pada huruf A, B, C atau D pada jawaban yang paling benar!

1. Bunyi sila ketiga pancasila adalah . . .
 - A. Ketuhanan Yang Maha Esa
 - B. Persatuan Indonesia
 - C. Keadilan sosial bagi seluruh bangsa Indonesia
 - D. Kemanusiaan yang adil dan beradab
2. Sila kelima pancasila dilambangkan dengan . . .
 - A. Rantai
 - B. Padi dan kapas
 - C. Pohon beringin
 - D. Kepala banteng
3. Tercukupinya kebutuhan hidup rakyat Indonesia secara adil karena setiap rakyat memiliki hak dan kesempatan yang sama untuk sejahtera.
 Simbol pancasila yang mengandung makna seperti diatas adalah . . .
 - A. Simbol ke 1
 - B. Simbol ke 2
 - C. Simbol ke 4
 - D. Simbol ke 5
4. Nilai berikut ini yang tidak termasuk dalam sila kelima pancasila adalah . . .
 - A. Bersikap adil dan suka membantu orang lain
 - B. Persamaan hak dan kewajiban
 - C. Bergotong royong
 - D. Musyawarah untuk mufakat

5. Sikap berikut ini yang mencerminkan sila kelima pancasila adalah . . .
- A. Membagi tugas kelompok dengan adil
 - B. Memilih ketua kelas secara voting
 - C. Mementingkan kepentingan pribadi
 - D. Menghormati pemeluk agama lain
6. Pernyataan berikut ini yang tidak menyatakan tentang puisi adalah . . .
- A. Hasil ungkapan perasaan penyair
 - B. Selalu dimulai huruf kapital dan diakhiri tanda titik
 - C. Terbatas jumlah kata dalam satu barisnya
 - D. Susunan kata-kata yang menimbulkan imaji pembaca
7. Berikut yang tidak termasuk macam-macam puisi adalah . . .
- A. Tipografi
 - B. Sajak
 - C. Balada
 - D. Himne

Perhatikan puisi berikut untuk menjawab soal no. 8 dan 9!

CITA-CITA

Karya : Alda Yuliana

Selamat pagi dunia
Sambut mentari dengan senyuman
Wujudkan cita-cita untuk masa depan
Terus berjalan walau penuh rintangan
Aku yakin ada kebahagiaan menanti disana
Jangan ada kata menyerah
Teruslah mencoba

Karena cita-cita adalah sebuah pengharapan
Percayalah bahwa kau bisa
Wujudkan semua cita-citamu
Siapkan diri untuk meraihnya
Genggam dunia ini dan taklukkan mereka

8. Kata kiasan yang terdapat pada puisi diatas adalah . . .
- A. Mentari
 - B. Cita-cita
 - C. Genggam Dunia
 - D. Penuh rintangan

9. Arti dari baris puisi yang digaris bawahhi adalah . . .
- A. Jadilah orang sukses untuk menaklukkan orang lain
 - B. Raih mimpi-mimpimu
 - C. Semangat untuk meraih cita-cita
 - D. Taklukkan mereka dengan kekuasaanmu
10. Perhatikan baris-baris puisi berikut!
- a. Melihat pemandangan pantai karang
 - b. Suara ombak memecah batu karang
 - c. Dikejauhan sudah kedengar
 - d. Bertamasya bersama keluarga

Susunan baris puisi yang benar untuk menjadi sebuah bait puisi adalah . . .

- A. a-b-c-d
- B. b-c-d-a
- C. d-a-c-b
- D. c-d-a-b

Bacalah teks berikut untuk menjawab no. 11 dan 12!

DAERAH ISTIMEWA YOGYAKARTA

Yogyakarta merupakan salah satu provinsi yang terletak di pulau jawa. Provinsi Daerah Istimewa Yogyakarta terdiri atas satu kota dan empat kabupaten. Bagian tengah terdapat kota yogyakarta. Sebelah utara terdapat kabupaten Sleman. Sebelah selatan terdapat kabupaten Bantul. Sebelah timur terdapat kabupaten Gunung Kidul. Sebelah barat terdapat kabupaten Kulon Progo. Salah satu yang terkenal di Yogyakarta adalah legenda terjadinya gunung merapi.

11. Jika letak kabupaten Bantul berada di selatan, maka yang berada di utara adalah . . .
- A. Kabupaten Gunung Kidul
 - B. Kota Yogyakarta
 - C. Kabupaten Sleman
 - D. Kabupaten Kulon Progo
12. Jumlah kalimat yang terdapat pada bacaan “**DAERAH ISTIMEWA YOGYAKARTA**” adalah . . .
- A. 5
 - B. 6
 - C. 7
 - D. 8
13. Berikut ini yang termasuk unsur-unsur berita adalah . . .
- A. Kata tanya ADIKSIMBA
 - B. Penjelasan pada sebuah pertanyaan
 - C. Kata tanya biasa
 - D. Pengalaman pribadi

14. Berikut ini kalimat tanya yang tidak termasuk unsur-unsur berita adalah . . .

- A. Apa yang terjadi di Bogor?
- B. Mengapa bisa terjadi banjir?
- C. Berapa korban jiwa dalam kebakaran itu?
- D. Siapa yang mengevakuasi korban banjir di Solo?

15. Perhatikan kalimat-kalimat berikut!

Pagi itu, Adli berolahraga

Pagi itu, Adila memasak nasi goreng

Jika kedua kalimat diatas digabungkan menjadi kalimat majemuk setara sejalan, maka kalimat dibawah ini yang tepat adalah . . .

- A. Pagi itu, Adli berolahraga dan Adila memasak nasi goreng
- B. Pagi itu, Adli berolahraga sedangkan pagi itu, Adila memasak nasi goreng
- C. Pagi itu, Adli berolahraga dan pagi itu, Adila memasak nasi goreng
- D. Pagi itu, Adli berolahraga sedangkan Adila memasak nasi goreng

16. Perhatikan informasi berikut!



Dari tangkapan layar diatas, dapat dilihat bahwa magnitudo gempa yang terjadi di barat daya Lebak, Banten jika dibulatkan adalah . . .

- A. 5 SR
- B. 5,1 SR
- C. 5,2 SR
- D. 5,3 SR

17. Perhatikan gambar berikut!



Arti dari gambar diatas adalah . . .

- A. Daerah rawan banjir
- B. Daerah rawan gempa bumi
- C. Daerah rawan longsor
- D. Daerah rawan tsunami

18. Berikut ini yang termasuk jenis bencana akibat ulah manusia adalah . . .

- A. Banjir, longsor, tsunami
- B. Banjir, kebakaran, abrasi
- C. Banjir, gempa, tsunami
- D. Banjir, gunung meletus, likuefaksi

19. Perhatikan data kebakaran hutan dibawah ini!



Berdasarkan data diatas jika dibulatkan maka lahan yang terbakar pada tahun 2020 adalah . . .

- A. 206751
- B. 206752
- C. 206753
- D. 206754

20. Perhatikan data berikut!

No	Desa	Jarak dengan Gunung Merapi (Km)
1	Desa Glagaharjo	3,8
2	Desa Umbulharjo	8,4
3	Desa Kepuharjo	2,4
4	Desa Stabelan	3,5

Berdasarkan data diatas, desa yang paling rawan terkena letusan gunung merapi adalah . . .

- A. Desa Glagaharjo
- B. Desa Umbulharjo
- C. Desa Kepuharjo
- D. Desa Stabelan

21. Perhatikan gambar dibawah ini!



Jenis kenampakan alam pada daerah yang dilingkari adalah . . .

- A. Dataran tinggi
- B. Dataran rendah
- C. Pantai
- D. Pedalaman

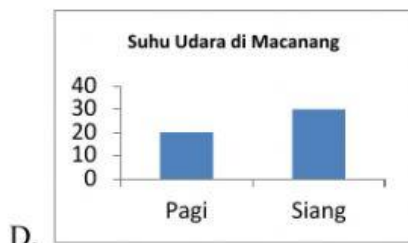
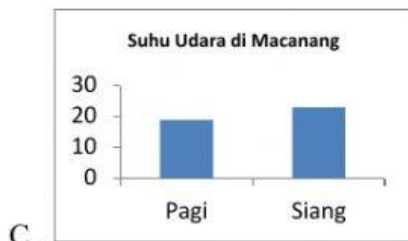
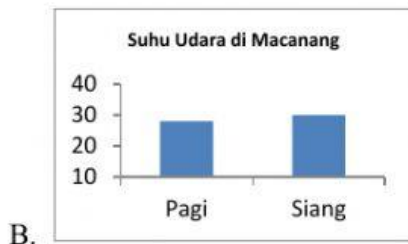
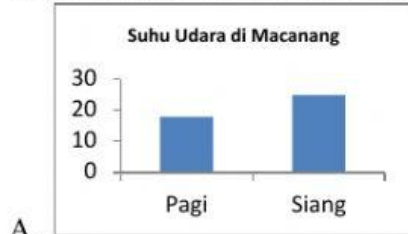
22. Tenggara atau penanda wilayah yang terdapat di kabupaten Bone adalah . . .

- A. Pasar malam
- B. Lingkaran air mancur
- C. Patung Arung Palakka
- D. Patung Keris

23. Sebuah pesawat terbang dari Makassar ke Banjarmasin dengan jalur yang membentuk sudut sebesar 30°C, jenis sudut yang dibentuk oleh jalur pesawat tersebut adalah . . .

- A. Sudut tumpul
- B. Sudut lancip
- C. Sudut penuh
- D. Sudut siku-siku

24. Suhu udara di Macanang pada pagi hari 20°C dan pada siang hari mencapai 30°C, jika disajikan dalam bentuk diagram batang maka data yang diperoleh adalah



25. Perhatikan data dibawah ini!



Bentuk penyajian data diatas adalah . . .

- A. Diagram batang vertikal
- B. Diagram batang horizontal
- C. Diagram garis
- D. Diagram lingkaran