

NAMA :

KELILING DAN LUAS BANGUN DATAR

50 cm



50 cm

Keliling : cm

Luas : cm

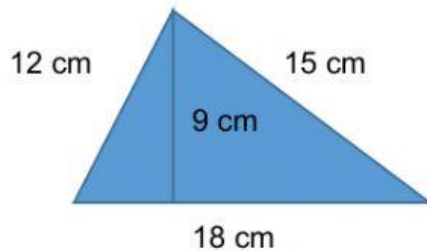
Luas sebuah persegi adalah 256 cm^2 , sisi dari persegi tersebut adalah cm.



25 cm

Jika keliling persegi panjang tersebut 120 cm, ukuran panjangnya adalah cm.

Luasnya adalah cm^2 .

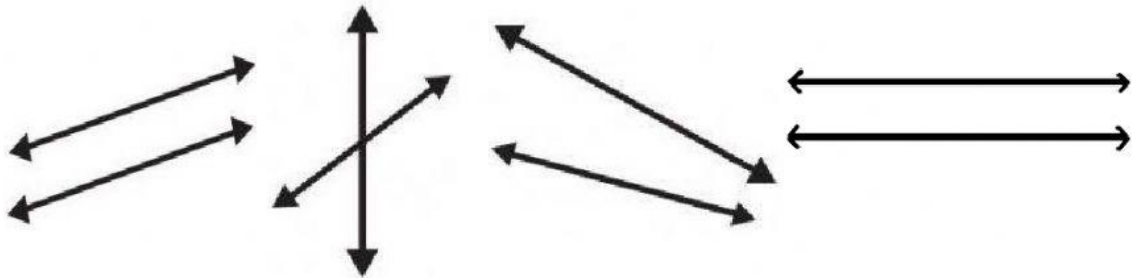


Luas : cm

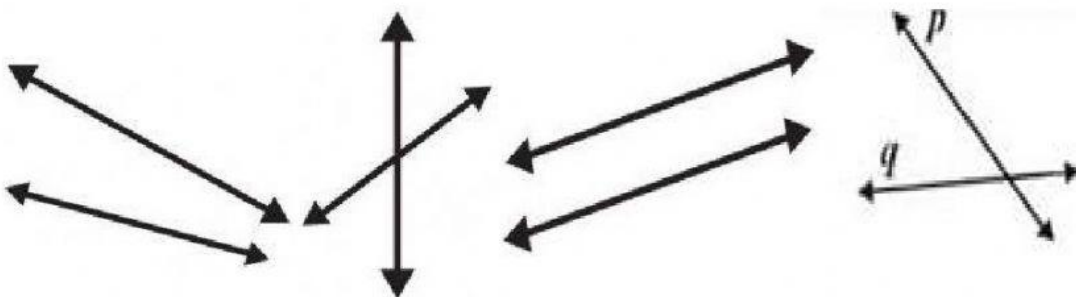
Keliling : cm

HUBUNGAN ANTARGARIS

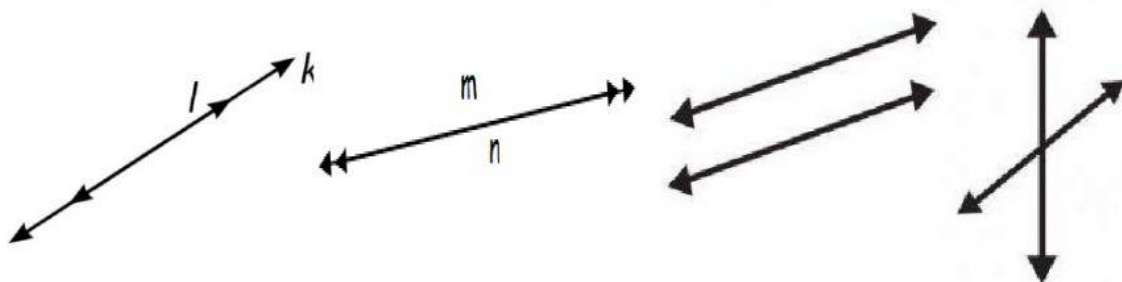
Pilihlah gambar yang menunjukkan hubungan dua garis yang sejajar! (Pilihan bisa lebih dari satu)



Pilihlah gambar yang menunjukkan hubungan dua garis yang berpotongan! (Pilihan bisa lebih dari satu)




Pilihlah gambar yang menunjukkan hubungan dua garis yang berimpit! (Pilihan bisa lebih dari satu)




Pasangkan gambar-gambar di bawah ini sesuai dengan nama yang benar!



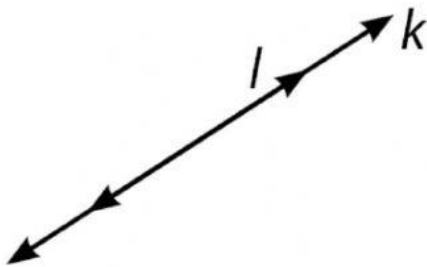
Garis
Berpotongan



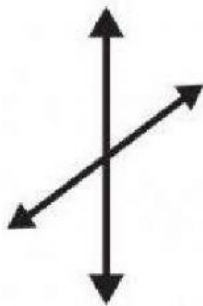
Garis Sejajar



Garis
Berimpitan



Ruas Garis



Sinar Garis