



SDLB B PANGUDI LUHUR
Jl. Pesanggrahan 125, Kembangan,
Jakarta Barat 11610, Telp. (021) 5804223

Hari / Tanggal : Senin, 7 Maret 2022
Mata Pelajaran : PKn

Nama :
Kelas : D6AB

SILANGLAH (X) HURUF A, B, C, ATAU D DI DEPAN JAWABAN YANG PALING TEPAT!




1. Setiap sila dalam Pancasila mempunyai simbol yang berbeda-beda. Mata rantai merupakan simbol dari sila ke-
A. 1
B. 2
C. 3
D. 4
2. Keadilan sosial bagi seluruh rakyat Indonesia, adalah bunyi sila ke-....
A. 2
B. 3
C. 4
D. 5
3. Perhatikan gambar berikut!



Gambar tersebut merupakan simbol dari sila ke-

- A. 1
B. 2
C. 3
D. 4
4. Manakah simbol yang memiliki makna, "Cahaya kerohanian bagi setiap manusia?"



5.  Di RT 02 orang-orang terlihat sedang melakukan kegiatan gotong royong untuk membersihkan lingkungan. Gotong royong menggambarkan makna sila ke-
- 2
 - 3
 - 4
 - 5
6. Padi dan kapas merupakan simbol Pancasila, sila ke-
- 2
 - 3
 - 4
 - 5
7.  Walaupun bangsa Indonesia memiliki budaya yang berbeda-beda, namun tetap hidup rukun, sesuai dengan Pancasila, sila ke-
- 1
 - 2
 - 3
 - 4
8. Diskusi atau musyawarah untuk membuat jadwal piket di kelas merupakan contoh penerapan dari sila Pancasila yang dilambangkan oleh
- bintang
 - rantai
 - padi dan kapas
 - kepala banteng
9.  Gambar berikut ini menunjukkan pengamalan sila ke-
- 1
 - 2
 - 3
 - 4
10. Keadilan sosial bagi seluruh rakyat Indonesia, merupakan bunyi Pancasila sila ke-
- 2
 - 3
 - 4
 - 5

11. Persatuan Indonesia adalah bunyi Pancasila, sila ke-
 - A. 1
 - B. 2
 - C. 3
 - D. 4
12. Lambang pohon beringin merupakan sila Pancasila, sila ke-
 - A. 2
 - B. 3
 - C. 4
 - D. 5
13. Bangsa sebagai bangsa Indonesia artinya adalah
 - A. merasa sebagai bangsa yang paling besar
 - B. besar hati, bahagia, dan puas
 - C. mencintai milik kita dan tidak perlu membantu orang lain
 - D. berjiwa kokoh dan kuat
14. Rasa syukur dan bangga sebagai bangsa Indonesia dapat diwujudkan
 - A. menerima kelebihan dan kekurangan bangsa Indonesia
 - B. selalu memakai produk dalam negeri
 - C. memanfaatkan kekayaan alam dengan baik dan bijaksana
 - D. jawaban A, B , C, dan D
15. Pita yang dicengkeram oleh kaki burung Garuda , bertuliskan
 - A. Indonesia aya
 - B. menjual makanan
 - C. memberi makan
 - D. Bhinneka Tunggal Ika