

## 1. จับคู่รูปทรงต่าง ๆ กับภาพให้ถูกต้อง

ทรงกลม



ทรงกระบอก



สามเหลี่ยม




สี่เหลี่ยม




วงรี



## 2. มีมะม่วงกี่ผล


 3 4 5

## 3. มีปลากี่ตัว

 8 9 10

4. จับคู่ภาพกับจำนวนที่เท่ากัน

10 ●



8 ●




7 ●




5 ●



5. เลือกภาพที่มีจำนวนมากกว่า



6. เลือกภาพที่มีจำนวนน้อยกว่า



7. 3 อ่านว่าอย่างไร

สาม

สาม

ห้า


8. ๑ อ่านว่าอย่างไร

สอง

สาม

หนึ่ง

9.



เขียนเป็นตัวหนังสือได้อย่างไร

หก

เจ็ด

แปด

10. โรงเรียนของเราชื่อว่าอะไร

โรงเรียนบ้านคลองลำปริง

โรงเรียนบ้านหนองยวน