

CIENCIAS SOCIAIS 5ºEP- Temas 2 e 3

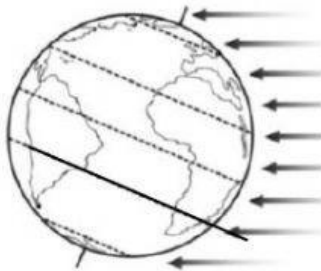
NOME:

Nota:

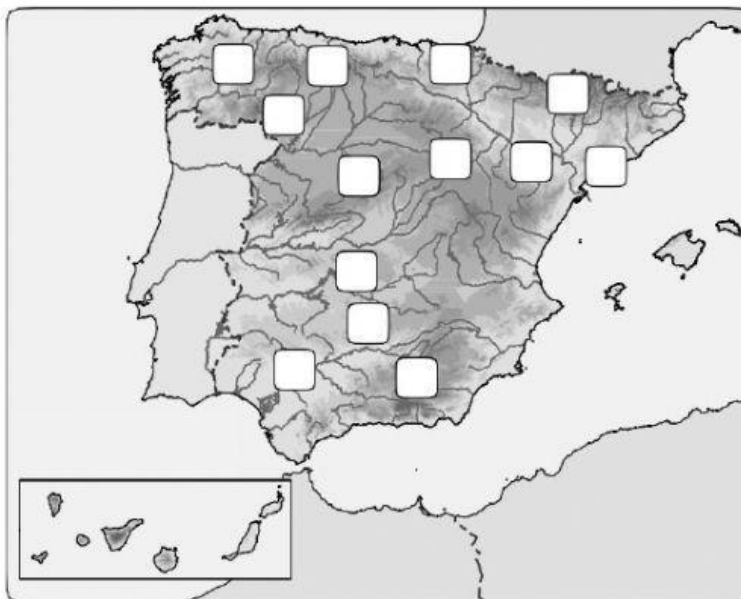
1. Indica o nome do **clima** coloreado en cada mapa. (1)



2. Colorea e nomea as tres zonas climáticas da Terra. (1)

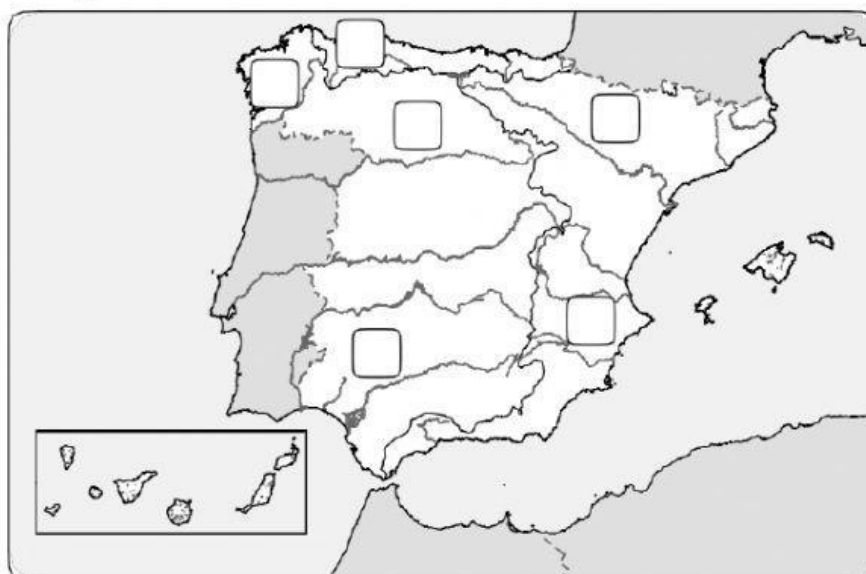


3. Sinala no mapa: (3)



1. Macizo Galaico
2. Cordilleira Cantábrica
3. Sistema Central
4. Sistema Ibérico
5. Montes Vascos
6. Sistemas Béticos
7. Montes de León
8. Serra Morena
9. Pireneos
10. Depresión do Ebro
11. Depresión do Guadalquivir
12. Sistema Costeiro-Catalán

4. Colorea de cor verde a vertiente cantábrica e de cor amarela a vertiente atlántica. (1)



5. Indica a que vertente pertencen os seguintes ríos. (2)

- | | |
|-----------|------------------|
| 1. Xúquer | 4. Ebro: |
| 2. Miño: | 5. Douro: |
| 3. Navia: | 6. Guadalquivir: |

- Agora, **escribe o número** de cada un destes ríos no mapa da actividade.

6. Indica onde atopar os ríos galegos: **Xallas, Tambre e Ulla**. (1)



7. Indica onde están as **rías altas**, a **costa da morte** e as serras **ORIENTAIS**. (1)