

nama : \_\_\_\_\_ kelas: \_\_\_\_\_  
 hari : \_\_\_\_\_  
 tanggal : \_\_\_\_\_  
 bulan : \_\_\_\_\_  
 tahun : \_\_\_\_\_

	senin
	selasa
	rabu
	kamis
	jumat
	sabtu
	minggu

Pasangkan sesuai harinya!

hari ini
kemarin
besok


sebelum belajar

ayo berdoa : bismillahirrohmanirrohiim.. aamiin

## latihan PTS 2


ayo, menjawab! beri tanda V pada jawaban yang benar!

1. gambar garuda Pancasila adalah . . .



2. simbol Pancasila sila ke satu adalah . . . .



3.  simbol Pancasila sila ke tiga adalah . . . .

a. kepala banteng

b. padi kapas

c. pohon beringin

4. gambar yang menunjukkan sikap **tertib** di kelas adalah . . . .

a.



b.



c.



5.



prasetyo adalah anak . . . .

a. laki-laki

b. perempuan

c. wanita

6. umat **islam** beribadah di . . . .

a. masjid

b. gereja

c. pura

7. gereja adalah tempat ibadah umat . . . .

a. islam

b. kristen

c. hindu

8. gambar yang menunjukkan hidup **rukun** adalah . . . .

a.



b.



c.



9.



nama anak **perempuan** di atas adalah . . . .

a. udin

b. beni

c. meli

10.



ali miko danu toni

anak yang paling **tinggi** adalah . . .

- a. miko      b. danu      c. toni

11.



ini adalah gambar . . . . .

- a. mata  
b. pipi  
c. dahi

12.      ilyas pakai **topi** di . . . .

- a. kepala      b. tangan      c. kaki

13.      asyala pakai **gelang** di . . . .

- a. kaki      b. leher      c. tangan

14.



asyala \_\_\_\_\_ susu.

- a. minum  
b. makan  
c. tidur

15.  **rasa** cabai adalah . . . .

- a. manis                      b. asin                      c. pedas

16.        yang rasanya manis adalah . . . .

- a.                       b.                       c. 

17.        membersihkan gigi menggunakan . . . .

- a.                       b.                       c. 

18.                       hiiii, kelas itu . . . .

- a. rapih  
b. kotor  
c. bersih

19.                       anak-anak . . . . di lapangan.

- a. senam  
b. sholat  
c. upacara

20. gambar uang dua ribu adalah . . . .

a.



b.



c.



21.  ini gambar uang . . . .

a. seribu

b. dua ribu

c. lima ribu

22.  $9 + 7 = . . . .$

a. 15

b. 16

c. 17

23. 
$$\begin{array}{r} 65 \\ 26 \\ \hline \end{array} +$$
  
.....

a. 91

b. 92


c. 93

24. benda yang berbentuk lingkaran adalah . . . .

a.



b.



c.



25.



ilyas tidur pukul . . . .

a. 08.00

b. 09.00

c. 10.00

26.  $10 - 4 = \dots$

a. 6

b. 7

c. 8

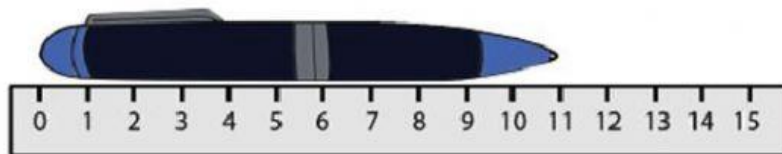
27.  $19 - 5 = \dots$

a. 13

b. 14

c. 15

28.



panjang pulpen adalah . . . . cm.

a. 11

b. 12

c. 13

29. 
$$\begin{array}{r} 47 \\ 75 \\ \hline \end{array} +$$
  
.....









a. 122

b. 123

c. 124



ayo, baca dan samakan dengan kartu katanya!

sehat	gerak	bersama	minum
sakit	capek	diam	sendiri

Tugas membuat video:

1. menyamakan kartu gambar dan kartu kata 49-56

2. membaca dan mengisyaratkan kartu kata 49-56 (boleh dengan isyarat

sehari-hari, boleh dengan menunjuk bendanya secara langsung)