

## Latihan Soal Kisi-kisi Penilaian Tengah Semester Genap Tema 6

### Pilihlah jawaban yang benar!

1. Sila ketiga Pancasila berbunyi . . . .
- a. Ketuhanan Yang Maha Esa
  - b. Kemanusiaan yang adil dan beradab
  - c. Persatuan Indonesia

2. Menjaga kebersihan rumah merupakan kewajiban . . . .

a.



papa dan mama

b.



setiap anggota keluarga

c.



semua warga

3. Contoh aturan untuk menjaga kebersihan di lingkungan masyarakat adalah . . . .

a.



membuang sampah  
pada tempatnya

b.



membuang sampah  
sembarangan

c.



mencoret-coret  
tembok

4. Pekerjaan akan terasa lebih . . . dan lebih cepat selesai dengan melakukan kerja sama.

a. lama

b. lelah

c. ringan

5. Melakukan kegiatan bersama untuk mencapai satu tujuan disebut . . . .

a. kerja keras

b. kerja sama

c. kerja sendiri

6.

tangan

kaki

cucilah

sebelum

dan

tidur

Ungkapan petunjuk dari kata-kata di atas adalah . . . .

a. cucilah tidur sebelum kaki dan tangan

b. tidur cucilah tangan dan kaki sebelum

c. cucilah tangan dan kaki sebelum tidur

7.



Lingkungan sehat adalah lingkungan yang . . . .

- a. kotor dan banyak sampah
- b. bersih dan asri
- c. kotor dan bau

8.



Contoh ungkapan ajakan sesuai gambar adalah . . . .

- a. Mari, kita menanam pohon bersama!
- b. Baiklah, saya setuju denganmu.
- c. Tolong siram tanaman ini!

9.

- 1) Bu Guru : Made, tolong hapus papan tulis itu!
- 2) Made : Siap, Bu Guru.
- 3) Bu Guru : Terima kasih Made.

Ungkapan perintah terdapat pada nomor . . . .

- a. 1
- b. 2
- c. 3

10.

1. Setiap hari Minggu diadakan kerja bakti.
2. Dedi gemar bermain sepak bola.
3. Ayo, kita pergi bermain!

Dari pernyataan di atas, yang merupakan ungkapan pemberitahuan adalah nomor . . . .

- a. 1 dan 2
- b. 2 dan 3
- c. 1 dan 3

11.



Banyak bola pada gambar di atas adalah . . . .

- a. 40
- b. 48
- c. 50

12. Gambar berikut yang banyaknya 52 adalah . . . .

a.



b.



c.



13. Ibu memiliki 25 piring.

Sebanyak 15 piring kotor.

Banyak piring yang tidak kotor adalah . . . .

a. 15

b. 35


c. 10

14. Berikut yang termasuk pola pengubinan segitiga adalah . . . .


a.



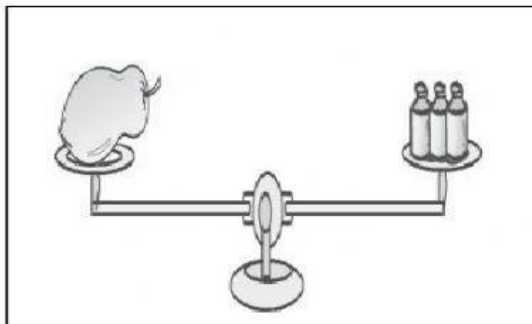
b.



c.



15.



Berat pepaya adalah . . . .

a. 3 botol

b. 4 botol

c. 5 botol

16. Contoh karya seni dari tanah liat adalah . . . .

a.



b.



c.



17. Contoh bunyi lemah adalah suara ....

a. petir

b. halilintar

c. orang berbisik

18. Gambar alat musik triangle adalah ....

a.



b.



c.



19. Kegiatan menggerakkan anggota tubuh sesuai irama adalah ....

a. menggambar

b. menari

c. menulis

20. Contoh kerajinan dari bulu ayam adalah ....

a.



b.



c.

