











ใบงานเรื่อง การวัดน้ำหนักเป็นกิโลกรัมและขีด

คำชี้แจง ให้นักเรียนดูภาพที่กำหนดให้แล้วเติมคำตอบ

ชื่อ-สกุล..... ชั้น..... เลขที่.....

1. 	2. 	3. 	4. 	5. 
6. 	7. 	8. 	9. 	10. 

1 กิโลกรัม 5 ชีด	1 กิโลกรัม 7 ชีด	3 กิโลกรัม 8 ชีด	4 กิโลกรัม 4 ชีด	5 กิโลกรัม 5 ชีด
6 กิโลกรัม 7 ชีด	2 กิโลกรัม 5 ชีด	5 กิโลกรัม 8 ชีด	4 กิโลกรัม 3 ชีด	3 กิโลกรัม 4 ชีด