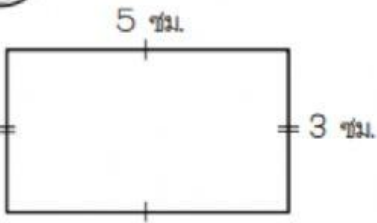


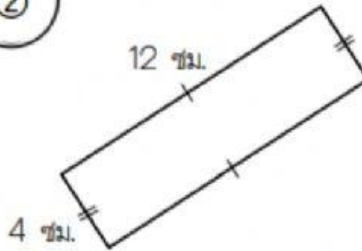
ใบงาน เรื่อง ความยาวรอบรูป



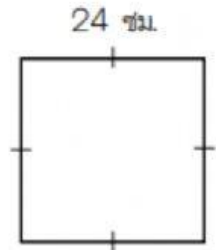
คำชี้แจง : จงหาความยาวรอบรูปของรูปสี่เหลี่ยมมุมฉากที่กำหนดให้



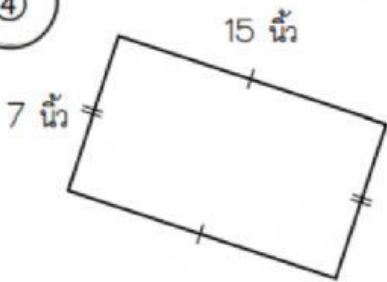
ตอบ



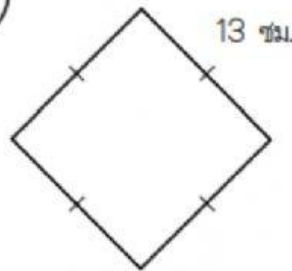
ตอบ



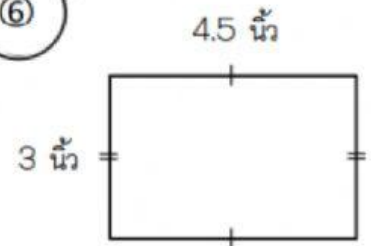
ตอบ



ตอบ



ตอบ



ตอบ

