



**Materi Tema 7 Subtema 1 Pembelajaran 1**



**Materi Tema 7 Subtema 1 Pembelajaran 2**

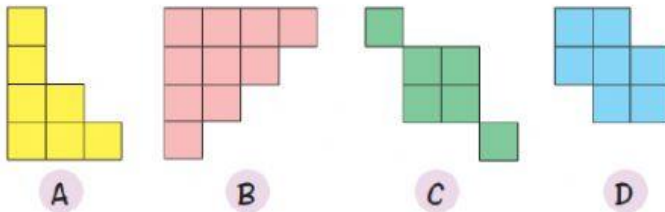


## LKPD Tema 7 Subtema 1 Pembelajaran 1 dan 2

### 1. Nyanyikan lagu Rotiku ciptaan A.T Mahmud ( video )



### 2. Amati gambar-gambar dibawah ini. Hitunglah luas dari setiap gambar di buku kotak-kotak dan warnailah!

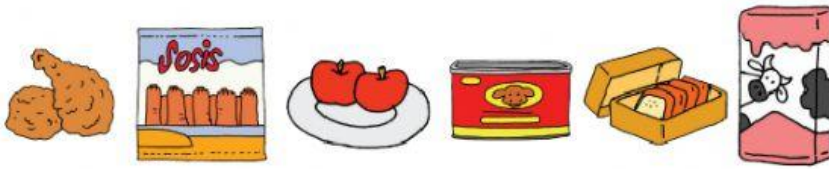


Luas bidang A adalah \_\_\_\_\_ satuan  
Luas bidang B adalah \_\_\_\_\_ satuan  
Luas bidang C adalah \_\_\_\_\_ satuan  
Luas bidang D adalah \_\_\_\_\_ satuan  
Luas yang paling kecil adalah bidang \_\_\_\_\_  
Luas yang paling besar adalah bidang \_\_\_\_\_  
Bidang \_\_\_\_\_ dan \_\_\_\_\_ pada gambar memiliki luas yang sama.

### 3. Lengkapi informasi yang diperoleh dari teks bacaan "Bandeng Presto"!



**4. Kerjakan sesuai perintah, dan di tulis di buku tema!**



Bolu pisang dan susu rasa stroberi merupakan makanan hasil pengolahan teknologi pangan.

**Tulislah daftar makanan hasil teknologi pangan berdasarkan gambar di atas!**

No.	Jenis Makanan	
1.		
2.		
3.		