

BÀI TẬP TỰ LUYỆN CUỐI TUẦN 23



I. TRẮC NGHIỆM

1 Mỗi đồ vật sau thuộc hình khối gì? (Nối)



Khối lập phương

Khối trụ

Khối cầu

Khối hộp chữ nhật

2 Số?

$5 \times \square = 25$

$\square \times 6 = 12$

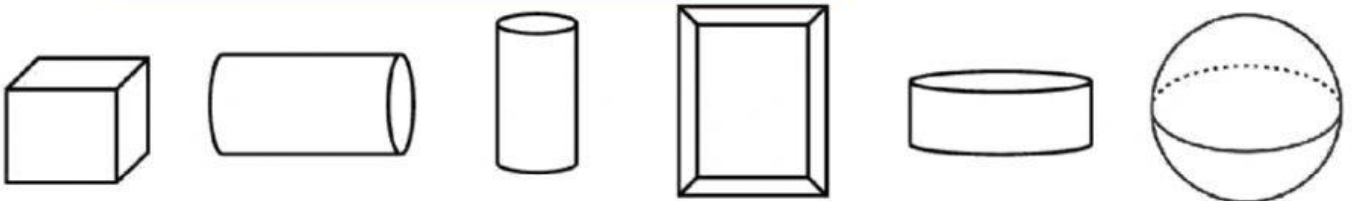
$5 \times \square = 45$

$5 \times \square = 17 + 13$

$40 : \square = 16 : 2$

$\square : 5 = 26 - 17$

3 Tô màu vào các hình là hình khối trụ



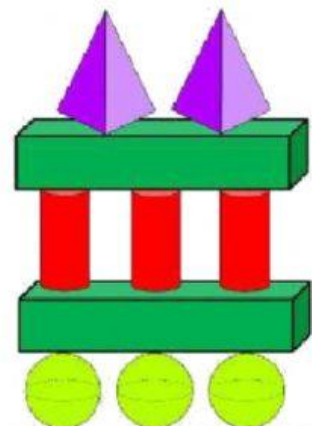
4 Số?

Hình bên có:

..... khối trụ

..... khối cầu

..... khối hộp chữ nhật.





II. TỰ LUẬN

Bài 3: Có 35 cái bánh chia đều vào 5 cái túi. Hỏi mỗi cái túi có bao nhiêu cái bánh?

Bài giải

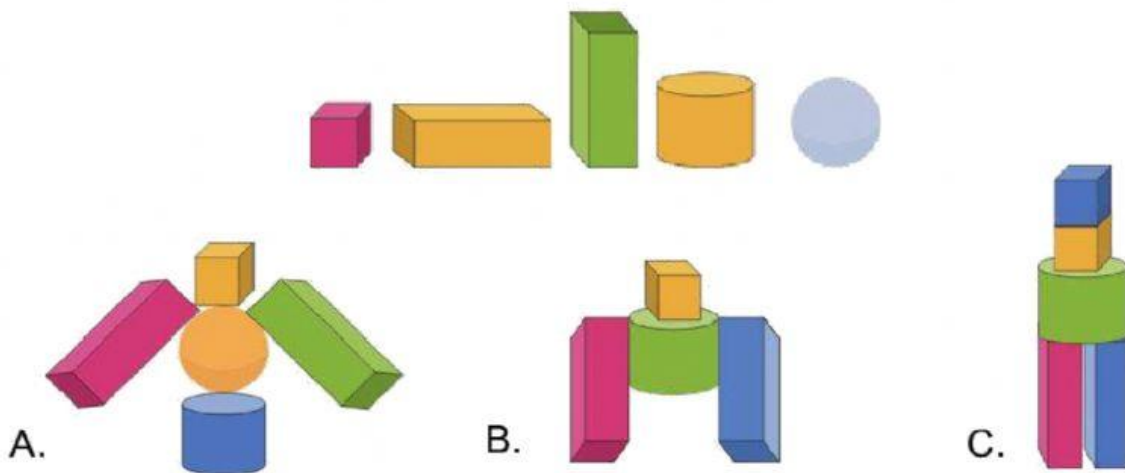
.....
.....
.....

Bài 4: Nhà Nga nuôi một đàn mèo với số con mèo là số có một chữ số. Hỏi nhà Nga nuôi bao nhiêu con mèo, biết số chân mèo là số lớn hơn 35?

Bài giải

.....
.....
.....

Bài 5: An có những khối hình dưới đây. Đây là mô hình An có thể tạo từ các hình khối đó. (Biết rằng các khối hình có thể có màu sắc khác nhau)



😊
 😊
 😞

.....
.....