

PHIẾU ÔN TOÁN

Lớp 3 - Tuần 20



COFFEE SHOP



TIỆM CÀ PHÊ NGỌT NGÀO



Họ và tên: _____

Lớp: _____

Chào mừng các bạn đến với "Tiệm cà phê ngọt ngào" của chúng mình. Hôm nay, các bạn hãy cùng đến với tiệm và khám phá một ngày làm việc của chúng mình thông qua các trạm thử thách nhé!

TRẠM 1: LỰA CHỌN HẠT CÀ PHÊ

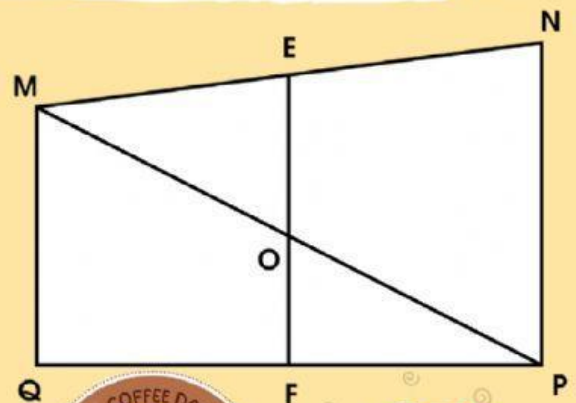
Các bạn hãy **Viết tên các điểm vào chỗ chấm** để chuẩn bị các hạt cà phê thơm ngon nhất nhé!



a) Trong hình bên có:

- Ba điểm,, thẳng hàng.
- Ba điểm,, thẳng hàng.
- Ba điểm,, thẳng hàng.
- Ba điểm,, thẳng hàng.

- b) - E là điểm ở giữa hai điểm và
- O là điểm ở giữa hai điểm và
(hoặc ở giữa hai điểm và))
- F là điểm ở giữa hai điểm và

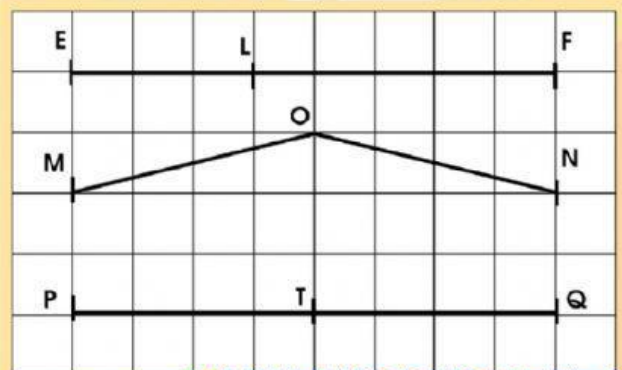


TRẠM 2: XAY HẠT CÀ PHÊ

Sau khi lựa chọn được những hạt cà phê thơm ngon, chúng ta hãy cùng xay hạt để chuẩn bị pha cà phê bằng cách **Đúng ghi Đ, sai ghi S:**



- L là trung điểm của đoạn thẳng EF.
- O là trung điểm của đoạn thẳng MN.
- T là trung điểm của đoạn thẳng PQ.
- L là điểm ở giữa hai điểm E và F.
- O là điểm ở giữa hai điểm M và N.
- T là điểm ở giữa hai điểm P và Q.

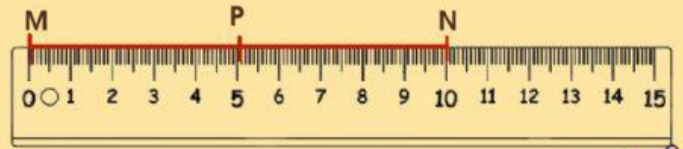
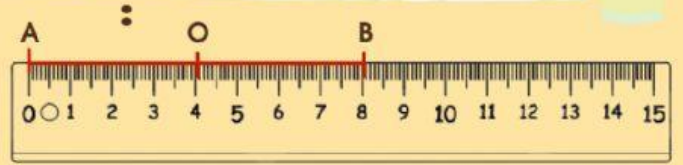


TRẠM 3: PHA CÀ PHÊ PHIN

Bây giờ, chúng ta hãy **Viết số thích hợp vào chỗ chấm** để **chắt nước cà phê bằng phin** nhé!



- O là trung điểm của đoạn thẳng AB.
Độ dài đoạn thẳng $AO = OB = \dots$ cm.
- P là trung điểm của đoạn thẳng MN.
Độ dài đoạn thẳng $MP = PN = \dots$ cm.



TRẠM 4: CHUẨN BỊ TOPPING

Chúng ta sẽ chuẩn bị các Topping cần thiết để ly cà phê thêm hấp dẫn bằng cách **Điền các dấu >, <, = vào chỗ chấm**:



2021 2022
1312 1132
5000 4999
8011 8011

999 g 1 kg
970 m 1 km
500 cm 5 m
40 hm 4 km

59 phút 1 giờ
64 phút 1 giờ
60 phút 1 giờ
30 phút 1 giờ

TRẠM 5: PHA CHÈ THỨC UỐNG

Nào, chúng ta hãy **Sắp xếp các số sau theo thứ tự** để cùng tạo ra những ly cà phê thơm ngon nhé!




- a) Theo thứ tự từ lớn đến bé:.....
b) Theo thứ tự từ bé đến lớn:.....



TRẠM 6: TRANG TRÍ THÀNH PHẨM

Ôi, ly cà phê của chúng ta thơm nức cả mũi... Cần phải **Đặt tính rồi tính** để trang trí ly cà phê thêm bắt mắt mới được!






$2573 + 2719$

.....

.....

.....




$4846 + 673$

.....

.....

.....



$7113 + 1034$

.....

.....

.....



TRẠM 7: CÙNG NHAU THƯỜNG THỨC

Những ly cà phê thơm ngon đã hoàn thành. Chúng ta cùng nhau thưởng thức chúng bằng cách giải **"Bài toán có lời văn"**. Chúc các bạn ngon miệng!

Ở tiệm cà phê ngọt ngào, tháng trước có 1537 lượt khách đến thưởng thức cà phê tại tiệm. Tháng này có 2437 lượt khách đến tiệm. Hỏi trong cả hai tháng, có tất cả bao nhiêu lượt khách đến tiệm?

Bài giải



.....

.....

.....

Cảm ơn các bạn đã giúp mình tạo nên những ly cà phê thơm ngon và đáng yêu! Chúc mừng bạn đã hoàn thành các thử thách!

"Trải nghiệm pha cà phê" hôm nay của bạn như thế nào?

