



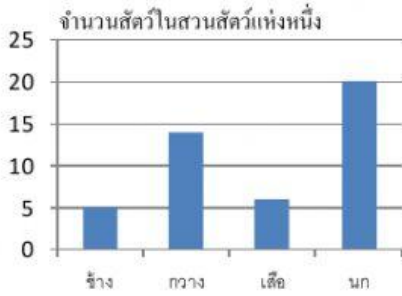
ชื่อ..... เลขที่..... ชั้น.....

โรงเรียนแสนสุข  
ข้อสอบเก็บคะแนนระหว่างเรียน บทที่ 7 ข้อมูล ตาราง และแผนภูมิ  
สาระการเรียนรู้คณิตศาสตร์ วิชาคณิตศาสตร์  
ภาคเรียนที่ 2 ปีการศึกษา 2564  
นักเรียนชั้นประถมศึกษาปีที่ 4

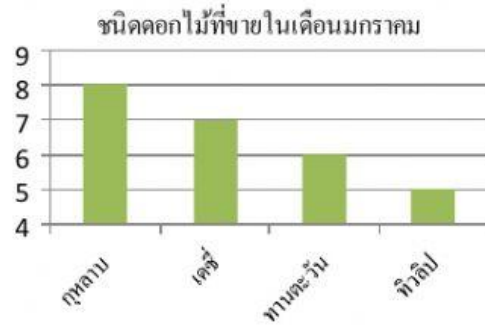
คำชี้แจง ให้นักเรียนกตเลือกคำตอบที่ถูกต้องที่สุดเพียงข้อเดียวเท่านั้น

1. แผนภูมิแท่ง ข้อใดต่อไปนี้ถูกต้องที่สุด

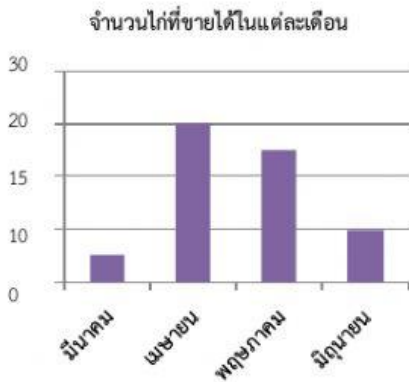
ก.



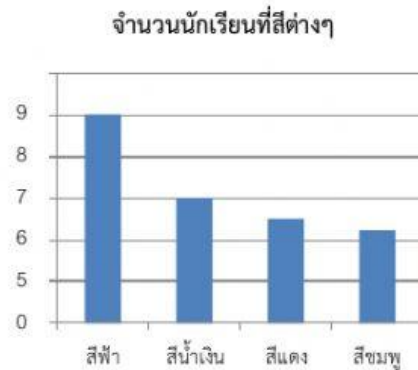
ข.



ค.



ง.



2. แผนภูมิแท่งที่ถูกต้องคือข้อใด

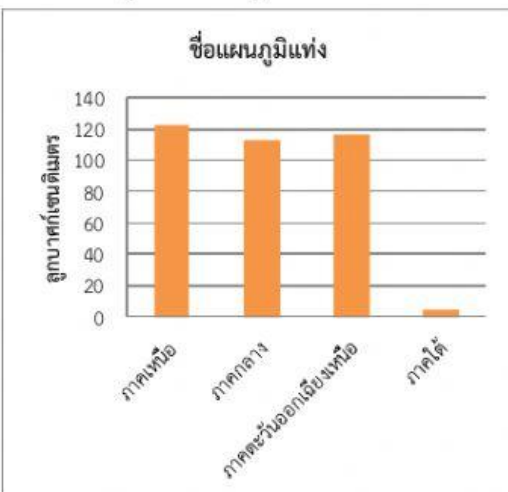
ก. เริ่มต้นที่เลข 0 ไม่จำเป็นต้องเว้นค่าระยะให้เท่ากัน

ข. เริ่มต้นที่เลข 0 จำเป็นต้องเว้นค่าระยะให้เท่ากัน

ค. เริ่มต้นที่เลขใดก็ได้ จำเป็นต้องเว้นค่าระยะให้เท่ากัน

ง. เริ่มต้นที่เลขใดก็ได้ ไม่จำเป็นต้องเว้นค่าระยะให้เท่ากัน

3. ชื่อแผนภูมิแท่งข้อใดถูกต้อง



ก. จำนวนอุบัติเหตุปี 2562 ในแต่ละภาค

ข. จำนวนวันนมในแต่ละภาค

ค. ปริมาณฝนปี 2565 ในแต่ละภาค

ง. ปริมาณประชากรในแต่ละภาค









โรงเรียนแสนสุข  
ข้อสอบเก็บคะแนนระหว่างเรียน บทที่ 10 เศษส่วน  
สาระการเรียนรู้คณิตศาสตร์ วิชาคณิตศาสตร์  
ภาคเรียนที่ 2 ปีการศึกษา 2564  
นักเรียนชั้นประถมศึกษาปีที่ 4

คำชี้แจง ให้นักเรียนกตเลือกคำตอบที่ถูกต้องที่สุดเพียงข้อเดียวเท่านั้น

1. หาคำตอบ  $\frac{4}{6} + \frac{1}{2} = \square$  ข้อใดถูกต้อง

- ก.  $\frac{4}{6}$     ข.  $\frac{6}{6}$     ค.  $\frac{7}{6}$     ง.  $\frac{8}{6}$

2. หาคำตอบ  $\frac{4}{10} - \frac{1}{5} = \square$  ข้อใดถูกต้องที่สุด

- ก.  $\frac{2}{10}$     ข.  $\frac{1}{5}$     ค.  $\frac{2}{5}$     ง.  $\frac{1}{10}$

3. หาคำตอบ  $2\frac{4}{9} + 1\frac{1}{3} = \square$  ข้อใดถูกต้องที่สุด

- ก.  $1\frac{2}{10}$     ข.  $2\frac{1}{9}$     ค.  $3\frac{7}{9}$     ง.  $4\frac{1}{10}$

4. หาคำตอบ  $4\frac{2}{11} - 1\frac{1}{11} = \square$  ข้อใดถูกต้องที่สุด

- ก.  $2\frac{5}{10}$     ข.  $2\frac{1}{15}$     ค.  $3\frac{2}{5}$     ง.  $3\frac{1}{11}$

5. ข้อใดเรียงลำดับจากมากไปน้อยได้ถูกต้อง

ก.  $6\frac{1}{2}$      $5\frac{3}{8}$      $4\frac{9}{16}$

ข.  $\frac{7}{8}$      $1\frac{1}{2}$      $\frac{4}{4}$

ค.  $2\frac{3}{15}$      $\frac{15}{30}$      $2\frac{2}{5}$

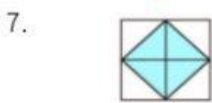
ง.  $8\frac{3}{4}$      $\frac{64}{8}$      $8\frac{16}{16}$

คำชี้แจง ให้นักเรียนลากเส้นจับคู่ข้อที่ถูกต้อง



●

●  $2\frac{2}{4}$



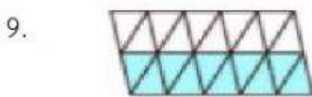
●

●  $1\frac{1}{2}$



●

●  $\frac{10}{20}$



●

●  $1\frac{1}{2}$



●

●  $1\frac{11}{16}$



โรงเรียนแสนสุข  
ข้อสอบเก็บคะแนนระหว่างเรียน บทที่ 11 ทศนิยม  
สาระการเรียนรู้คณิตศาสตร์ วิชาคณิตศาสตร์  
ภาคเรียนที่ 2 ปีการศึกษา 2564  
นักเรียนชั้นประถมศึกษาปีที่ 4

คำชี้แจง ให้นักเรียนกตเลือกคำตอบที่ถูกต้องที่สุดเพียงข้อเดียวเท่านั้น

1.  $276.378 + 246.561$  มีค่าเท่ากับข้อใด

- ก. 521.939                      ข. 522.939  
ค. 531.939                      ง. 532.939

2.  $562.360 - 421.628$  มีค่าเท่ากับข้อใด

- ก. 141.732                      ข. 140.732  
ค. 141.632                      ง. 140.632

3. ประติภยสูง 1.65 เมตร วรลีสสูง 1.43 เมตร  
ประติภยสูงกว่วรลีสกี่เมตร

- ก. 0.33 เมตร                  ข. 0.32 เมตร  
ค. 0.23 เมตร                  ง. 0.22 เมตร

4. กมลซื้อน้ำตาลทรายมา 25 กิโลกรัม รคากิโลกรัมละ 18.75 บาท นำมาแบ่งใส่ถุง ถุงละครึ่งกิโลกรัม แล้วขายไป ถุงละ 9.75 บาท ขายได้กำไรกี่บาท

- ก. 18.75 บาท                      ข. 18.50 บาท  
ค. 17.25 บาท                      ง. 17.75 บาท

5. น้ำมันพืชขวดละ 38.75 บาท ถ้ซื้อน้ำมันพืชครึ่งโหล ต้องจ่ายเงินกี่บาท

- ก. 233.00 บาท  
ข. 232.50 บาท  
ค. 231.25 บาท  
ง. 230.75 บาท

คำชี้แจง ให้นักเรียนเติมคำตอบลงในช่องว่างให้ถูกต้อง

6.  ● ● 0.15

7.  ● ● 0.7

8.   ● ● 0.5

9.  ● ● 0.37

10.  ● ● 1.23