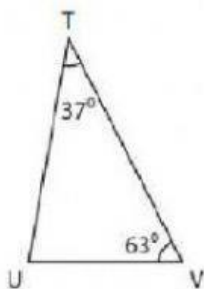


En la siguiente ficha tienes que calcular el ángulo que falta.

Si la suma de los tres ángulos de un triángulo suman 180° , ¿se te ocurre pensar que operación debes hacer para resolver el ejercicio?

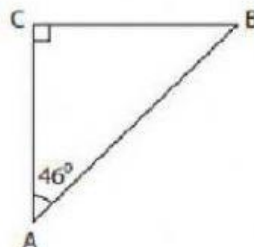
¡¡Usa la calculadora!!

1)



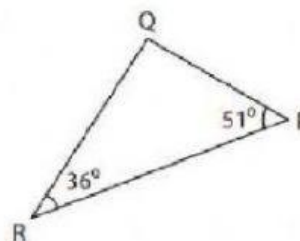
U = _____

2)



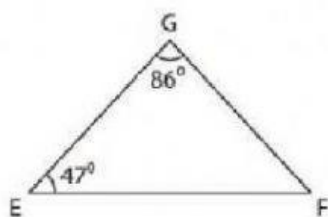
B = _____

3)



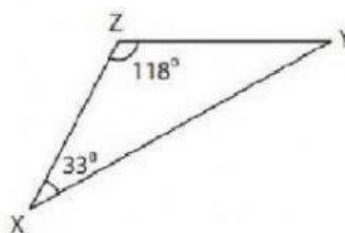
Q = _____

4)



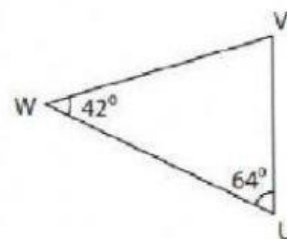
F = _____

5)



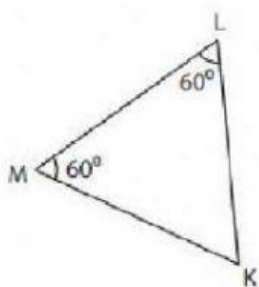
Y = _____

6)



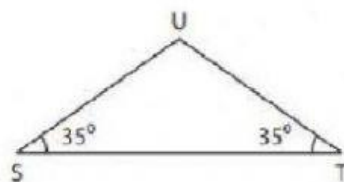
V = _____

7)



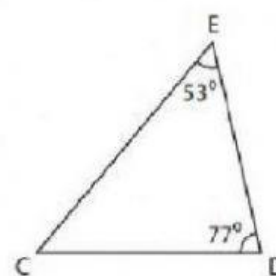
K = _____

8)



U = _____

9)



C = _____