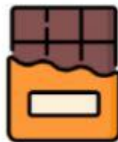


NOME: \_\_\_\_\_


DATA: \_\_\_\_/\_\_\_\_/\_\_\_\_

## PRIMEIRA AULA DE MATEMATICA

1) MARQUE COM UM (X) O ALIMENTO EM FORMA DE CONE.



2) HORA DA SALADA! ESCREVA NA PANELA A QUANTIDADE INDICADA DOS ALIMENTOS.



2



4



5



1



3

3) FAÇA UM (X) O PEDAÇO DE CARNE MAIOR.



4) FAÇA UM X NA BATATA QUE ESTÁ EM BAIXO DO COPO DE CAFÉ




E-MAIL: [pedagogigopedagogo@gmail.com](mailto:pedagogigopedagogo@gmail.com)

NOME: \_\_\_\_\_

DATA: \_\_\_\_/\_\_\_\_/\_\_\_\_

1) LEVE CAIO À LANCHONETE COMPLETANDO A SEQUÊNCIA NUMÉRICA




2) MARRQUE UM (X) NA CÉDULA QUE INDICA O PREÇO DO SORVETE



R\$2,00



3) CONTE OS ALIMENTOS ABAIXO. DEPOIS, ESCREVA O NUMERAL CORRESPONDENTE À QUANTIDADE DE CADA UM DELES



CEBOLA



PIMENTÃO



CENOURA



TOMATE



FEIJÃO


E-mail: [pedagogigopedagogo@gmail.com](mailto:pedagogigopedagogo@gmail.com)

NOME: \_\_\_\_\_

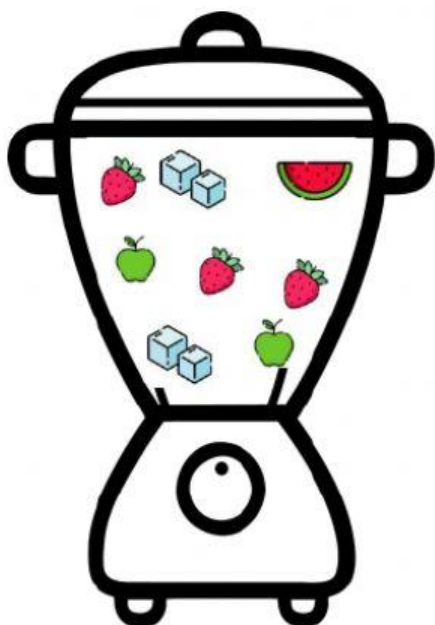
DATA: \_\_\_\_/\_\_\_\_/\_\_\_\_



1) CONTE AS FRUTAS DEPOIS ESCREVA A QUANTIDADE DE MORANGOS: \_\_\_\_\_



2) HORA DA VITAMINA! ESCREVA POR EXTENSO A QUANTIDADE DOS INGREDIENTES.



### VITAMINA DE FRUTAS

PEDAÇO DE MELANCIA

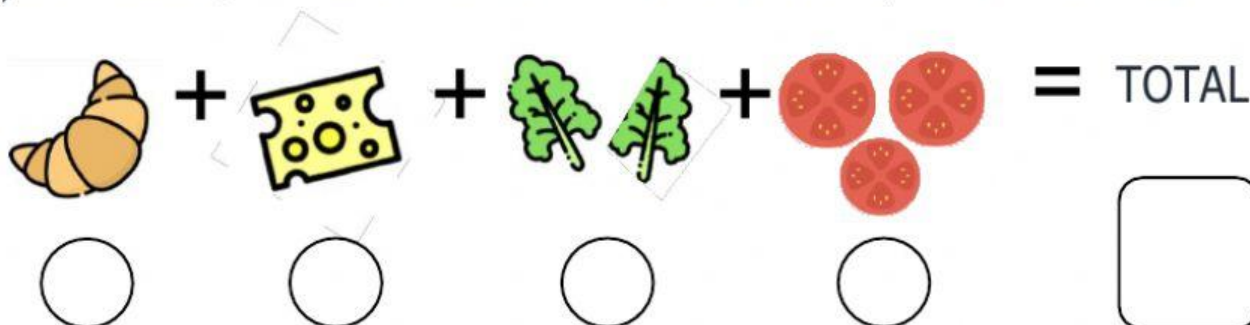
MAÇÃS

MORANGOS

CUBOS DE GELO

BATA TODOS OS INGREDIENTES NO LIQUIDIFICADOR  
E SIRVA EM SEGUIDA.

3) ESCREVA A QUANTIDADE DE CADA INGREDIENTE DEPOIS, REGISTRE O TOTAL



E-mail: [pedagogicopedagogo@gmail.com](mailto:pedagogicopedagogo@gmail.com)