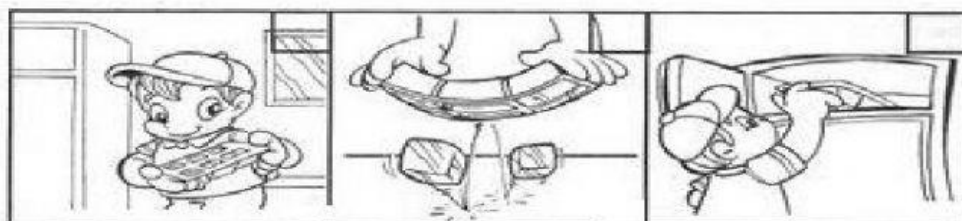
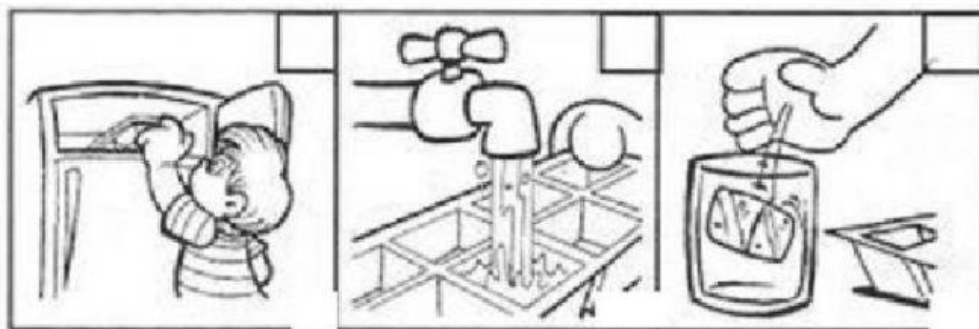


**NUMERA LE IMMAGINI NELL'ORDINE DELLE FASI DELLA TRSFORMAZIONE E COMPLETA CON:**


**SOLIDO-LIQUIDO - GASSOSO**



L'ACQUA \_\_\_\_\_ NEL \_\_\_\_\_ CONGELATORE \_\_\_\_\_ ERA \_\_\_\_\_ ALLO  
STATO \_\_\_\_\_ FUORI DAL CONGELATORE PASSERA'  
ALLO STATO \_\_\_\_\_



DAL RUBINETTO E' ALLO STATO \_\_\_\_\_ FUORI DAL  
CONGELATORE ENTRA NEL BICCHIERE È ALLO STATO  
\_\_\_\_\_



NEL BOLLITORE ENTRA ALLO STATO \_\_\_\_\_  
ESCE DAL BOLLITORE ALLO STATO \_\_\_\_\_