

ESCOLA DRº CARLOS ALVES

NOME:



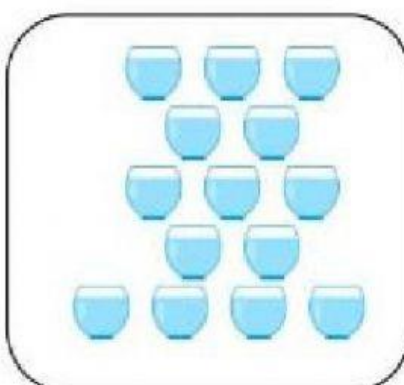

DATA: / /

ATIVIDADE

Comparando quantidades

1. VAMOS COMPARAR AS QUANTIDADES.

MARQUE O GRUPO QUE VOCÊ ACHA QUE TEM **MAIS** ELEMENTOS. DEPOIS CONTE-OS, ESCRIBA OS NUMERAIS E VEJA SE VOCÊ ACERTOU.

☐☐☐☐☐☐

2. CONTE OS CARRINHOS DO PEDRO E DO EDUARDO, QUAL DOS DOIS TEM MAIS CARINHOS? MARQUE O NOME DA CRIANÇA QUE TEM MAIS CARRINHOS.

PEDRO	EDUARDO
 	
 	 
 	
 	 

3. ESCREVA A QUANTIDADE DE PERAS QUE CADA PESSOA COMPROU E RESPONDA.

CECÍLIA



ROSA



JORGE



A) QUEM COMPROU MAIS PERAS: CECÍLIA OU ROSA? _____

QUANTAS A MAIS? _____

B) QUEM COMPROU MAIS PERAS: CECÍLIA OU JORGE? _____

QUANTAS A MAIS? _____

C) QUEM COMPROU MAIS PERAS: ROSA OU JORGE? _____

QUANTAS A MAIS? _____

4. OBSERVE OS VASOS.

QUAL DELES TEM MAIS FLORES? _____

QUANTAS FLORES ELE TEM A MAIS? _____

