

**K13**  
Edisi Revisi

**Tema 7 :**  
Peristiwa dalam  
Kehidupan



Tim Masmedia Buana Pustaka

# **NRT**

**METODE RINGKAS TERPADU**

**Penilaian**  
Subtema 2



untuk  
**SD/MI**  
Kelas

**5C**



## Penilaian Subtema 2

A. Berilah tanda silang (X) pada jawaban yang paling tepat.

PPKn

1. Berikut ini yang bukan contoh sikap toleransi antarmanusia adalah ...


a.



c.



b.



d.



2. Hal berikut yang tidak termasuk menjaga keutuhan NKRI adalah...

a. menghargai

c. mengejek

b. menghormati

d. saling menyayangi

3. Berikut yang merupakan manfaat menjaga persatuan dan kesatuan bangsa adalah ...

a. menjatuhkan martabat bangsa

b. memperkaya bangsa

c. memperkuat bangsa

d. menjadikan miskin

4. Menjaga keutuhan bangsa dapat dimulai dari tingkat ...

a. keluarga

c. teman

b. tetangga

d. negara



5. Kalimat Bhinneka Tunggal Ika diambil dari Kitab Sutasoma yang dikarang oleh ...
- a. Sujiwo Tejo
  - b. Ir. Soekarno
  - c. Mpu Tantular
  - d. Moh Yamin
6. Arti semboyan Bhinneka Tunggal Ika adalah ...
- a. bersama-sama tetapi tetap satu jiwa
  - b. berbeda-beda tapi tetap satu
  - c. berbeda-beda tapi terpisah
  - d. berbeda tapi bersama

### Bahasa Indonesia

7. Kata yang sesuai dengan kaidah ejaan bahasa Indonesia disebut...
- a. kata resmi
  - b. kata tanya
  - c. kata baku
  - d. kata seru
8. Kata tidak baku biasanya digunakan dalam ...
- a. karya ilmiah
  - b. surat resmi
  - c. percakapan sehari-hari
  - d. laporan
9. Berikut yang merupakan kosakata baku adalah ...
- a. salat
  - b. praktek
  - c. poto
  - d. karir
10. Berikut yang merupakan kosakata tidak baku adalah ...
- a. jendral
  - b. apotek
  - c. ramadan
  - d. napas
11. Kalimat berikut yang mengandung kosakata tidak baku adalah...
- a. Mintalah kwitansi sebagai bukti pembayaran.
  - b. Hari ini penerimaan ijazah siswa kelas 6.
  - c. Pikirkan sebelum memutuskan.
  - d. Resep itu harus ditebus di apotek.

12. Di **era** digital ini banyak sekali ponsel pintar di sekitar kita

Kata yang bercetak tebal di atas memiliki arti ...

- a. masa
- b. waktu
- c. keadaan
- d. posisi

### IPA

13. Berikut yang merupakan sifat dari bahan plastik adalah ...
- a. berat dan kedap air
  - b. kaku dan keras
  - c. ringan dan kedap air
  - d. mudah dibuat



14. Perhatikan gambar berikut!



Air yang terus menerus dipanaskan seperti gambar akan ...

- a. bertambah
  - b. semakin sedikit
  - c. sama
  - d. membeku
15. Perpindahan kalor dibedakan menjadi 3, yaitu ...
- a. konduksi, konveksi, dan adaptasi
  - b. konduksi, konveksi, dan radiasi
  - c. radiasi, konduksi, dan isolasi
  - d. konduksi, koveksi, dan asimilasi
16. Perpindahan kalor yang terjadi tanpa membutuhkan media disebut ...
- a. konduksi
  - b. konveksi
  - c. radiasi
  - d. transmisi
17. Salah satu sifat benda gas adalah mempunyai bentuk dan volume yang ...
- a. tetap
  - b. mengembang
  - c. berubah-ubah
  - d. sama
18. Besi dapat berubah wujud jika mengalami ...
- a. pemanasan
  - b. pendinginan
  - c. pembekuan
  - d. penguapan

### IPS


19. Tempat yang digunakan untuk memproklamasikan kemerdekaan Indonesia adalah ...
- a. Dalat
  - b. Rengasdengklok
  - c. Rumah Laksamana Maeda
  - d. Rumah Ir. Soekarno
20. Lagu Indonesia Raya diciptakan oleh ....
- a. Ibu sud
  - b. Ismail Marzuki
  - c. WR. Supratman
  - d. Hamdan ATT



21. Pertempuran 10 November di Surabaya diperingati sebagai ...
- a. Hari Pahlawan
  - b. Hari Merdeka
  - c. Hari Kesaktian Pancasila
  - d. Hari Pendidikan nasional
22. Peristiwa Bandung Lautan Api terjadi pada tanggal...
- a. 23 Maret 1946
  - b. 26 September 1945
  - c. 09 Oktober 1945
  - d. 20 September 1945
23. Tempat dilangsungkannya Perjanjian Linggarjati berada di provinsi ...
- a. Jawa Timur
  - b. Jawa Barat
  - c. Kalimantan Selatan
  - d. Sulawesi Utara
24. Belanda mengakui kedaulatan Indonesia pada tanggal ...
- a. 27 Desember 1949
  - b. 17 Januari 1948
  - c. 26 September 1949
  - d. 2 Februari 1945

### SBdP

25. Jenis tarian pada zaman dulu biasanya erat kaitannya dengan ...
- a. hiburan
  - b. upacara adat
  - c. olahraga
  - d. pertunjukan
26. Tarian yang diciptakan lebih beragam dari tari tradisional disebut ...
- a. tari daerah
  - b. tari kreasi
  - c. tari modern
  - d. tari nasional
27. Berikut yang bukan hasil modifikasi dari tari adalah ...
- a. warna sepatu
  - b. gerakan dan irama
  - c. tata rias dan busana
  - d. formasi dan gerak
28. Garis yang dilakukan penari dalam melakukan gerak tari disebut ..
- a. garis awal
  - b. pola lantai
  - c. garis finish
  - d. garis batas
29. Perhatikan gambar berikut!

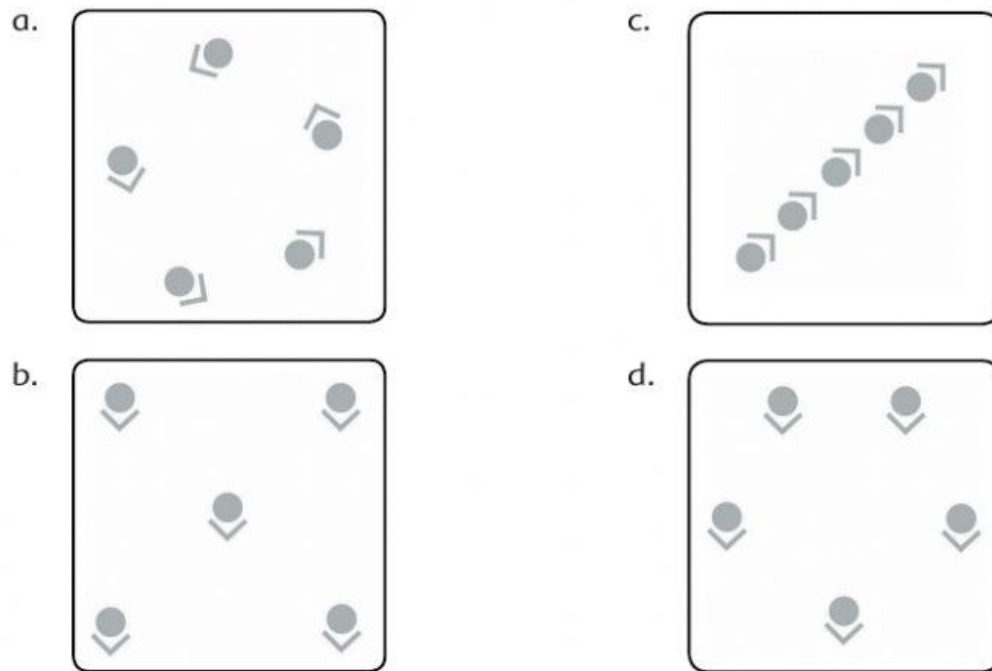


Gambar di samping membentuk pola lantai ...

- a. diagonal
- b. zig-zag
- c. horizontal
- d. vertikal



30. pola lantai yang membentuk formasi zig-zag ditunjukkan oleh gambar ...



**B. Isilah titik-titik di bawah ini dengan jawaban yang tepat.**

**PPKn**

1. Lambang negara Indonesia adalah ...

**Bahasa Indonesia**

2. Kata yang tidak sesuai dengan kaidah bahasa Indonesia disebut ...

**IPA**

3. Mengkristal adalah perubahan wujud dari ... menjadi ...

**IPS**

4. Pengibaran Bendera Merah Putih pada tanggal 17 Agustus 1945, dilakukan oleh ... dan ...

**SBdP**

5. Tari Kecak menggunakan pola lantai ...

### C. Kerjakan soal-soal di bawah ini.

#### PPKn

1. Jelaskan apa yang kamu lakukan untuk menjaga persatuan dan kesatuan bangsa di tengah keberagaman yang dimiliki!

.....  
.....  
.....

#### Bahasa Indonesia

2. Tuliskan langkah-langkah mendapatkan informasi dari teks bacaan!

.....  
.....  
.....

#### IPA

3. Apa yang dimaksud dengan perpindahan kalor secara radiasi? Sebutkan juga contohnya!

.....  
.....  
.....

#### IPS

4. Bagaimana kronologi terjadinya peristiwa Bandung Lautan Api?

.....  
.....  
.....

#### SBdP

5. Jelaskan perbedaan pola lantai horizontal dan diagonal!

.....  
.....  
.....