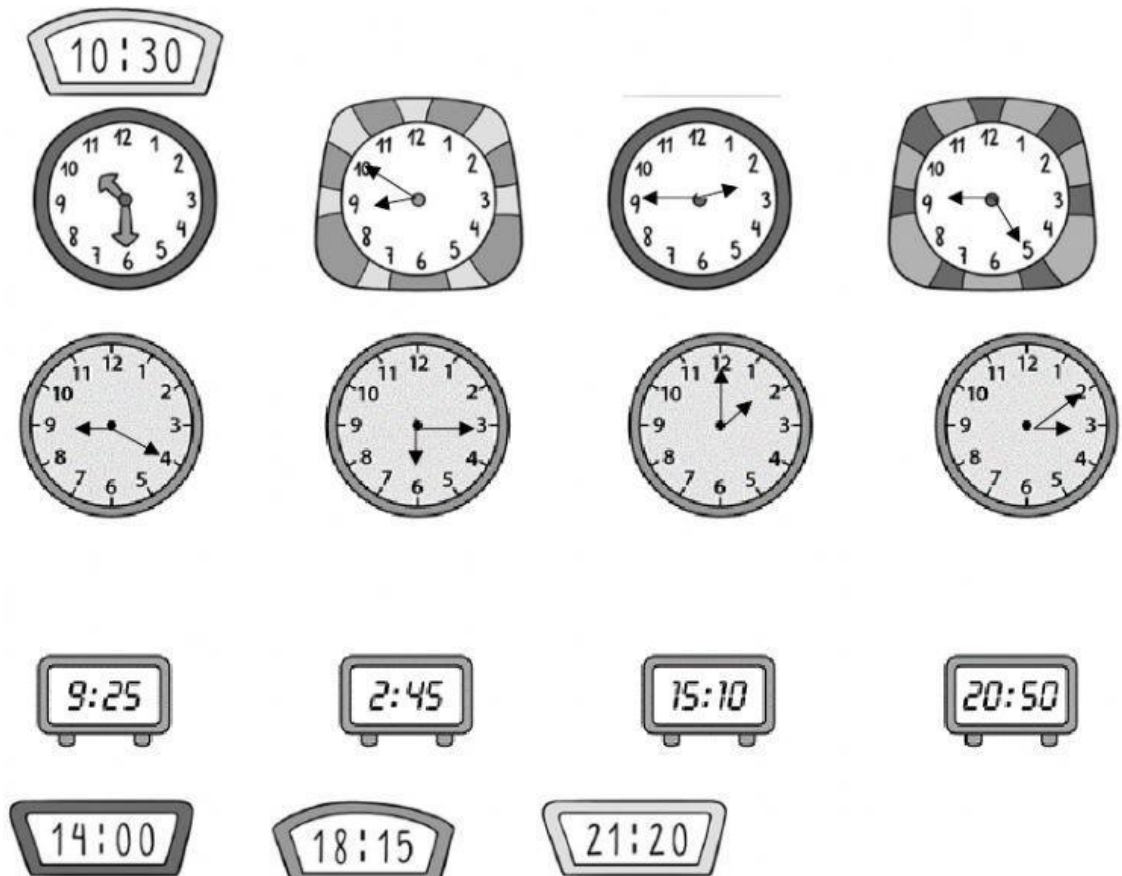
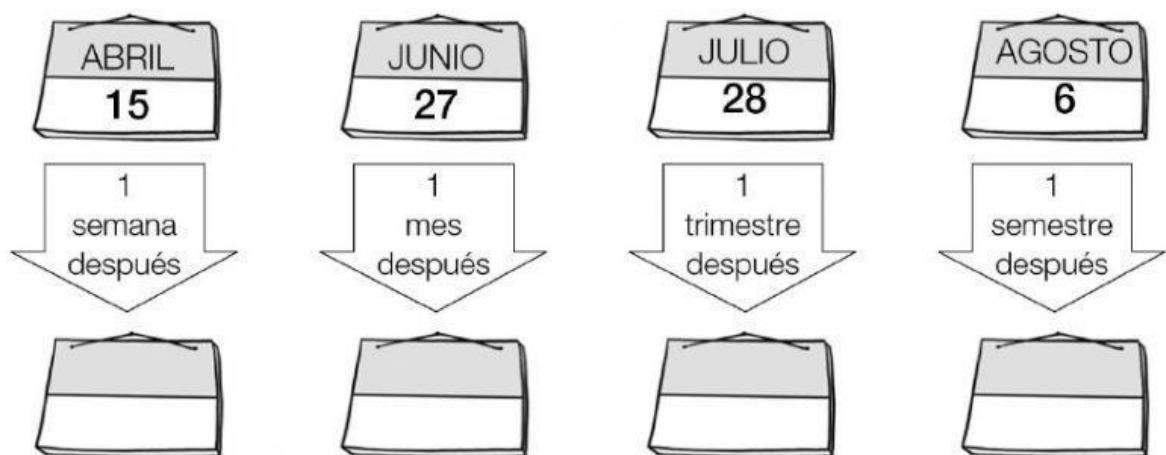


Prueba escrita de Tiempo y Dinero

1 Coloca cada reloj digital con su reloj analógico.



2 Calcula y completa las hojas de calendario.




3 Completa.

- 1 trimestre = $1 \times 3 =$ _____ meses.
- 4 trimestres = _____ meses.
- 1 semestre = $1 \times 6 =$ _____ meses.
- 7 semestres = _____ meses.
- 1 década = $1 \times 10 =$ _____ años.
- 8 décadas = _____ años.
- 1 siglo = $1 \times 100 =$ _____ años.
- 9 siglos = _____ años.

4 Cuenta y calcula cuánto dinero hay.



- En total hay ► _____ € y _____ céntimos = _____ €.



- En total hay ► _____ € y _____ céntimos = _____ €.