

DIVISIONE O MOLTIPLICAZIONE


1) IL PASTICCERE PREPARA 30 CIOCCOLATINI E LI DISTRIBUISCE
IN PARTI UGUALI IN 5 SCATOLE.
QUANTI CIOCCOLATINI METTE IN OGNI SCATOLA?

DATI

NUMERO DI CIOCCOLATINI

NUMERO DI SCATOLE

NUMERO DI CIOCCOLATINI IN OGNI SCATOLA?



OPERAZIONE X :

=

RISPOSTA

IN OGNI SCATOLA IL PASTICCERE METTE

CIOCCOLATINI

2) UN MAZZO DI CARTE DA GIOCO E' COMPOSTO DA 54 CARTE.
QUANTE CARTE CI SONO IN 4 MAZZI?

DATI

NUMERO DI CARTE IN OGNI MAZZO

NUMERO DI MAZZI

NUMERO DI CARTE IN TUTTO?

54 CARTE



54 CARTE



54 CARTE



54 CARTE



OPERAZIONE X :


			=

RISPOSTA

IN 4 MAZZI CI SONO IN TUTTO CARTE

3) IN MENSA PRANZANO 24 BAMBINI. IN MENSA CI SONO 3 TAVOLI.

QUANTI BAMBINI SI SIEDONO AD OGNI TAVOLO?



OPERAZIONE X :

=

RISPOSTA

AD OGNI TAVOLO SI SIEDONO

BAMBINI

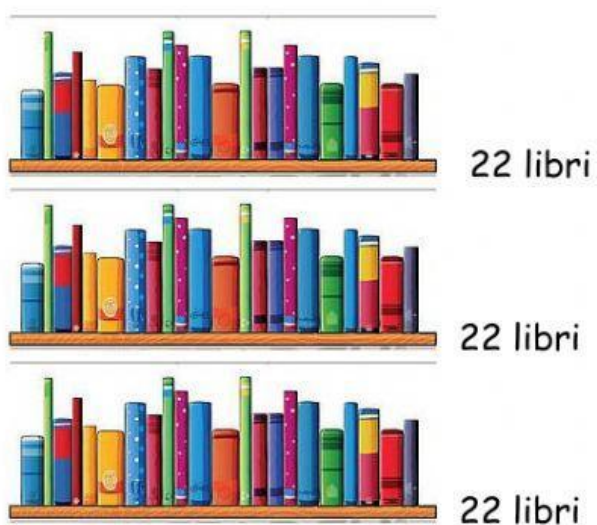
4) NELLA LIBRERIA CI SONO 3 SCAFFALI. OGNI SCAFFALE
CONTIENE 22 LIBRI.
QUANTI LIBRI CI SONO IN TUTTO NELLA LIBRERIA?

DATI

NUMERO DI SCAFFALI

NUMERO DI LIBRI IN OGNI SCAFFALE

NUMERO DI LIBRI IN TUTTO?



OPERAZIONE X :

			=

RISPOSTA

NELLA LIBRERIA CI SONO IN TUTTO LIBRI