

Nama : .....

No. Absen : .....

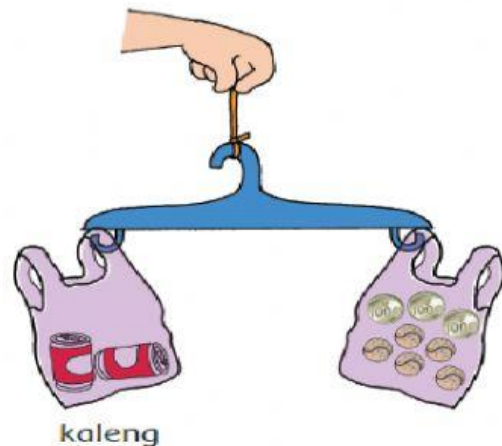
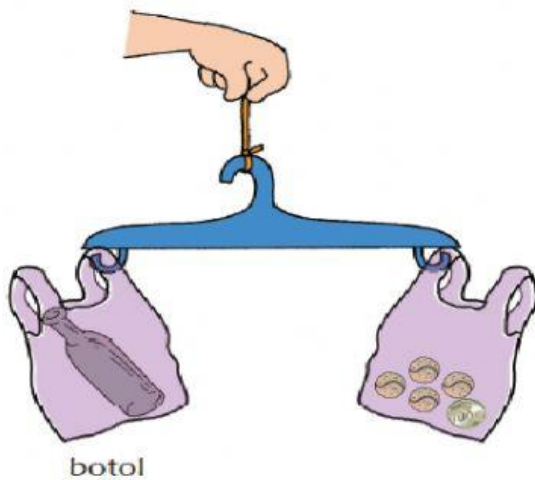
### Ayo Berlatih



Nah, coba bantu mereka ya.

Udin mengukur berat dua benda yang dia kumpulkan.

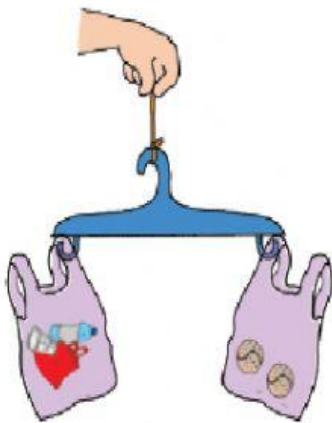
Hasil pengukuran digambarkan seperti berikut



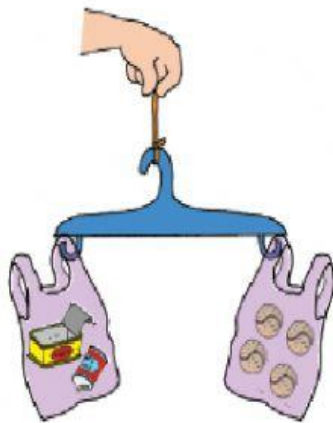
Sesuai hasil pengukuran tersebut, jawablah soal-soal berikut.

1. Benda yang lebih berat adalah .....
2. Benda yang lebih ringan adalah .....
3. Berat botol sebanding dengan ..... bola dan ..... koin.
4. Berat kaleng sebanding dengan.....bola dan .....koin.


Inilah hasil pengukuran berat sampah.



Sampah plastik



Sampah kaleng



Sampah kertas

Berdasarkan berat sampah tersebut, dapat disimpulkan bahwa:

Sampah paling berat yang dibuang siswa adalah sampah jenis.....