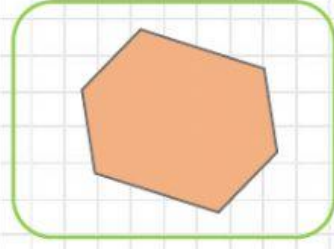
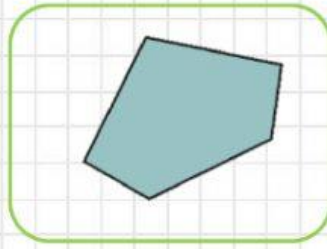
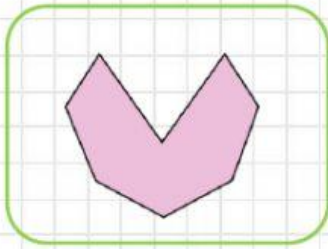




เลือกคำตอบที่ถูกต้อง

1. ข้อใดเป็นรูปห้าเหลี่ยม

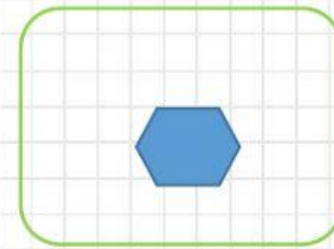
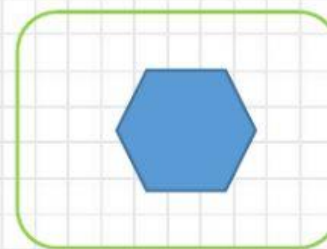
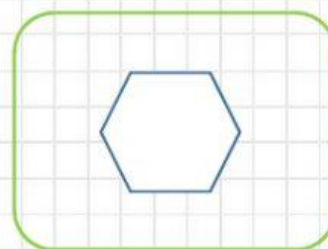


2. สิ่งของในข้อใด สามารถนำมาเป็นแบบของวงกลมได้



3.


รูปที่หายไปตรงกับข้อใด





ตอนที่ 2

ตอนที่ 2 อ่านข้อมูลจากแผนภูมิรูปภาพต่อไปนี้ แล้วเลือกคำตอบที่ถูกต้อง

จำนวนเครื่องดื่มที่แม่ค้าขายใน 1 สัปดาห์



กำหนดให้  1 รูป แทน จำนวนเครื่องดื่ม 5 แก้ว

- 1) แม่ค้าขายเครื่องดื่มในวันอังคารได้น้อยกว่าในวันพฤหัสบดี..... แก้ว
- 2) ถ้าวันอาทิตย์แม่ค้าขายเครื่องดื่มได้อีก 30 แก้ว ในวันอาทิตย์ ต้องมีรูป  เพิ่มอีก รูป
- 3) ถ้ากำหนดให้  1 รูป แทนจำนวนเครื่องดื่ม 10 แก้ว วันศุกร์และวันเสาร์แม่ค้าขายเครื่องดื่มได้รวม แก้ว

ตอนที่ 3

ตอนที่ 3 โยงเส้นจับคู่โจทย์กับผลลัพธ์ที่เท่ากัน

$$(37 + 53) \div 9 = \square$$

60

$$150 - (12 \times 5) = \square$$

4

พ่อเลี้ยงนก 70 ตัว เลี้ยงปลาหน้า
กว้านก 25 ตัว ซื้อปลาเพิ่มอีก
15 ตัว พ่อเลี้ยงปลาทั้งหมดกี่ตัว

10

แป้งมีพีชซ่า 4 ถาด ถาดละ 8 ชิ้น
แบ่งให้เพื่อน 8 คน คนละ
เท่าๆกัน เพื่อนๆของแป้งจะได้
พีชซ่าคนละกี่ชิ้น

90