


- In ogni cestino ci sono 4 mele. Raggruppa per 4 e completa.



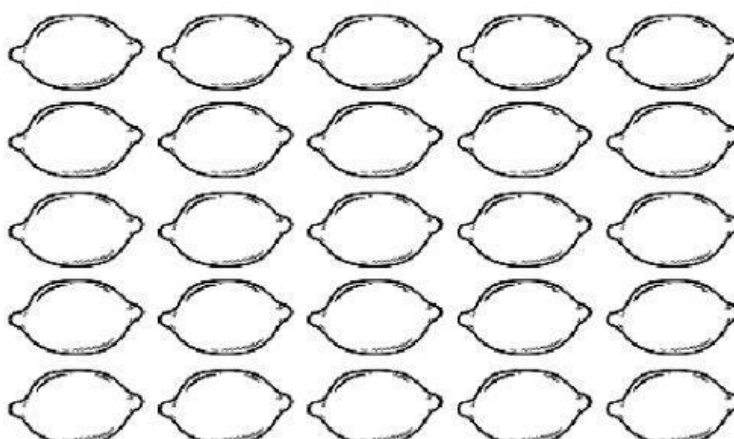
mele in tutto

mele in ogni cestino

cestini

:  =

- In ogni busta ci sono 5 limoni. Raggruppa per 5 e completa.



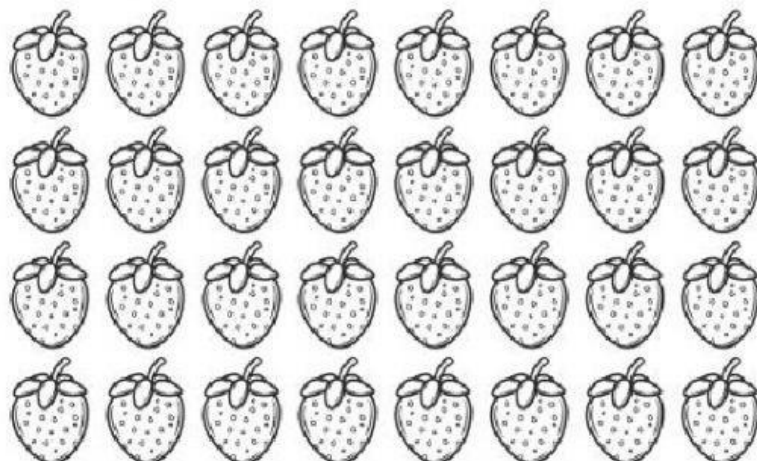
limoni in tutto

limoni in ogni busta

buste

:  =

- In ogni vaschetta ci sono 8 fragole. Raggruppa per 8 e completa.




fragole in tutto

fragole in ogni vaschetta

vaschette

:  =

- In ogni contenitore ci sono 6 uova. Raggruppa per 6 e completa.




uova in tutto

uova in ogni contenitore

contenitori

$$\boxed{\phantom{000000}} : \boxed{\phantom{000000}} = \boxed{\phantom{000000}}$$

- In ogni campo ci sono 7 palline. Raggruppa per 7 e completa.




palline in tutto

palline in ogni campo

campi

$$\boxed{\phantom{000000}} : \boxed{\phantom{000000}} = \boxed{\phantom{000000}}$$

- In ogni scatola ci sono 9 lampadine. Raggruppa per 9 e completa.



lampadine in tutto

lampadine in ogni scatola

scatole

$$\boxed{\phantom{000000}} : \boxed{\phantom{000000}} = \boxed{\phantom{000000}}$$

- In ogni cassetta ci sono 6 bottiglie. Raggruppa per 6 e completa.




bottiglie in tutto

bottiglie in ogni cassetta

cassette

:  =

- In ogni acquario ci sono 8 pesci. Raggruppa per 8 e completa.




pesci in tutto

pesci in ogni acquario

acquari

:  =

- In ogni scatola ci sono 3 penne. Raggruppa per 3 e completa.



penne in tutto

penne in ogni scatola

scatole

:  =