







# TRƯỜNG MẦM NON DỤC TÚ

Bé hãy chọn số tương ứng với số lượng nhóm đối tượng phía trên

							
<table border="1"><tbody><tr><td>3</td><td>1</td><td>2</td></tr></tbody></table>	3	1	2	<table border="1"><tbody><tr><td>4</td><td>3</td><td>2</td></tr></tbody></table>	4	3	2
3	1	2					
4	3	2					
							
<table border="1"><tbody><tr><td>3</td><td>5</td><td>4</td></tr></tbody></table>	3	5	4	<table border="1"><tbody><tr><td>5</td><td>4</td><td>6</td></tr></tbody></table>	5	4	6
3	5	4					
5	4	6					