

ÔN TOÁN GIỮA KÌ II – ĐỀ 1

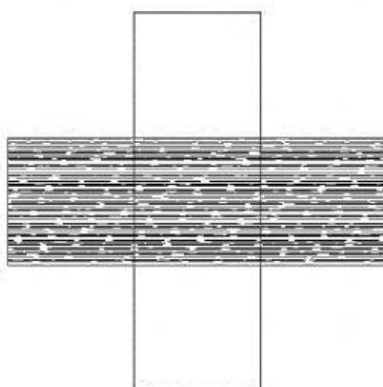
Câu 1: Phần tô màu đen chiếm bao nhiêu phần trăm của hình dưới đây

A. 3%

B. 30%

C. 60%

D. $\frac{3}{5}$ %



Câu 2: Phân số $\frac{2}{5}$ viết dưới dạng số thập phân là:

A. 2,5

B. 4,0

C. 0,25

D. 0,4

Câu 3: Diện tích hình thang có độ dài hai đáy lần lượt là $\frac{3}{4}$ m; $\frac{5}{6}$ m và có chiều cao là $\frac{2}{3}$ m là:

A. $\frac{19}{12}$ m²

B. $\frac{19}{36}$ m²

C. $\frac{10}{12}$ m²

D. $\frac{36}{19}$ m²

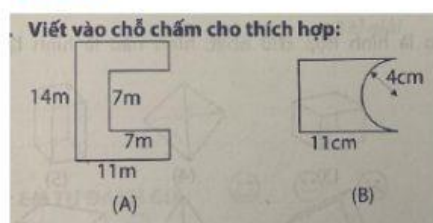
Câu 4: Bảng dưới đây ghi kết quả thời gian làm sản phẩm của mỗi một người trong cuộc thi

Tên người làm	Thời gian làm	Tên người làm	Thời gian làm
Long	12 phút 20 giây	Hùng	12 phút 12 giây
Bình	12 phút	Thắng	11 phút 8 giây
Việt	11 phút 48 giây	Lợi	12 phút 3 giây

Trong sáu người trên,

làm nhanh nhất.

Câu 6:



Diện tích hình (A) là:.....

Diện tích hình (B) là:.....

Câu 6: Tính:

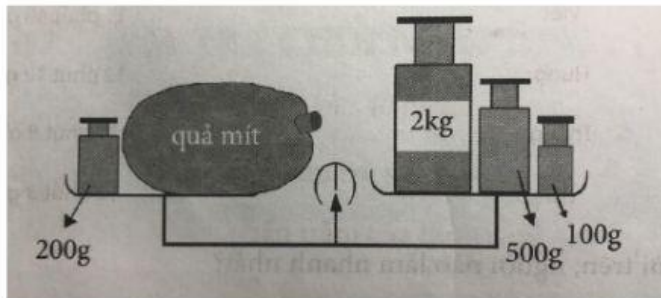
a) $3,67 + 28,6 =$

c) $4,56 \times 6,5 =$

b) $43,53 - 19,37 =$

d) $37,53 : 3 =$

Câu 7. Viết tiếp để được câu trả lời đúng:



Trả lời: Quả mít cân nặng:.....

Câu 8:

Một tủ sách có 800 cuốn bao gồm 4 loại: sách giáo khoa; sách tham khảo; sách thiếu nhi và tạp chí. Kết quả thống kê các loại sách đó được thể hiện trong biểu đồ hình quạt bên:

Số cuốn sách tham khảo có khoảng:

A. 120 cuốn

B. 160 cuốn

C. 200 cuốn

D. 320 cuốn



Câu 9. Hiện nay các sản phẩm từ mây tre đan ngày càng được ưa chuộng, vừa đẹp, vừa thân thiện với môi trường. Hộp đựng giấy làm từ mây tre đan có dạng hình lập phương cạnh 16 cm.

a) Tính diện tích phần vật liệu “mây tre đan” phủ 4 mặt xung quanh của chiếc hộp.

b) Nắp hộp có một khe hình chữ nhật dài 5 cm, rộng 3 cm để lấy giấy từ bên trong.



Tính diện tích mây tre đan bao quanh toàn hộp.