

PENILAIAN TENGAH SEMESTER (PTS) GENAP
TAHUN PELAJARAN 2021/2022

TEMA 7
PERISTIWA DALAM KEHIDUPAN



SD NEGERI 223 PALEMBANG

NAMA :
KELAS :
No. Absen :

LEMBAR KERJA PESERTA DIDIK

Mata Pelajaran : Tema 7
Kelas : V (Lima)

Semester : II /Genap
Alokasi Waktu : 90 Menit

Indikator :

- 3.3.1 Menjelaskan Keberagaman sosial budaya masyarakat (Ppkn)
- 3.3.2 Menyebutkan contoh keberagaman sosial budaya masyarakat (Ppkn)
- 3.5.1 Menentukan kata tanya dan kalimat pertanyaan yang sesuai dengan teks narasi sejarah yang disajikan (Bahasa Indonesia)
- 3.7.1 Menjelaskan Wujud benda, sifat-sifat benda, dan perubahan wujud benda (IPA)
- 3.7.2 Menyebutkan contoh benda dan contoh perubahan wujud benda (IPA)
- 3.4.1 Menjelaskan faktor-faktor penting penyebab penjajahan (IPS)
- 3.4.2 Menyebutkan bangsa-bangsa eropa yang melakukan penjajahan (IPS)
- 3.2.1 Menjelaskan tangga nada mayor dan minor (SBdP)

Petunjuk :

- 1. Amati gambar dan video youtube sesuai dengan materi pada LKPD!
- 2. Bacalah teks sesuai dengan soal pada LKPD!
- 3. Deskripsikan sesuai dengan soal pada LKPD!
- 4. Tuliskan jawaban yang benar sesuai dengan soal pada LKPD!
- 5. Hubungan dengan menggaris bulatan hitam dari sebelah kiri ke sebelah kanan sesuai dengan soal pada LKPD!
- 6. Tentukan pernyataan "Benar dan Salah" sesuai dengan soal pada LKPD!
- 7. Hubungkan dengan menarik kata kemudian memindahkan pada gambar sesuai dengan soal pada LKPD!

Kegiatan :

- 1. Siswa mengamati gambar dan video youtube sesuai dengan soal pada LKPD!
- 2. Siswa membaca teks sesuai dengan soal pada LKPD!
- 3. Siswa mendeskripsikan sesuai dengan soal pada LKPD!
- 4. Siswa menuliskan jawaban yang benar tentang sesuai dengan soal pada LKPD!
- 5. Siswa menghubungkan dengan menggaris bulatan hitam dari sebelah kiri ke sebelah kanan sesuai dengan soal pada LKPD!
- 6. Siswa menentukan pernyataan "Benar atau Salah" tentang sesuai dengan soal pada LKPD!
- 7. Siswa menghubungkan dengan menarik kata kemudian memindahkan pada sesuai dengan soal pada LKPD!

Amati video tentang Faktor-Faktor Penyebab Keragaman Bangsa Indonesia berikut untuk menjawab soal nomor 1 – 5!



- Berikut pernyataan dibawah ini yang bukan termasuk Faktor Penyebab Keragaman Bangsa Indonesia adalah...
 - Faktor sejarah indonesia
 - Faktor keturunan terdiri dari ras dan suku
 - Tidak ada campuran budaya asing
 - Perbedaan kondisi geografis wilayah Indonesia
- Golongan manusia yang mengidentifikasi dirinya dengan sesama berdasarkan garis keturunan yang merujuk kepada ciri khas, budaya, agama, dan perilaku disebut

- Berdasarkan video tentang Faktor-faktor Penyebab Keragaman yaitu Faktor Keturunan (ras). Manakah pernyataan yang benar dibawah ini. Berilah tanda centang (✓) pada kolom "Benar atau Salah" pada setiap pernyataan!

Pernyataan	Benar	Salah
Kelompok ras Negroid tinggal didaerah Papua dan Pulau Aru		
Kelompok ras Weddoid mendiami Pulau Maluku, Riau dan Jambi		
Kelompok Melanezoid terdapat di pulau Kai, Papua		

- Berdasarkan video tentang Faktor-Faktor Penyebab Keragaman Bangsa Indonesia merupakan bangsa majemuk artinya terdiri dari keanekaragaman dari berbagai sisi, dimulai dari keanekaragaman, suku, budaya, pekerjaan, agama, dan lain-lain. Pasangkan kata yang sesuai dengan gambar! Pasangkanlah dengan menggaris bulatan hitam dari sebelah kiri ke sebelah kanan!



Pekerjaan






Budaya



Agama

5. Setelah kamu mengamati video tentang Faktor-Faktor Penyebab Keragaman yaitu Faktor Keturunan (ras). Pasangkan kata yang sesuai dengan gambar! Pasangkanlah dengan menarik kata kemudian memindahkan pada gambar!

<div style="background-color: #4a86e8; color: white; padding: 2px 10px; margin-bottom: 5px;">Ras Mongoloid</div>  <div style="background-color: #4a86e8; height: 20px; width: 100%; margin-top: 10px;"></div>	<div style="background-color: #4a86e8; color: white; padding: 2px 10px; margin-bottom: 5px;">Ras Weddoid</div>  <div style="background-color: #4a86e8; height: 20px; width: 100%; margin-top: 10px;"></div>	<div style="background-color: #4a86e8; color: white; padding: 2px 10px; margin-bottom: 5px;">Ras Melanezoid</div>  <div style="background-color: #4a86e8; height: 20px; width: 100%; margin-top: 10px;"></div>
--	--	---

Cermatilah teks bacaan berikut dibawah ini untuk menjawab soal nomor 6 - 10!

Pahlawan R.A Kartini

Raden Ajeng Kartini atau yang kita kenal dengan ibu kartini, dia adalah salah seorang keturunan keluarga yang lahir di Mayong, Jepara 21 April 1879. Beliau hanya tamat sekolah dasar (SD). Beliau tidak pernah puas akan ilmu pengetahuan dan membuatnya ingin melanjutkan ke jenjang sekolah yang lebih tinggi. Namun ayahnya tidak sependapat dengan beliau untuk melanjutkan pendidikannya. Pada waktu itu gadis yang belum menikah belum dibolehkan keluar rumah atau disebut dipingit. Untuk mengisi waktu luang beliau membaca buku ilmu pengetahuan yang ia miliki. Beliau memang gemar membaca atau disebut kutu buku.

Kartini mempunyai teman yang banyak dibelanda. Bahkan pernah meminta Mr. J. H Abendanon untuk memberikan dirinya beasiswa untuk belajar dibelanda. Blum sempat menyampaikan keinginannya beliau dinikahkan dengan Raden Adipati Oyodiningrat dari Rembang. Pada tanggal 17 September 1904 Kartini meninggal. Saat melahirkan anak pertama dan satu-satunya.

Kemudian kisahnya menjadi pelopor emansipasi wanita ditanah jawa dibuka kan oleh Abendanon dengan judul "Door Duistemis Tot Lincht" atau yang kita kenal dengan "Habis Gelap Terbitlah Terang". Buku inilah yang menginspirasi wanita Indonesia sampai sekarang.

6. Nama Tokoh pejuang dalam cerita diatas adalah...

- | | |
|-------------------------------|------------------|
| A. Raden Adipati Oyodiningrat | C. Mr. Abendanon |
| B. Raden Ajeng Kartini | D. Raden Kartini |

7. Orang yang hobi atau gemar membaca buku-buku ilmu pengetahuan disebut

8. Manakah kalimat tanya dibawah ini yang sesuai dengan jawaban yang ada ditek bacaan. Berilah tanda centang (✓) pada kolom "Benar atau Salah" pada setiap pernyataan!

Pernyataan	Benar	Salah
Siapakah yang menentang pendapat R.A Kartini untuk melanjutkan pendidikannya		
Berapa lama R.A Kartini dipingit waktu itu?		
Kapan R.A Kartini dilahirkan?		

9. Berdasarkan teks diatas, Pasangkan pernyataan yang benar! Pasangkanlah dengan menggaris bulatan hitam dari sebelah kiri ke sebelah kanan!

Lahir R.A Kartini	●	●	17 September 1904
R.A Kartini Wafat	●	●	Habis Gelap Terbitlah Terang
Buku yang Menginspirasi kaum wanita	●	●	21 April 1879

10. Pasangkan kata tanya yang sesuai dengan kalimat tanya yang benar! Pasangkanlah dengan menarik kata kemudian memindahkannya pada jawaban yang benar!

Nama Suami R.A Kartini?

Keadaan gadis waktu itu?

Yang dilakukan R.A Kartini untuk mengisi waktu luangnya?

Apa

Siapa

Bagaimana

Amati video tentang Sifat Benda dan Perubahan Wujud Benda. Berikut untuk menjawab soal nomor 11 - 15!



11. Ada berbagai jenis benda disekitar kita. Berikut yang bukan termasuk wujud benda adalah...

A. Cair

C. Padat

B. Gas

D. Beku

12. Segala sesuatu yang dapat diamati, memiliki massa, dan menempati ruang adalah

13. Berdasarkan video tentang sifat benda dan perubahan wujud benda, manakah pernyataan yang benar dibawah ini! Berilah tanda centang (✓) PADA KOLOM "Benar atau Salah" pada setiap pernyataan!

Pernyataan	Benar	Salah
Sifat benda padat memiliki bentuk dan volume selalu tetap		
Sifat benda cair tidak memiliki daya kapilaritas yaitu tidak mampu melewati celah-celah yang kecil		
Sifat benda gas partikel penyusunnya rapat dan berdekatan		

14. Berdasarkan video tentang sifat benda dan perubahan wujud benda, Pasangkan kata yang sesuai dengan gambar! Pasangkanlah dengan menarik garis dari bulatan hitam dari sebelah kiri ke sebelah kanan!



Benda Cair



Benda Padat



Benda Gas

15. Setelah kamu mengamati video tentang perubahan wujud benda. Pasangkan kata yang sesuai dengan gambar!

Peristiwa Menguap

Peristiwa Menyublim

Peristiwa Mengembun



Cermati teks bacaan dibawah untuk menjawab soal nomor 16 – 20!

Masa Penjajahan Bangsa Eropa di Indonesia

Penjelajahan samudra yang dilakukan pada abad 15 menjadi salah satu alasan mengapa bangsa Eropa mendarat di negeri-negeri timur yang melimpah kekayaan alamnya termasuk Indonesia.

Tujuan utama dari penjelajahan samudra yaitu :

- Mencari Kejayaan (Glory)
- Mencari Kekayaan (Gold)
- Menyebarkan agama (Gospel)
- Mencari Rempah-Rempah

Bangsa Eropa yang pernah melakukan penjelajahan dan penjajahan di Indonesia dimulai bangsa Portugis mendarat di Malaka tahun 1511. Berikut bangsa Spanyol yang mendarat di Tidore, Maluku tahun 1521. Kemudian disusul oleh bangsa Inggris dan Belanda mendarat di pelabuhan Banten tahun 1596.

16. Penjelajahan samudra yang dilakukan bangsa eropa di Indonesia terjadi pada abad ke...

- A. 15
- B. 16
- C. 51
- D. 14

17. Bangsa eropa yang pertama kali datang ke Indonesia melakukan penjajahan adalah bangsa

18. Manakah pernyataan yang benar sesuai dengan teks diatas. Berilah tanda centang (✓) pada kolom "Benar atau Salah" pada setiap pernyataan!

Pernyataan	Benar	Salah
Tujuan bangsa eropa datang ke Indonesia menjalin kerjasama		
Bangsa eropa yang melakukan penjajahan ke Indonesia setelah bangsa Portugis adalah bangsa Spanyol		
Bangsa Belanda pertama kali mendarat di Indonesia di daerah Maluku		

19. Pasangkan kata yang sesuai dengan gambar! Pasangkanlah dengan menarik garis bulatan hitam dari sebelah kiri ke bulatan hitam sebelah kanan!



Gospel



Gold



Glory

20. Berdasarkan teks diatas pasangkan dengan benar nama-nama bangsa eropa, tempat dan tahun melakukan penjelajahan dan penjajahan di Indonesia! Pasangkanlah dengan menarik kata kemudain memindahkannya pada jawaban yang benar!

Tahun Kedatangan 1521 di Tidore Maluku

Tahun Kedatangan 1596 di Banten

Tahun Kedatangan 1511 di Maluku

Belanda

Spanyol

Portugis

Amati video tentang tangga nada diatonis mayor dan minor untuk menjawab soal nomor 21 – 25!



21. Tangga nada diatonis urutan yang ke empat berbunyi...

- A. Mi
- B. Sol
- C. Fa
- D. La

22. Tangga nada yang terjadi dari 8 nada adalah tangga nada



23. Manakah pernyataan yang benar mengenai ciri-ciri tangga nada diatonis mayor dan minor! Berilah tanda centang (✓) pada kolom "Benar atau Salah" pada setiap pernyataan!

Pernyataan	Benar	Salah
Mengenai nada diatonis mayor memiliki interval $1 - \frac{1}{2} - 1 - 1 - 1 - 1 - \frac{1}{2}$		
Tangga nada diatonis minor nadanya bersifat lembut, syahdu, dan sedih		
Tangga nada diatonis minor diawali dan diakhiri nada La (6)		

24. Berdasarkan contoh alat musik yang dimainkan dengan tangga nada diatonis dan pentatonis. Pasangkan kata yang sesuai dengan gambar! Pasangkanlah dengan menggaris bulatan hitam dari sebelah kiri ke bulatan hitam sebelah kanan!



Diatonis



Mayor



Pentalonis

25. Berdasarkan video, Pasangkan dengan benar lagu-lagu wajib dan penciptanya! Pasangkanlah dengan menarik kata kemudian memindahkannya pada jawaban yang benar!

Lagu Indonesia Raya

Lagu Halo-Halo Bandung

Lagu Syukur

Ismail Marzuki

Husein Mutahar

WR. Soepratman