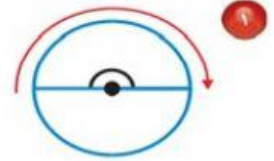
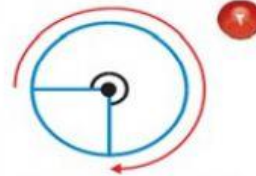
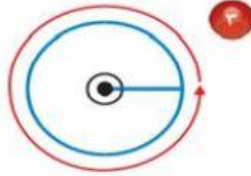


تقييم الهدف الأول:

تأكّد



اكتب قياس كل زاوية بالدرجات والكسور:



١	$\frac{3}{4}$	$\frac{1}{2}$	$\frac{1}{4}$

١	$\frac{3}{4}$	$\frac{1}{2}$	$\frac{1}{4}$

١	$\frac{3}{4}$	$\frac{1}{2}$	$\frac{1}{4}$