




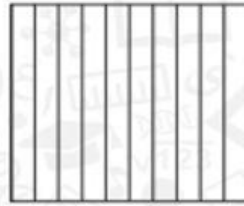
## تمارين ذاتية

اكتب كل كسر على صورة كسر مُكافئ بمقام 100. وظلل الشبكة لتبين أن الكسور مكافئة.



3.  $\frac{1}{10} = \frac{\quad}{100}$



4.  $\frac{8}{10} = \frac{\quad}{100}$



5.  $\frac{5}{10} = \frac{\quad}{100}$



6. اكتب الكسر في التمرين 3 على صورة عدد عشري.

7. اكتب الكسر في التمرين 4 على صورة عدد عشري.

8. اكتب الكسر في التمرين 5 على صورة عدد عشري.