

Ulangan Harian

ORGANISASI KEHIDUPAN



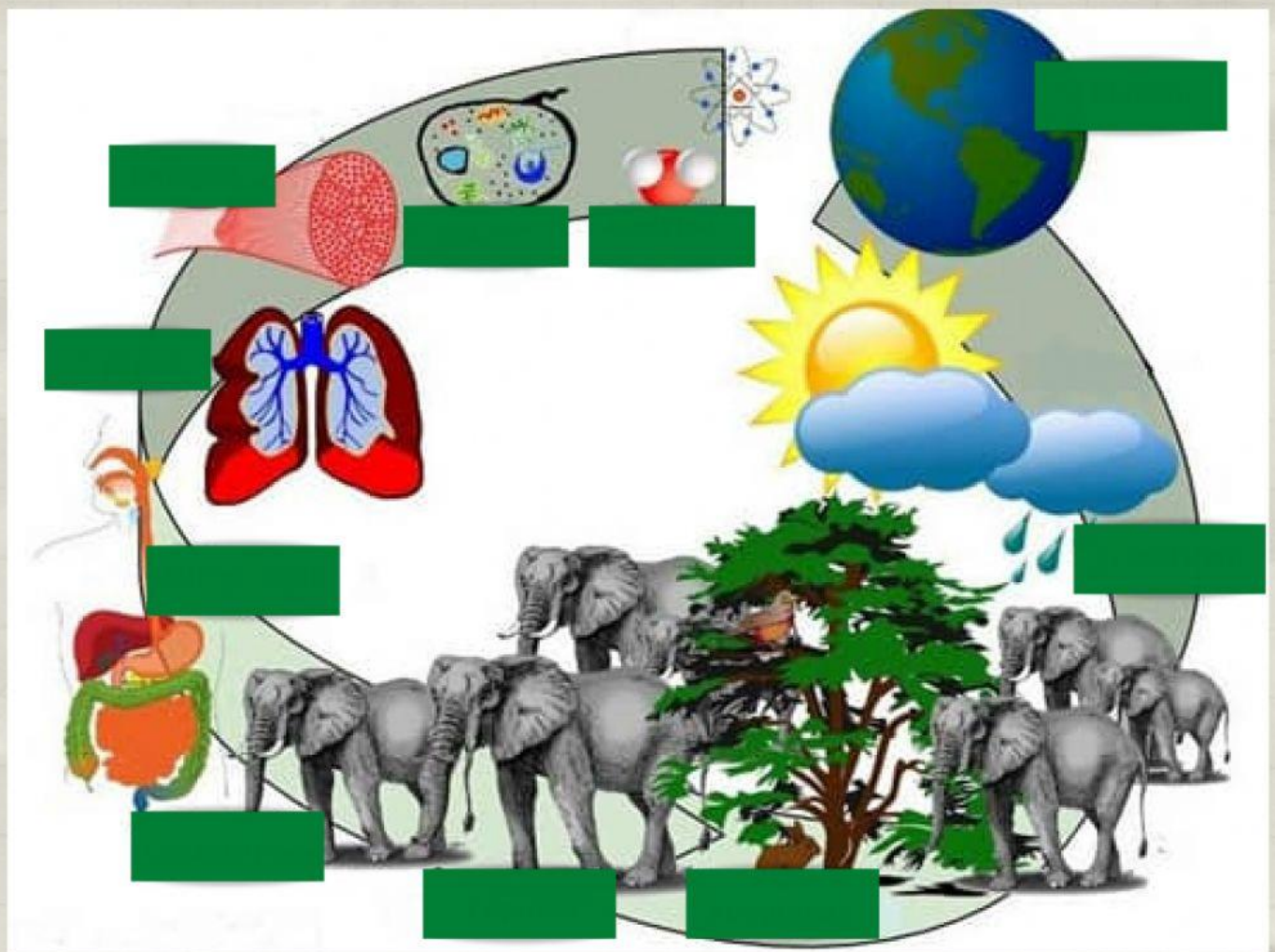
Nama :

Kelas/No absen:

Miss Reza SMP Widiatmika

Tingkatan Organisasi Kehidupan

Tentukan tingkatan organisasi kehidupan dibawah ini!



Struktur Sel

Pasangkanlah gambar sel dengan nama sel dengan tepat dan benar!



Sel hewan

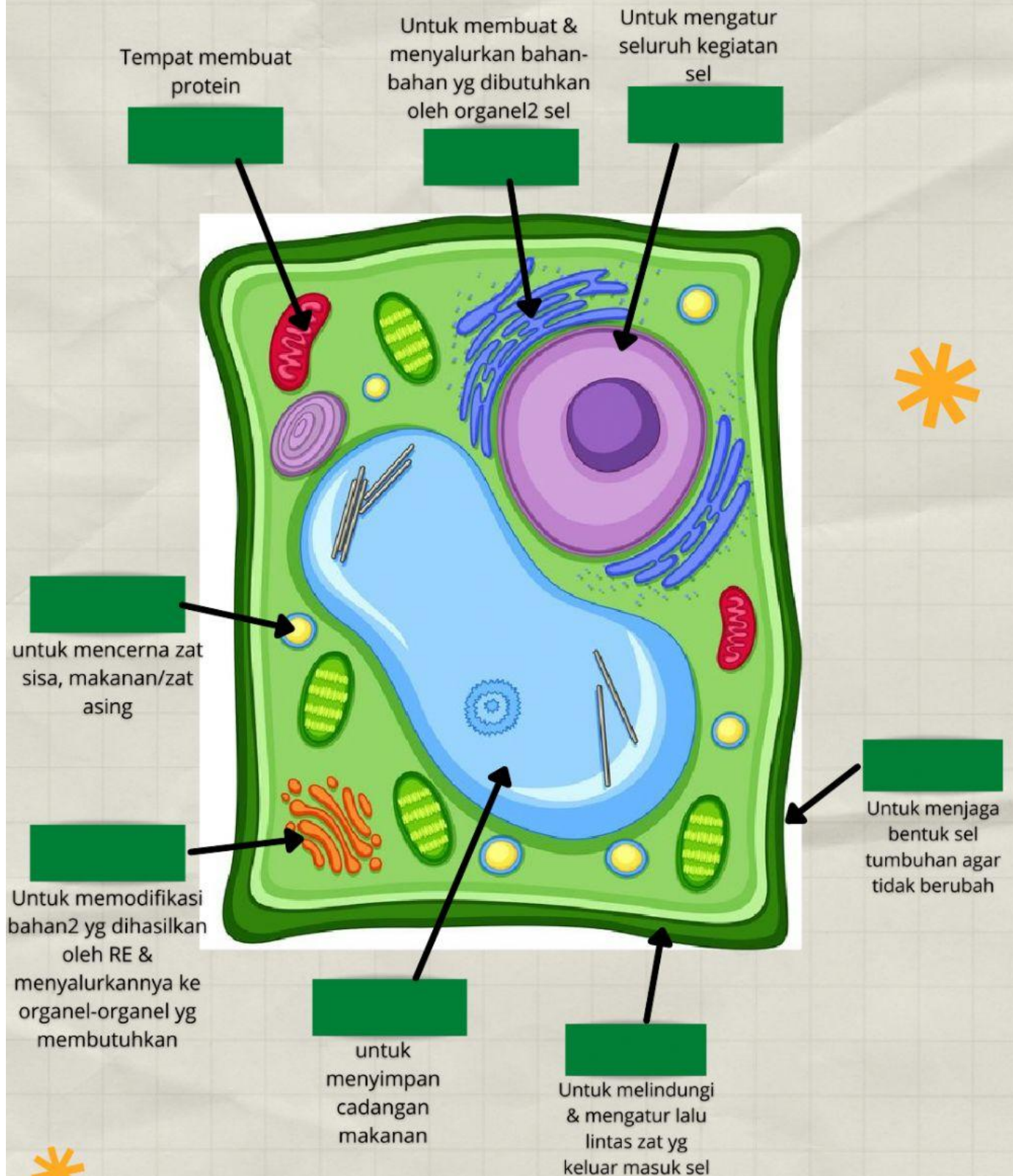


Sel Tumbuhan



Bagian-bagian Sel Tumbuhan

Pilihlah jawaban yang paling benar dan tepat!



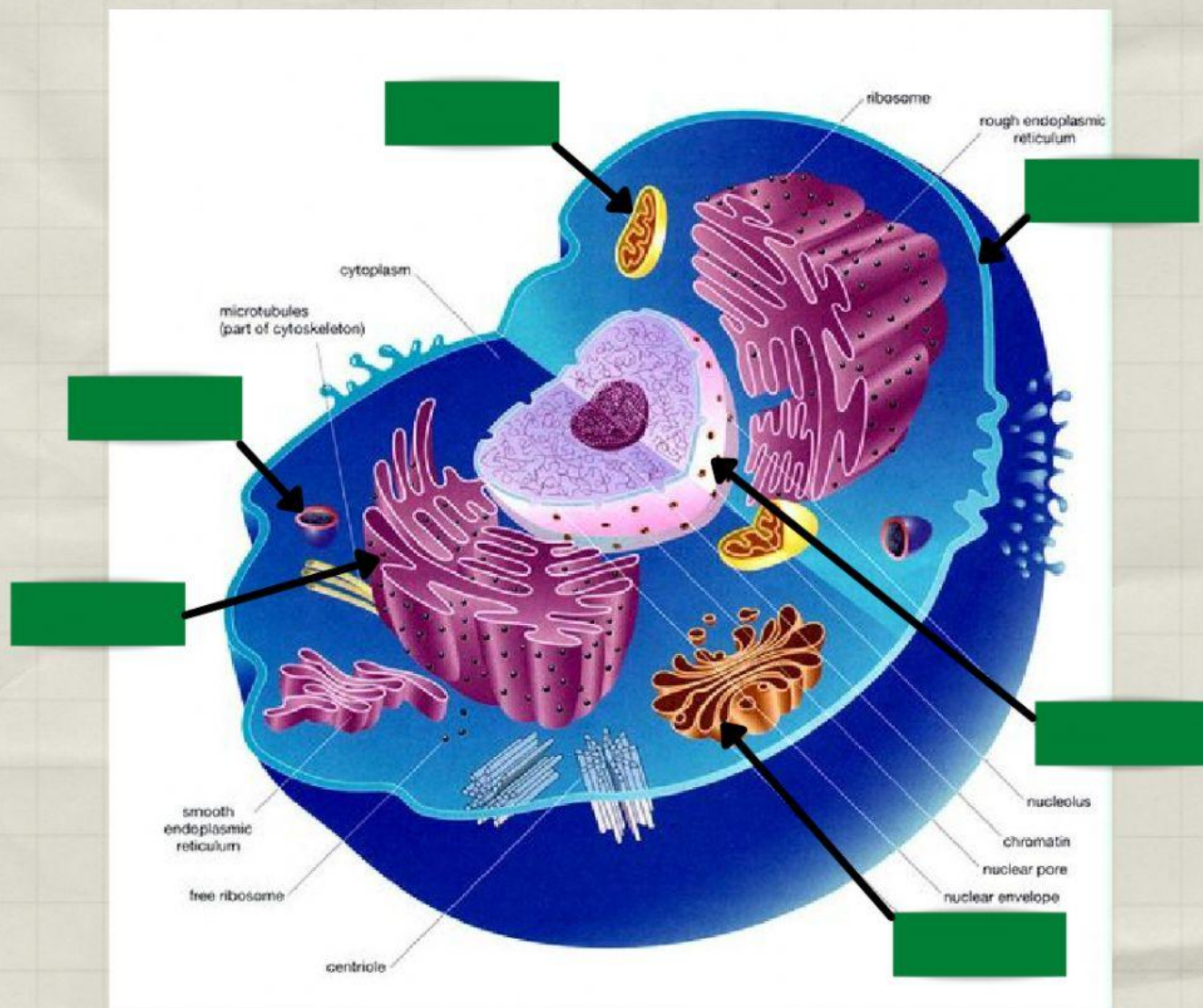
Miss Reza SMP Widiatmika



Bagian-bagian Sel Hewan



Pilihlah jawaban yang paling benar dan tepat!





Soal-soal

Jawablah dengan tepat dan benar!

1. Bagian sel yang bukan organel adalah....
 - a. Nukleus
 - b. Mitokondria
 - c. Vakuola
 - d. Ribosom
2. Urutan sistem organisasi kehidupan yang benar adalah....
 - a. sel --> organ --> jaringan --> sistem organ --> organisme
 - b. sel --> jaringan --> sistem organ --> organ --> organisme
 - c. sel --> organ --> sistem organ --> jaringan --> organisme
 - d. sel --> jaringan --> organ --> sistem organ --> organisme
3. Sel prokariotik tidak memiliki membran sel. Contohnya adalah....
 - a. Manusia
 - b. Bakteri
 - c. Ular
 - d. Padi
4. Perhatikan gambar berikut!



Gambar tersebut termasuk....

- a. Sistem organ
 - b. Sel
 - c. Organisme
 - d. Organ
5. Sebutkan 3 macam organ pada tumbuhan!
 6. Apa akibatnya jika sel tidak memiliki dinding sel. jelaskan!