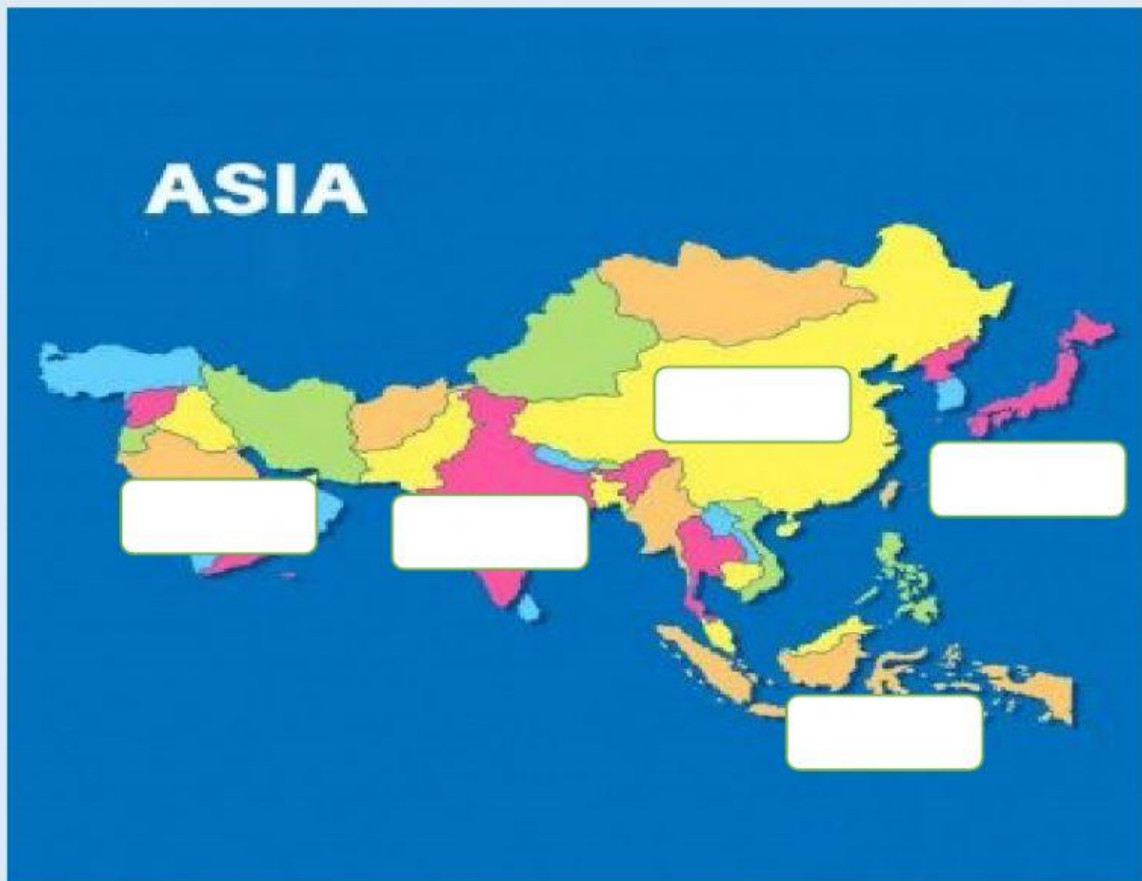


EVALUASI 1
BAB KERJASAMA NEGARA MAJU DENGAN NEGARA BERKEMBANG
MATA PELAJARAN GEOGRAFI
KELAS XII IPS
SMA PASUNDAN 8 BANDUNG 2021-2022

DRAG DAN DROP

1. AMATILAH PETA BENUA ASIA BERIKUT INI

Di Asia Bagian manakah negara negara tersebut berada !



JEPANG

INDIA


UZBEKISTAN

ARAB SAUDI

INDONESIA

DRAG & DROP

2. KELOMPOKAN NEGARA NEGARA BERIKUT INI TERMASUK NEGARA MAJU ATAU NEGARA BERKEMBANG



NEGARA BERKEMBANG

NEGARA BERKEMBANG

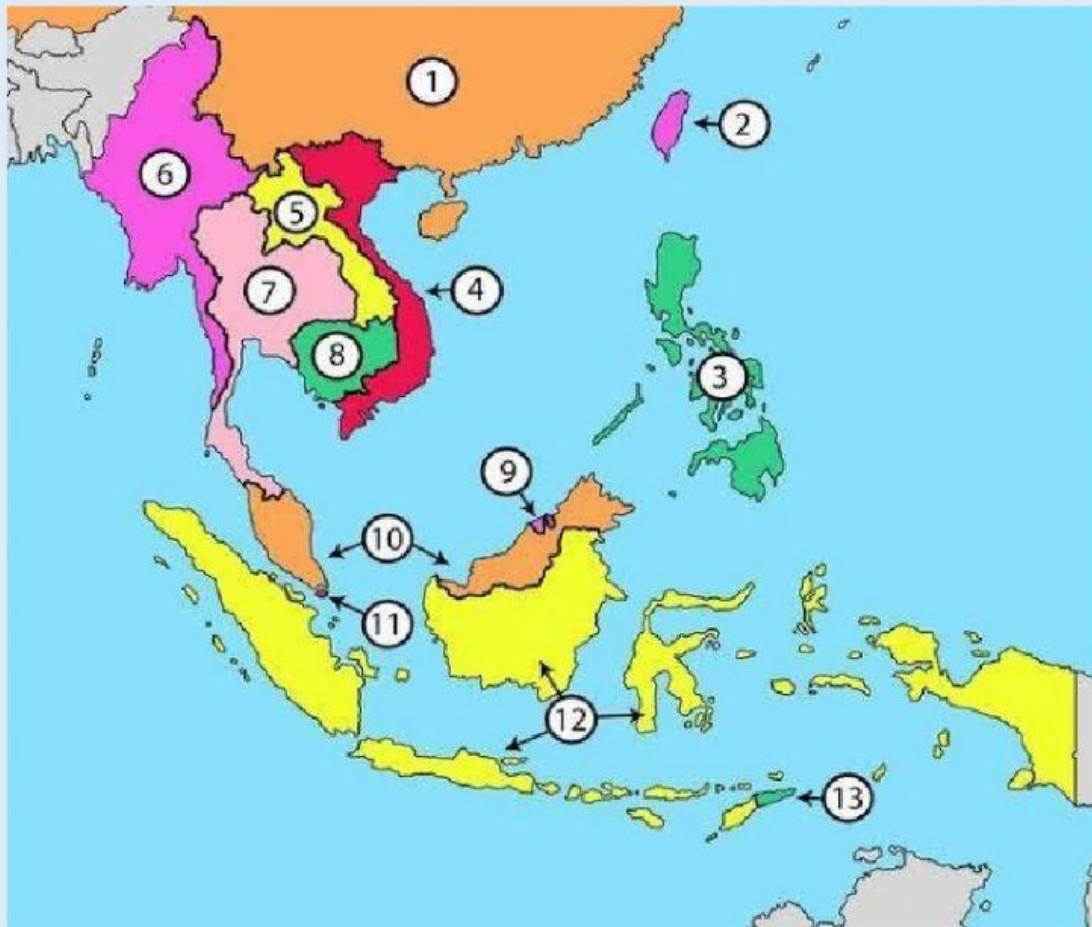
NEGARA BERKEMBANG

NEGARA MAJU

NEGARA MAJU

NEGARA BERKEMBANG

PILIH LAH



Salah satu negara maju yang terdapat di ASEAN di tunjukan apada no

Brunei darussalam ditunjukan pada peta ASEAN tersebut terdapat pada no ...

PILIH LAH

3. Salah satu indikator negara maju adalah sebagian besar penduduknya memiliki mata pencaharian ...

- A. Industri
- B. Perdagangan
- C. Pertanian
- D. Pertambangan
- E. Kehutanan

4. Salah satu ciri khas perdagangan di negara maju adalah

- A. Ekspor lebih besar daripada impor
- B. Ekspor lebih kecil daripada impor
- C. Bertujuan untuk komersialisasi
- D. Menghasilkan teknologi yang tinggi
- E. Ekspor sama dengan impor

5. salah atu contoh kerjasama dalam bidang perdaganganan pasar bebas di kawasan ASIA Tenggara adalah

- A. OPEC
- B. APEC
- C. AFTA
- D. EFTA
- E. NAFTA

6. Berikut ini ciri khas negara maju dalam bidang kependudukan adalah

- A. Standar hidup ang rendah
- B. Produktivitas tenaga kerja yang rendah
- C. Angka beban ketergantungan tinggi
- D. Sebagian besar penduduknya tinggal diperkotaan
- E. Tingkat pertumbuhan penduduk yang rendah

7. Negara negara berkembang sebagian besar menempati wilaah benua

- A. Afrika, Australia, dan Amerika Latin
- B. Afrika, Asia dan Amerika Latin
- C. Australia, Amerika, dan Asia
- D. Australia, Afrika, dan Eropa
- E. Eropa, Amerika Latin, dan Asia

8. Teknologi yang terdapat di negara berkembang bersifat

- A. Sederhana
- B. Tradisional
- C. Maju
- D. Canggih
- E. Sederhana dan tradisional

9. Data yang digunakan untuk mengetahui tingkat pertumbuhan ekonomi suatu negara adalah

- A. Kuota import
- B. Kuota ekspor
- C. Pendapatan masyarakat
- D. Pendapatan perkapita
- E. Pendapatan tahunan

10. Pernyataan berikut terdapat salah satu yang bukan merupakan fungsi pasar bebas adalah

- A. Memberikan informasi yang lebih tepat mengenai harga dan jumlah permintaan
- B. Memberikan perangsang kepada para pengusaha untuk mengembangkan usaha
- C. memberikan perangsang kepada para pengusaha untuk memperoleh keahlian
- D. memberikan perangsang penggunaan barang dan faktor produksi secara lebih
- E. membatasi masyarakat melakukan kegiatan ekonomi

11. Salah satu strategi pembangunan Indonesia untuk dapat menjadi negara maju adalah

- A. melakukan penyuluhan pembangunan kepada masyarakat
- B. Meningkatkan pembangunan sarana
- C. Meningkatkan iklim persaingan ekonomi
- D. meningkatkan kualitas SDM melalui bidang pendidikan dan kesehatan
- E. Meningkatkan pembangunan pertanian

12. Berikut ini negara berkembang yang terdapat di Asia Barat adalah ...

- A. Thailand, vietnam, dan hongkong
- B. Iran, India, dan Indonesia
- C. Arab saudi, iran dan Yaman
- D. Korea Selatan, Taiwan dan Bangladesh
- E. Uzbekistan, Afganistan, dan Jepang

13. Tingkat pengangguran di negara berkembang sangat tinggi, hal ini disebabkan karena

- A. Sedikitnya lapangan pekerjaan
- B. Penduduknya tidak berpendidikan
- C. Penduduknya tidak memiliki keahlian
- D. Kemauan penduduk bekerja rendah
- E. Upah yang tidak cocok dengan tenaga kerja

14. .Faktor yang mempengaruhi kemajuan industri di Amerika Serikat diantaranya adalah

- A. Politik
- B. Hasil jual tinggi
- C. Kualitas produksinya
- D. Daya beli masyarakat tinggi
- E. Laku dipasaran dunia