

PENILAIAN HARIAN TEMA 7 SUBTEMA 2

NAMA :

ALAMAT E-MAIL IBU INTAN : @intanbaiduri38@guru.sd.belajar.id

Perhatikan komik berikut ini untuk menjawab soal nomor 1 dan 2!



SOAL PILIHAN GANDA

1. Berdasarkan komik di atas, agama yang tidak diakui di Indonesia adalah
A. Konghucu
B. Islam
C. Yudaisme
D. Katolik

SOAL BENAR SALAH

2. Pilihlah benar atau salah disesuaikan dengan pernyataan!

A. Bhinneka Tunggal Ika adalah semboyan yang mewakili keberagaman di Indonesia	Benar	Salah
B. Bahasa tidak termasuk dalam unsur-unsur budaya	Benar	Salah

Bacalah teks berikut ini untuk menjawab soal nomor 3 dan 4!

Ahmad Soebarjo

Ahmad Soebarjo juga dikenal sebagai tokoh perumus naskah Proklamasi Kemerdekaan Indonesia. Beliau diperintahkan oleh Ir. Soekarno untuk mengutip kata-kata dari Piagam Jakarta terutama bagian pembukaannya, yaitu "Atas berkat rahmat Allah maka rakyat Indonesia menyatakan kemerdekaannya". Kalimat tersebut diminta untuk dijadikan kalimat pembuka naskah Proklamasi. Pada akhirnya, disepakati kalimat pertama pada teks Proklamasi Kemerdekaan Indonesia adalah "Kami bangsa Indonesia dengan ini menyatakan kemerdekaan Indonesia". Kalimat ini berasal dari kutipan alinea ketiga Piagam Jakarta.

SOAL ISIAN SINGKAT

3. . . . nama tokoh perumus naskah Proklamasi Kemerdekaan Indonesia?
Kata tanya yang sesuai untuk mengisi titik-titik di atas adalah . . .

SOAL TARIK LURUS GARIS

4. Tariklah garis lurus dari kotak kanan ke kotak kiri!

ALINIA

BAKU

BELIAU

TIDAK BAKU

Bacalah teks berikut ini untuk menjawab soal nomor 5 dan 6!

Kalor Mengubah Suhu Benda





Kalor didefinisikan sebagai energi panas yang dimiliki oleh benda. Secara umum, mengetahui adanya kalor yang dimiliki oleh benda dapat dilakukan dengan cara mengukur suhu benda tersebut. Jika suhu benda tinggi, kalor yang dikandung oleh benda juga besar. Sebaliknya, jika suhu benda rendah, kalor yang dikandung oleh benda juga kecil. Suhu dapat mengubah wujud benda. Contoh perubahan wujud benda karena pengaruh suhu tinggi yaitu menguap, mencair, dan menyublim. Sedangkan perubahan wujud benda dikarenakan suhu rendah yaitu membeku, mengembun, dan mengkristal.

SOAL PILIHAN GANDA

5. Perubahan wujud benda dari gas menjadi cair disebut
A. Mengkristal
B. Mengembun
C. Menyublim
D. Menguap

SOAL MENJODOHKAN

6.



MENCAIR

MENYUBLIM

MENGUAP

MENGKRISTAL

Bacalah teks berikut ini untuk menjawab soal nomor 7 dan 8!

UNSUR-UNSUR BUDAYA

Perbedaan merupakan anugerah Tuhan Yang Maha Esa yang perlu dijaga. Satu di antara perbedaan yang dimiliki bangsa Indonesia adalah suku bangsa dan budaya. Sebagai bangsa yang terdiri atas beraneka ragam suku bangsa, kita harus bangga karena suku-suku yang ada mempunyai budaya yang beragam. Keragaman tersebut terlihat jelas dalam unsur-unsurnya. Unsur-unsur budaya ada tujuh yaitu, religi, mata pencaharian, teknologi dan peralatan, kesenian, pengetahuan, sistem kemasyarakatan, dan bahasa.

SOAL TARIK LURUS GARIS

7. Tariklah garis lurus dari kotak kanan ke kotak kiri!

Mata Pencaharian	Marga Sitohang, Sitompul, Nasution
Religi	Peternak, nelayan, pekerja jasa
Sistem kemasyarakatan	Islam, Kristen, Budha

SOAL PILIHAN GANDA

8. Dalam memenuhi kebutuhan hidupnya, manusia telah menemukan cara membuat rumah, alat angkut, dan alat pembuat makanan. Pernyataan di atas termasuk unsur budaya di bidang
- A. Kesenian
 - B. Bahasa
 - C. Pengetahuan
 - D. Teknologi dan Peralatan

Bacalah teks berikut ini untuk menjawab soal nomor 7 dan 8!

Gerak Tari

Gerak tari adalah serangkaian gerakan indah dari dalam tubuh manusia. Penampilan gerak tari akan terasa lebih indah jika ada iringan musiknya. Musik dan tari merupakan satu kesatuan yang tidak dapat dipisahkan. Musik dapat mengatur tempo gerak, sebagai pengiring, memberikan suasana, dan sebagai ilustrasi untuk mempertegas ekspresi gerak. Selain musik atau iringan tarinya, keindahan gerak tari juga dapat dilihat dari pola lantai saat penari memperagakan gerak tari. Tahukah kamu apa yang dimaksud dengan pola lantai? Pola lantai adalah garis-garis di lantai yang dilalui oleh penari dari perpindahan tempat satu ke tempat lain pada saat melakukan gerak tari. Menurut jenisnya, ada tiga bentuk karya tari yang perlu kamu ketahui. Ada bentuk karya tari tunggal, karya tari berpasangan, dan bentuk tari kelompok.

SOAL BENAR SALAH

9. Pilihlah benar atau salah disesuaikan dengan pernyataan!

Musik dan tari merupakan satu kesatuan yang tidak dapat dipisahkan.	Benar	Salah
Menurut jenisnya, ada dua macam bentuk karya tari	Benar	Salah
Musik dapat mengatur tempo gerak dan dapat mempertegas ekspresi gerak	Benar	Salah
Pola lantai adalah serangkaian gerakan indah dalam tubuh manusia.	Benar	Salah

SOAL ISIAN SINGKAT



10. Gambar di atas merupakan contoh bentuk tari . . .