

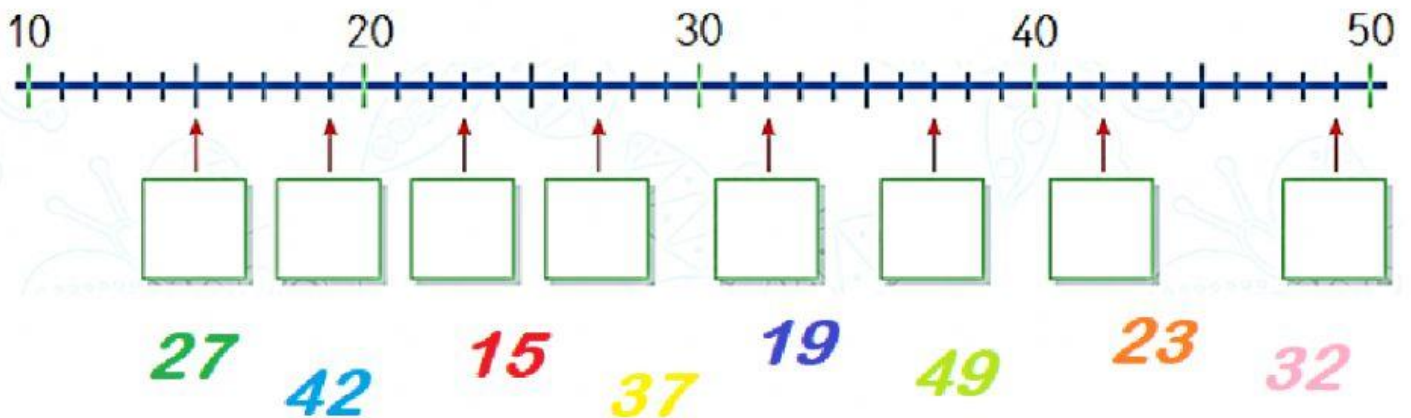


MATEMÀTIQUES

1.- MARCA EL NOMBRE MÉS GRAN:



2.- ESCRIU A LA RECTA NUMÈRICA EL NOMBRE QUE CORRESPONGUI.



3.- RESOL LES SUMES PORTANT:

	D	U
	○	
6		8
2		3

	D	U
	○	
7		2
1		8

	D	U
	○	
5		9
2		3