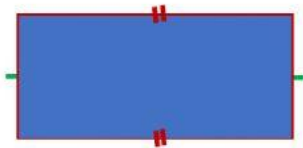


UPH MATEMATIKA KELAS 4 A
(Keliling dan luas persegi, persegi panjang, segitiga)
SD Negeri Muncul 02
TAHUN PELAJARAN 2021/2022

Bacalah basmalah sebelum mengerjakan soal, dan

cermati betul pertanyaannya.....

1. Perhatikan gambar berikut!



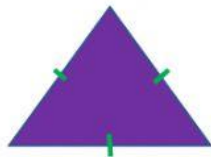
Gambar bangun di samping adalah bangun

- A. Persegi C. persegi panjang
B. Segitiga D. belah ketupat

2. Bangun datar yang memiliki empat sisi sama panjang dan keempat sudutnya siku-siku adalah bangun

- A. Persegi C. segitiga
B. Persegi Panjang D. belah ketupat

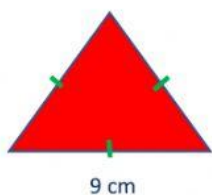
3. Perhatikan gambar berikut!



Gambar bangun di samping adalah bangun

- A. segitiga sama kaki C. segitiga siku-siku
B. segitiga sama sisi D. segitiga sembarang

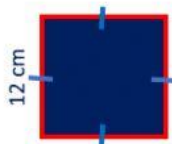
4. Perhatikan gambar di bawah ini!



Keliling gambar bangun di samping = ... cm.

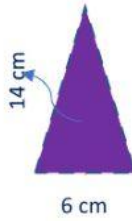
- A. 18 C. 27
B. 26 D. 28

5. Perhatikan gambar berikut!



Keliling gambar bangun di samping = ... cm.

- A. 24 C. 46
B. 42 D. 48



6. Perhatikan gambar berikut!

Luas gambar bangun di samping = ... cm^2 .

- | | |
|-------|-------|
| A. 84 | C. 48 |
| B. 74 | D. 42 |

7. Sebuah kebun berbentuk persegi kelilingnya 32 m.

Panjang salah satu sisinya adalah

- | | |
|--------|--------|
| A. 9 m | C. 7 m |
| B. 8 m | D. 6 m |

8. Perhatikan gambar berikut!



Keliling gambar bangun di samping = ... cm.

- | | |
|-------|-------|
| A. 23 | C. 46 |
| B. 44 | D. 48 |

9. Selembar kain berbentuk persegi panjang dengan ukuran panjang 200 cm dan lebar 75 cm.

Keliling kain tersebut adalah ... cm.

- | | |
|--------|--------|
| A. 550 | C. 450 |
| B. 525 | D. 275 |

10. Diketahui keliling persegi panjang 96 cm, jika diketahui panjang 32 cm, maka ukuran lebar = ... cm.

- | | |
|--------|-------|
| A. 128 | C. 26 |
| B. 64 | D. 16 |

II. Isilah dengan tepat

11. Sebuah persegi panjang berukuran panjang 15 cm dan lebarnya 8 cm. Luas persegi panjang = cm^2 .

12. Sebuah persegi panjang memiliki luas 24 cm^2 yang panjangnya 6 cm, maka lebarnya adalah cm

13. Jika keliling persegi ABCD 80 cm, maka panjang sisinya adalah cm

14. Meja belajar Zahra panjangnya 9 dm dan lebarnya 7 dm. Keliling meja belajar Zahra adalah dm

15. Luas segitiga 14 cm^2 dengan panjang alasnya 4 cm. Tinggi segitiga tersebut adalah cm