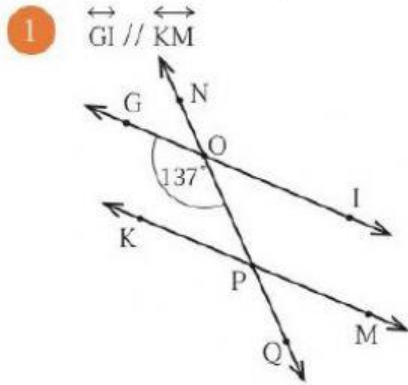


เรื่อง สมบัติของเส้นขนาน 2

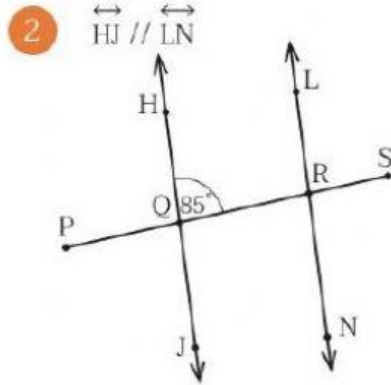
สาระที่ 2 การวัดและเรขาคณิต ตัวชี้วัด ค 2.2 ป.5/1

ชื่อ..... ชั้น..... เลขที่.....

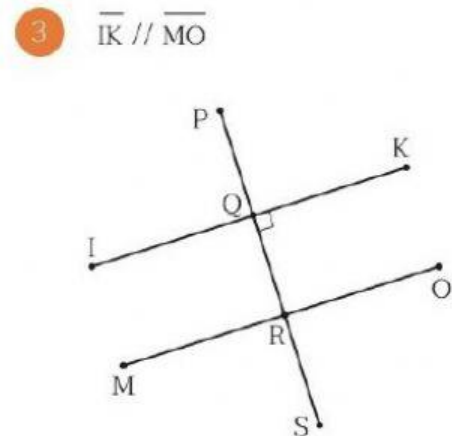
คำชี้แจง พิจารณารูปดังต่อไปนี้ แล้วตอบคำถามให้ถูกต้อง



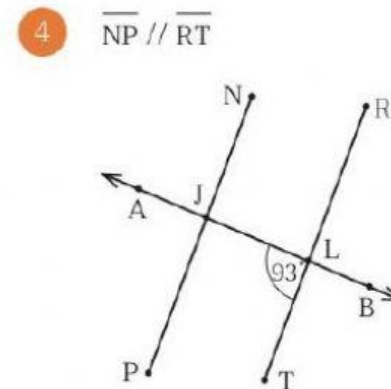
\hat{KPO} มีขนาดเท่าใด ตอบ.....องศา



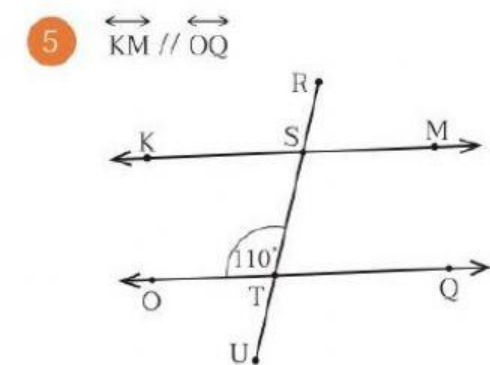
\hat{LRQ} มีขนาดเท่าใด ตอบ.....องศา



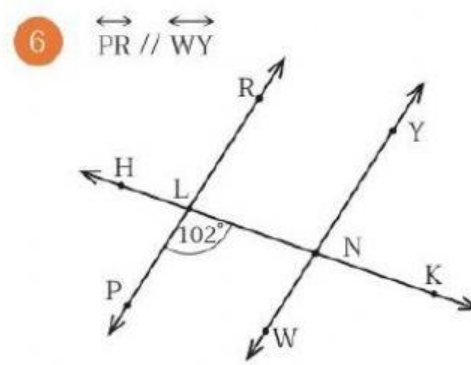
\hat{ORQ} มีขนาดเท่าใด ตอบ.....องศา



\hat{PJL} มีขนาดเท่าใด ตอบ.....องศา



\hat{KST} มีขนาดเท่าใด ตอบ.....องศา



\hat{WNL} มีขนาดเท่าใด ตอบ.....องศา