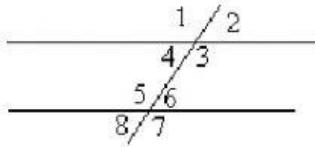


Выніковы тэст па геаметрыі.

7 клас

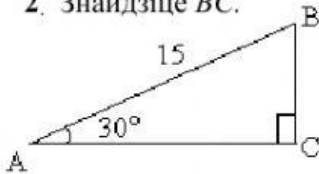
Выберы правільны адказ.

1. $\angle 1$ і $\angle 5$ - гэта..... вуглы.



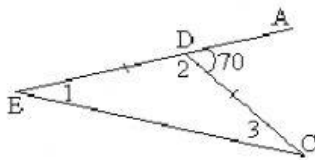
1. сумежныя
2. адпаведныя
3. накрыжлеглыя
4. вертыкальныя
5. правільнага адказу няма.

2. Знайдзіце BC .



1. 30
2. 10
3. 7,5
4. 5
5. правільнага адказу няма.

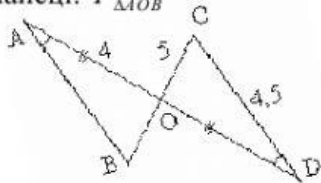
3. Знайдзіце $\angle 1, \angle 2, \angle 3$.



1. $60^\circ, 60^\circ, 60^\circ$.
2. $35^\circ, 110^\circ, 35^\circ$.
3. $20^\circ, 80^\circ, 80^\circ$.
4. $30^\circ, 30^\circ, 120^\circ$.
5. правільнага адказу няма.

4. Дадзена: $AO = DO, \angle A = \angle D, CD = 4,5\text{см}, CO = 5\text{см}, AO = 4\text{см}$.

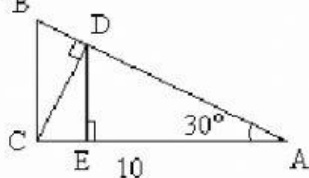
Знайдзіце: $P_{\triangle AOB}$



1. 20см
2. 13,5см
3. 14,5см
4. 16см
5. правільнага адказу няма.

5. Дадзена: $\triangle ABC$ – прамавугольны, $\angle C = 90^\circ, \angle A = 30^\circ, AC = 10\text{ см}, CD \perp AB, DE \perp AC$

Знайдзіце: AE .



1. 8см
2. 6см
3. 5см
4. 7,5см
5. правільнага адказу няма.