


Je travaille mes capacités



2. Mesurer un angle

Faire glisser les angles dans la colonne qui convient.

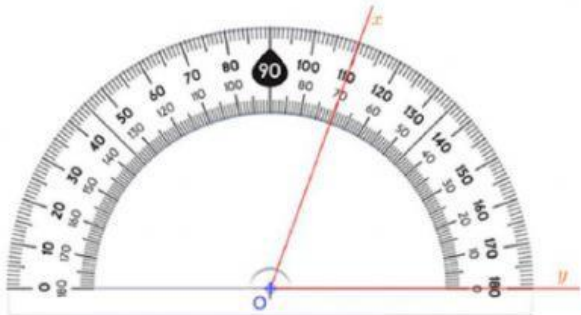


Angle nul	Angle aigu	Angle droit	Angle obtus	Angle plat

[cliquez ici pour avoir de l'AIDE](#)

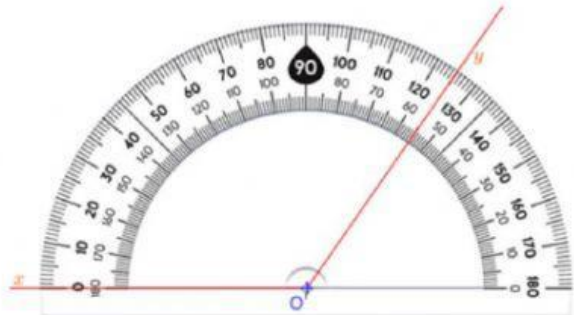
Dans chaque cas donner la mesure de l'angle \widehat{xOy} .

Cas 1



$$\widehat{xOy} = \boxed{}^\circ$$

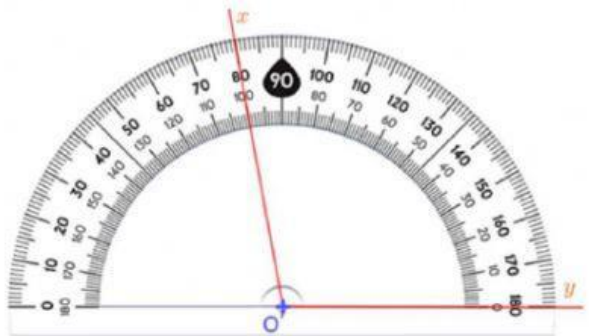
Cas 2



$$\widehat{xOy} = \boxed{}^\circ$$

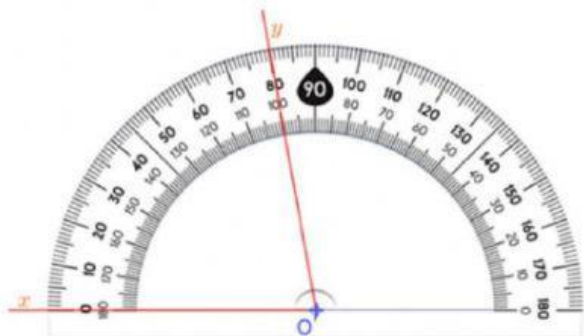
Dans chaque cas donner la mesure de l'angle \widehat{xOy} .

Cas 1



$$\widehat{xOy} = \boxed{}^\circ$$

Cas 2



$$\widehat{xOy} = \boxed{}^\circ$$

[cliquez ici pour avoir de l'AIDE](#)