


Lembar Latihan

Pendidikan Lingkungan

Hari ini kita akan belajar mengenai apa itu sampah dan seperti apasaja jenis-jenisnya! Untuk itu yuk kita simak video pembelajarannya terlebih dahulu ya!



Setelah kita menyaksikan video pembelajarannya, yuk kita isi pertanyaan dibawah ini!

A. Pilihlah jawaban berikut ini!

1. Perhatikan gambar dibawah ini!



Gambar disamping ini termasuk jenis sampah ?

A. Organik

C. Anorganik

B. Semiorganik

D. Suborganik

2. Perhatikan gambar dibawah ini!



Gambar disamping ini termasuk jenis sampah ?

A. Organik

C. Anorganik

B. Kering

D. Basah

3. Perhatikan gambar dibawah ini!



Sampah yang dapat kita buang pada tempat sampah tersebut seperti?

- A. Kulit Pisang
- B. Pulpen
- C. Botol Plastik
- D. Besi dan Kaca





4. Perhatikan gambar dibawah ini!



Sampah yang dapat kita buang pada tempat sampah tersebut seperti?

- A. Sampah Sayur
- B. Sampah Kertas
- C. Sampah Masker
- D. Sampah Daun

B. Tariklah keterangan yang sesuai dengan gambar!

Gambar	Jenis Sampah
	
	
	
	

Organik Basah

Anorganik

Organik Kering

Anorganik